



موسسه ایران دانش نوین

رویای خودت شو...



@IranDaneshNovies

برای دانلود بقیه ی گام به گام ها و جزوات با کلیک روی لینک
های زیر به سایت یا کانال ما در تلگرام سر بزنید:

www.IDNovin.com

<https://telegram.me/irandaneshnovin>




فیزیک یازدهم کیمیا

از مجموعه مرشد

رشته ریاضی فیزیک

حسین ایزدانی ■ کیوان طهوی







مقدمه:

به نام خداوند جان و خرد

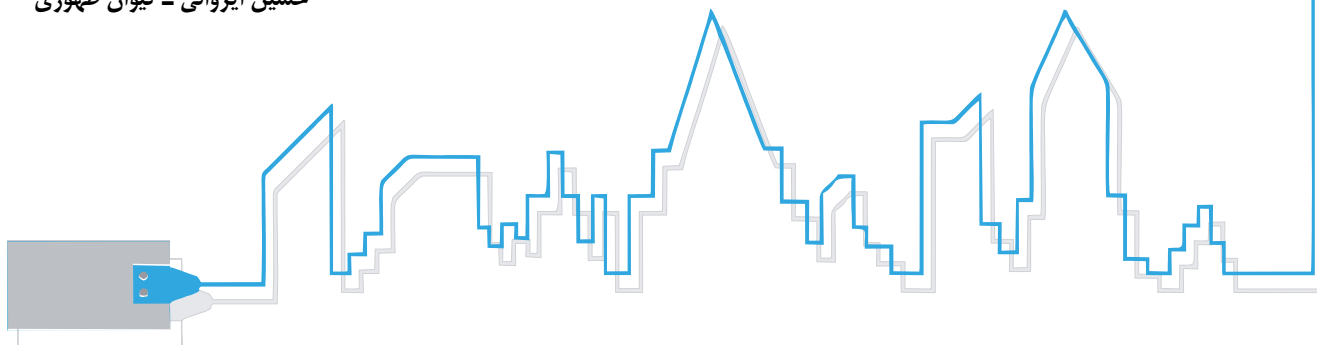
کزین برتر اندیشه بر نگذرد

سپاس فراوان خداوند منان را که ما را آموخت و آموختن فرمود. هدف ما از تألیف کتاب «فیزیک یازدهم کیمیا» از مجموعه مرشد، فراهم آوردن منبعی مناسب و جامع برای آزمون‌های چهارگزینه‌ای آزمایشی و از همه مهمتر موفقیت در کنکور سراسری برای دانش‌آموزانی است که مایلند در بهترین رشته‌های گروه آزمایشی ریاضی - فیزیک، دانشگاه‌های بنام کشور تحصیل کنند.

از ویژگی‌های کتاب «فیزیک یازدهم کیمیا» می‌توان به موارد زیر اشاره کرد:

- ۱ پوشش ۱۰۰ درصدی مطالب کتاب درسی فیزیک یازدهم.
 - ۲ درسنامه کامل برای هر فصل همراه با تست‌های آموزشی که همه نکات تستی و تشریحی مرتبط با آن مبحث را بیان می‌کند.
 - ۳ طراحی تست‌های متنوع و همچنین پوشش خطبه‌خط کتاب درسی برای تسلط بیشتر بر مفاهیم آن و چپش مناسب تست‌ها.
 - ۴ ارائه حدود ۴۰۰ تست منتخب از سؤالات کنکور سراسری سال‌های اخیر.
 - ۵ طرح بیش از ۱۲۰۰ پرسش چهارگزینه‌ای تألیفی متنوع.
 - ۶ تست‌ها و نکاتی که با آیکون  برای دانش‌آموزان ممتاز مشخص شده‌اند و شامل نکاتی هستند که در سال دوازدهم خوانده می‌شوند و یا خارج از سطح کتاب درسی فیزیک یازدهم می‌باشند.
 - ۷ طراحی ۲ آزمون در پایان هر فصل برای ارزیابی عملکرد دانش‌آموزان و دوره مفاهیم طول فصل.
 - ۸ پاسخ‌های کلیدی سؤالات در انتهای کتاب (پاسخ‌های تشریحی و کامل سؤالات در جلد پاسخ این کتاب آورده شده است).
- در پایان وظیفه خود می‌دانیم که از مدیرعامل محترم انتشارات مبتکران جناب آقای یحیی دهقانی که امکان چاپ این کتاب را فراهم کردند قدردانی کنیم. همچنین از دبیر محترم مجموعه جناب آقای مهندس هادی عزیززاده که همواره حامی و پشتیبان ما بودند تشکر می‌کنیم.
- همچنین از خانم مینا عباسی که زحمت حروف‌چینی و صفحه‌آرایی کتاب را برعهده داشتند و خانم‌ها نسرین صفری و بهاره خدای (گرافیسرها) و خانم‌ها رضیه صفریان و مینا هرمزی (طراح جلد) بسیار ممنونیم و برای این عزیزان آرزوی موفقیت داریم.
- تشکر ویژه‌ای می‌کنیم از آقایان غلامرضا طهوری، کاوه طهوری و یاشمار محمودی و خانم‌ها هما قره‌حسن‌لو، فرشته زعیم‌کهن و شیرین طهوری که در طول تألیف این کتاب ما را یاری کردند.

حسین ایروانی - کیوان طهوری



فهرست:

فصل اول:

الکتروسیسته ساکن

سؤال	درس نامه	
۴۲	۸	بار الکتریکی
۴۲	۸	پایستگی و کوانتیده بودن بار الکتریکی
۴۲	۹	روش های باردار کردن اجسام
۴۴	۱۲	الکتروسکوپ
۴۴	۱۴	نیروی الکتریکی و قانون کولن
۴۷	۱۵	برهم نهی نیروهای الکتروستاتیکی
۵۲	۱۹	میدان الکتریکی
۵۳	۲۰	برهم نهی میدان های الکتریکی
۵۸	۲۱	خطوط میدان الکتریکی
۶۰	۲۳	کار نیروی میدان الکتریکی و انرژی پتانسیل الکتریکی
۶۳	۲۵	پتانسیل الکتریکی
۶۶	۲۸	کار انجام شده روی ذره باردار توسط نیروی خارجی
۶۷	۲۸	میدان الکتریکی و توزیع بار در رساناها
۶۹	۲۹	چگالی سطحی بار الکتریکی رسانا
۷۱	۳۱	خازن و ظرفیت خازن
۴۳	۳۴	میدان الکتریکی بین صفحات خازن تخت
۷۵	۳۵	خازن با دی الکتریک
۷۷	۳۷	انرژی خازن
۷۹	۳۹	☆ اتصال صفحات دو خازن شارژ شده
۸۱		آزمون ۱ فصل اول
۸۳		آزمون ۲ فصل اول

فصل دوم:

جریان الکتریکی و مدارهای جریان مستقیم

۱۲۹	۸۸	جریان الکتریکی
۱۳۲	۹۱	مقاومت الکتریکی و قانون اهم
۱۳۴	۹۲	عوامل مؤثر بر مقاومت الکتریکی
۱۳۸	۹۴	تغییر مقاومت ویژه با دما
۱۴۰	۹۷	انواع مقاومت ها و کدگذاری رنگی مقاومت کربنی
۱۴۲	۹۸	مقاومت های خاص و دیودها
۱۴۴	۱۰۱	نیروی محرکه الکتریکی و مدارها
۱۴۵	۱۰۲	قاعده حلقه یا قانون ولتاژها
۱۴۵	۱۰۳	مدار تک حلقه و افت پتانسیل در مقاومت
۱۵۷	۱۱۰	توان و انرژی الکتریکی مصرفی در یک مقاومت
۱۶۱	۱۱۲	توان خروجی یک منبع نیروی محرکه واقعی (توان مولد تولیدکننده)
۱۶۵	۱۱۵	قاعده انشعاب یا قانون جریان ها
۱۶۷	۱۱۶	به هم بستن متوالی (سری) مقاومت ها
۱۷۱	۱۱۸	به هم بستن موازی مقاومت ها
۱۷۹	۱۲۱	ترکیب به هم بستن متوالی و موازی مقاومت ها

سؤال **درس نامه**

۲۰۰	۱۲۷	مدارهای شامل خازن و مقاومت (مدارهای RC)
۲۰۲		آزمون ۱ فصل دوم
۲۰۵		آزمون ۲ فصل دوم

فصل سوم:

مغناطیس

۲۲۸	۲۱۰	مغناطیس و قطب‌های مغناطیسی
۲۲۸	۲۱۱	میدان مغناطیسی
۲۳۱	۲۱۳	میدان مغناطیسی زمین
۲۳۲	۲۱۳	میدان مغناطیسی یکنواخت
۲۳۲	۲۱۳	نیروی مغناطیسی وارد بر ذره باردار متحرک در میدان مغناطیسی
۲۳۹	۲۱۶	نیروی مغناطیسی وارد بر سیم حامل جریان
۲۴۵	۲۱۹	میدان مغناطیسی حاصل از سیم حامل جریان
۲۵۱	۲۲۰	نیروی بین سیم‌های موازی حامل جریان
۲۵۳	۲۲۰	میدان مغناطیسی حاصل از یک حلقه و یا پیچۀ مسطح حامل جریان
۲۵۸	۲۲۳	میدان مغناطیسی حاصل از سیملوله حامل جریان
۲۶۲	۲۲۵	ویژگی‌های مغناطیسی مواد
۲۶۴		آزمون ۱ فصل سوم
۲۶۶		آزمون ۲ فصل سوم

فصل چهارم:

**القای الکترومغناطیسی
و جریان متناوب**

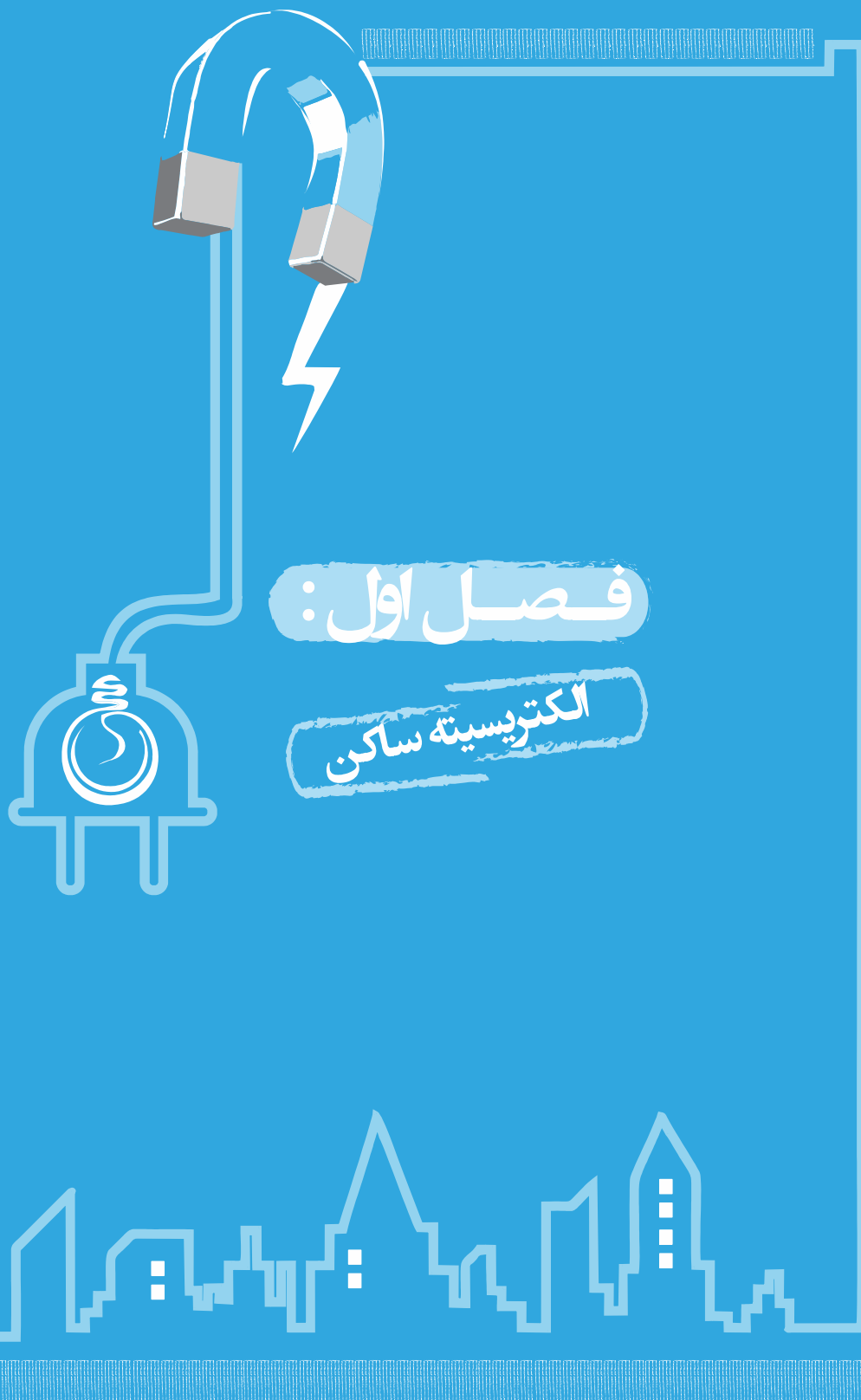
۲۸۸	۲۷۰	پدیده القای الکترومغناطیسی
۲۸۶	۲۷۱	شار مغناطیسی
۲۸۸	۲۷۳	قانون القای الکترومغناطیسی فاراده
۲۹۸	۲۷۶	قانون لنز
۳۰۲	۲۷۷	القاگرها و پدیده خود - القاوری
۳۰۴	۲۷۹	ضریب القاوری
۳۰۶	۲۸۰	انرژی ذخیره شده در القاگرها
۳۰۸	۲۸۰	القای متقابل
۳۱۰	۲۸۱	جریان متناوب
۳۱۴	۲۸۴	مبدل‌ها
۳۱۷		آزمون ۱ فصل چهارم
۳۲۰		آزمون ۲ فصل چهارم

پرسش های کنکور سراسری ۹۶

۳۲۳

پاسخ نامه کلیدی

۳۲۹





درسنامه

فصل ۱: الکتريسته ساكن

بار الكتریکي

در طبیعت دو نوع بار الكتریکي وجود دارد كه آنها را بارهای مثبت و منفي نام گذاری کرده اند. وقتی در يك جسم از این دو نوع بار به مقدار مساوی وجود داشته باشد، جمع جبری بارهای جسم صفر می شود كه به معنی خنثی بودن آن جسم است.

يكای بار الكتریکي در SI، كولن (C) است.

توجه: يك كولن مقدار بار بزرگی است و مثلاً در يك آذرفش، باری از مرتبه 10^{-10} C به زمین منتقل می شود. از این رو غالباً با بارهایی از مرتبه میکروكولن (μC) و نانوكولن (nC) سروكار داریم.

بارهای الكتریکي همنام يكديگر را جذب می کنند و بارهای الكتریکي غيرهمنام يكديگر را دفع می کنند.

چند نکته درباره اتم:



۱ اندازه بار الكتریکي الكترون و پروتون با هم يكسان و برابر با بار بنیادی ($e = 1.6 \times 10^{-19}$) است. همچنين نوترون بار الكتریکي ندارد.

۲ به طور قراردادی بار الكترون را منفي و بار پروتون را مثبت فرض می کنند.

جرم (kg)	بار (C)	نام ذره
9.1×10^{-31}	$-e = -1.6 \times 10^{-19}$	الکترون
1.67×10^{-27}	$+e = +1.6 \times 10^{-19}$	پروتون
1.68×10^{-27}	۰	نوترون

۳ اتم در حالت عادی خنثی است؛ زیرا تعداد الكترون ها و پروتون های آن با هم برابر است.

پایستگی و کوانتیده بودن بار الكتریکي

اصل پایستگی بار: مجموع جبری همه بارهای الكتریکي در يك دستگاه منزوی ثابت است؛ یعنی بار می تواند از جسمی به جسم دیگر منتقل شود ولی هرگز امکان تولید یا نابودی يك بار خالص وجود ندارد.

توجه: منظور از دستگاه منزوی در اینجا دستگاهی است كه نه از محیط اطراف فود بار بگیرد و نه به آن بار بدهد.

اصل کوانتیده بودن بار: یعنی بار الكتریکي يك جسم باردار همواره مضرب درستی از بار بنیادی e است:

(+) زمانی كه جسم الكترون از دست می دهد

$$q = \pm ne \text{ و } n = 0, 1, 2, \dots$$

(-) زمانی كه جسم الكترون بگیرد

توجه: در این رابطه n تعداد الكترون های مبادله شده است.



شرط‌های وجود بار الکتریکی:



- ۱ باری کمتر از بار بنیادی (e) وجود ندارد: $(|q| \geq 1/6 \times 10^{-19} C)$
- ۲ بار الکتریکی باید مضرب صحیحی از بار الکترون باشد: $(n = \frac{|q|}{e} \in \mathbb{Z})$

نمونه بار یک جسم نمی‌تواند $0.5e, \frac{4}{3}e, 2/5e, \dots$ باشد.



تست ۱ اگر به جسمی که دارای بار الکتریکی منفی است $7/5 \times 10^{13}$ عدد الکترون بدهیم، بار آن ۴ برابر می‌شود. بار نهایی جسم چند میکرو کولن است؟ $(e = 1/6 \times 10^{-19} C)$

- (۱) -۱۶
- (۲) -۴
- (۳) ۸
- (۴) -۸

پاسخ ابتدا تغییر اندازه بار جسم را به دست می‌آوریم که به خاطر الکترون‌های دریافت شده است:

$$\Delta q = -ne = -7/5 \times 10^{13} \times 1/6 \times 10^{-19} = -12 \times 10^{-6} C$$

چون به جسم الکترون داده‌ایم، پس بار آن کاهش یافته است (یعنی بار جسم منفی‌تر شده است):

$$q_2 = 4q_1 \Rightarrow q_1 - 12 \times 10^{-6} = 4q_1 \Rightarrow 3q_1 = -12 \times 10^{-6} \Rightarrow q_1 = -4 \times 10^{-6} C = -4 \mu C$$

$$q_2 = 4q_1 = 4 \times (-4) = -16 \mu C$$

پس بار نهایی جسم برابر است با: بنابراین گزینه «۱» درست است.

تقسیم‌بندی اجسام از نظر رسانش الکتریکی

سری الکتریسیته مالشی

(تریبوالکتریک)

انتهای مثبت سری
موی انسان
شیشه
نایلون
پشم
موی گربه
سُرب
ابریشم
آلمینیم
کاغذ
چوب
پارچه کتان
کهربا
برنج، مس
پلاستیک، پلی اتیلن
لاستیک
تفلون
انتهای منفی سری

۱ اجسام رسانا

این اجسام دارای الکترون‌های آزاد هستند که می‌توانند به آزادی در آن‌ها حرکت کنند؛ مانند فلزات. در این اجسام، بار داده‌شده به سطح رسانا آمده و در سطح خارجی آن توزیع می‌شود و بار خالص درون رسانا صفر است.

۲ اجسام نارسانا

اجسامی هستند که به دلیل عدم وجود الکترون‌های آزاد، بار نمی‌توانند به آزادی در آن‌ها حرکت کنند. در این اجسام، بار داده‌شده در محل تماس باقی‌مانده و توزیع نمی‌شود.

۳ اجسام نیم‌رسانا

این اجسام در دمای پایین نارسانا بوده و در دمای محیط رسانش الکتریکی را انجام می‌دهند؛ مانند ژرمانیم و سیلیسیم.

روش‌های باردار کردن اجسام

باردار کردن اجسام به سه روش مالش، تماس و القا صورت می‌گیرد.

۱ روش مالش

این روش بیشتر برای باردار کردن اجسام نارسانا به کار می‌رود. در هنگام مالش دو جسم، با انتقال تعدادی الکترون از یک جسم به جسمی دیگر، تعادل بارها در اتم خنثی بر هم می‌خورد و جسمی که الکترون از دست می‌دهد، تعداد الکترون‌هایش کمتر از تعداد پروتون‌های آن می‌شود و بار الکتریکی خالص آن مثبت می‌گردد و برعکس، جسمی که الکترون اضافی دریافت می‌کند، الکترون‌هایش از پروتون‌های آن بیشتر شده و بار الکتریکی خالص آن منفی می‌شود.

نکته طبق اصل پایستگی بار، بار مثبت و منفی ایجادشده در اثر مالش با هم برابرند؛ یعنی پس از باردار شدن دو جسم در اثر مالش، بار الکتریکی فاصل آن‌ها هم‌اندازه ولی ناهم‌نام است.



نوع باری که جسم بر اثر مالش پیدا می‌کند بر اساس جدولی موسوم به **سری الکتروسیسته مالشی (تریبو الکتریک)** که در صفحه قبل آمده است، معلوم می‌شود. در این جدول مواد پایین‌تر الکترون‌خواهی بیشتری دارند؛ یعنی اگر دو ماده در تماس با یکدیگر قرار گیرند، الکترون‌ها از ماده بالاتر جدول به ماده‌ای که در جدول پایین‌تر قرار دارد منتقل می‌شود.

توجه: جسم بالاتر در سری تریبو الکتریک پس از مالش بار مثبت و جسم پایین‌تر پس از مالش بار منفی پیدا می‌کنند.

نمونه ۱ اگر تیغه‌ای شیشه‌ای با پارچه ابریشمی مالش یابد، الکترون‌ها از شیشه به ابریشم منتقل می‌شوند و تیغه شیشه‌ای بار مثبت و پارچه ابریشمی بار منفی پیدا می‌کنند.

نمونه ۲ اگر تیغه‌ای پلاستیکی با پارچه پشمی مالش یابد، الکترون‌ها از پشم به پلاستیک منتقل می‌شوند و تیغه پلاستیکی بار منفی و پارچه پشمی بار مثبت پیدا می‌کنند.

تست ۲ سه جسم A، B و C را با پارچه پشمی مالش می‌دهیم. وقتی A و B را به یکدیگر نزدیک می‌کنیم، یکدیگر را با نیروی الکتریکی جذب می‌کنند و اگر B و C را به یکدیگر نزدیک می‌کنیم، یکدیگر را با نیروی الکتریکی دفع می‌کنند. کدام یک از گزینه‌های زیر حتماً درست است؟

۱) B و C بار غیرهمنام دارند.

۲) B در سری تریبو الکتریک بالاتر از C قرار می‌گیرد.

۳) A و B بار غیرهمنام ولی هم‌اندازه دارند.

۴) ماده سازنده A و B در سری تریبو الکتریک در طرفین پشم قرار می‌گیرد.

پاسخ: چون A و B یکدیگر را جذب می‌کنند بنابراین دارای بارهای الکتریکی غیرهمنام هستند. پس در مالش با پارچه پشمی دارای بارهای غیرهم‌علامت شده‌اند و در نتیجه ماده سازنده آن‌ها در سری تریبو الکتریک در طرفین پشم قرار می‌گیرد. بنابراین گزینه «۴» درست است. بررسی سایر گزینه‌ها: بارهای A و B غیرهمنام هستند ولی لزومی ندارد هم‌اندازه باشند (رد گزینه «۳»). همچنین چون B و C یکدیگر را دفع می‌کنند، بنابراین دارای بارهای همنام هستند و در سری تریبو الکتریک در یک طرف پشم قرار می‌گیرند ولی نمی‌توان گفت که کدام یک بالاتر قرار می‌گیرد. (رد گزینه‌های «۱» و «۲»).

۲ روش تماس

اگر یک جسم بدون بار رسانا را با یک جسم رسانای باردار تماس دهیم، آن‌قدر الکترون بین دو جسم مبادله می‌شود تا پتانسیل الکتریکی دو جسم یکسان شود.

یادآوری: اختلاف پتانسیل الکتریکی عامل شارش بار الکتریکی است.

جهت حرکت الکترون‌ها از پتانسیل الکتریکی کمتر به پتانسیل الکتریکی بیشتر است.

در این روش دو جسم دارای بار همنام می‌شوند.

اگر دو جسم رسانا هم‌اندازه و هم‌شکل باشند، بار آن‌ها پس از تماس برابر می‌شود.

نکته ۳ تماس دو کره رسانا:

اگر کره رسانا به شعاع r_1 را که دارای بار q_1 است، با کره رسانای دیگری به شعاع r_2 که دارای بار q_2 است، تماس دهیم، بار بین کره‌ها به نسبت شعاع‌ها تقسیم می‌شود تا دو کره هم‌پتانسیل شوند. در این صورت بار هر یک از کره‌ها پس از تماس (q'_1 و q'_2) برابر می‌شود با:

$$q'_1 = \frac{q_1 + q_2}{r_1 + r_2} \times r_1 \quad \text{و} \quad q'_2 = \frac{q_1 + q_2}{r_1 + r_2} \times r_2$$

توجه: دلیل این امر آن است که پتانسیل اجسام کروی باردار با آن‌ها رابطه مستقیم و با شعاع آن‌ها رابطه عکس دارد:

$$V \propto \frac{q}{r}$$

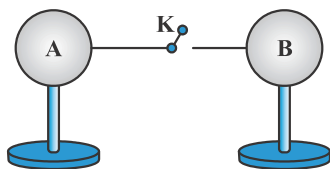
از نکته بالا نتیجه می‌شود که اگر دو کره با شعاع یکسان و بارهای q_1 و q_2 را به هم تماس دهیم، بار هر یک پس از تماس برابر خواهد بود با

$$q'_1 = q'_2 = \frac{q_1 + q_2}{2}$$

(در این رابطه q_1 و q_2 با علامت جای‌گذاری می‌شوند).

در حالت کلی اگر n کره باردار مشابه را با هم تماس دهیم، بار هر یک پس از تماس (q') برابر خواهد شد با:

$$q' = \frac{q_1 + q_2 + \dots + q_n}{n}$$



تست ۳ در شکل زیر، بار اولیه کره‌های مشابه A و B به ترتیب برابر با $-2\mu C$ و $14\mu C$ است. اگر کلید K را ببندیم چند الکترون و در چه جهتی بین دو کره جابه‌جا می‌شود؟ (فرض شود که هیچ بار الکتریکی‌ای روی سیم قرار نمی‌گیرد و $e = 1.6 \times 10^{-19} C$)

- (۱) $3/75 \times 10^{13}$ از A به B (۲) $3/75 \times 10^{13}$ از B به A (۳) 5×10^{13} از B به A (۴) 5×10^{13} از A به B

پاسخ ابتدا بار الکتریکی هر یک از کره‌ها را بعد از بستن کلید حساب می‌کنیم. چون کره‌ها مشابه‌اند، طبق اصل پایستگی بار الکتریکی، بعد از تماس، بار آن‌ها مشابه و برابر است با:

$$q'_A = q'_B = \frac{q_A + q_B}{2} = \frac{-2\mu C + 14\mu C}{2} = 6\mu C$$

حال مقدار بار شارش‌شده بین دو کره را حساب می‌کنیم و سپس تعداد الکترون‌های جابه‌جا شده را به دست می‌آوریم:

$$\Delta q = q'_A - q_A = 6 - (-2) = 8\mu C = 8 \times 10^{-6} C \Rightarrow n = \frac{\Delta q}{e} = \frac{8 \times 10^{-6}}{1.6 \times 10^{-19}} = 5 \times 10^{13}$$

می‌دانیم جهت حرکت خودبه‌خودی الکترون‌ها همواره از پتانسیل الکتریکی کمتر (بار منفی) به طرف پتانسیل الکتریکی بیشتر (بار مثبت) است، پس الکترون‌ها از کره A به طرف کره B جابه‌جا می‌شوند. بنابراین گزینه «۴» درست است.

روش القای بار الکتریکی

به کمک روش القا می‌توان بدون تماس جسم رسانا با جسمی باردار بر روی آن بار الکتریکی القا کرد.

در این روش بار مثبت و منفی القاشده با هم برابر است.

مراحل باردار کردن یک کره رسانا به روش القا

فرض کنید بخواهیم در کره بار منفی ایجاد کنیم. در این صورت مراحل باردار کردن به صورت زیر است:

توضیح هر مرحله	شکل هر مرحله	توضیح هر مرحله	شکل هر مرحله
چون می‌خواهیم در کره بار منفی ایجاد کنیم بنابراین میله‌ای با بار مثبت به کره نزدیک می‌کنیم. با نزدیک کردن میله باردار، بار مثبت و منفی القایی در کره ناهمنام از بارهای همنام به هم نزدیک‌تر بوده پس میله و کره هم‌دیگر را می‌ربایند.		ابتدا کره بدون بار است و روی پایه عایق قرار دارد.	
اتصال به زمین را قطع می‌کنیم.		کره رسانا را به زمین متصل می‌کنیم و بارهای منفی از زمین به کره منتقل می‌شوند و بارهای مثبت القایی کره را خنثی می‌کنند.	
میله را از رسانا دور می‌کنیم. بار روی سطح خارجی رسانا پخش می‌شود.			

در این روش، جسم دارای باری ناهمنام با بار میله باردار می‌شود.

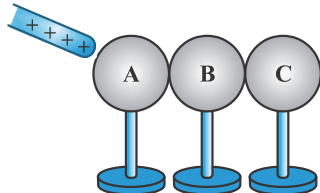
مراحل باردار کردن دو کره رسانای خنثی:



توضیح هر مرحله	شکل هر مرحله	توضیح هر مرحله	شکل هر مرحله
میله‌ای با بار منفی (مثلاً میله پلاستیکی مالش داده شده با پارچه پشمی) را به آن‌ها نزدیک می‌کنیم. توزیع بار مطابق شکل می‌شود.		ابتدا دو کره فلزی خنثی با پایه‌های نارسانا را در نظر بگیرید که در تماس با یکدیگر قرار دارند.	
میله باردار از دو کره دور کرده و کره‌ها را در فاصله دور از هم قرار می‌دهیم. بار روی سطح خارجی کره‌ها پخش می‌شود.		در حضور میله باردار دو کره را از هم جدا می‌کنیم و دو کره دارای بار مثبت و منفی القایی می‌شوند.	

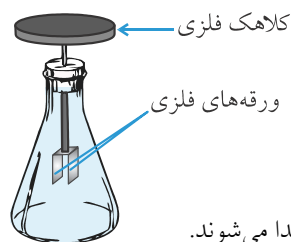
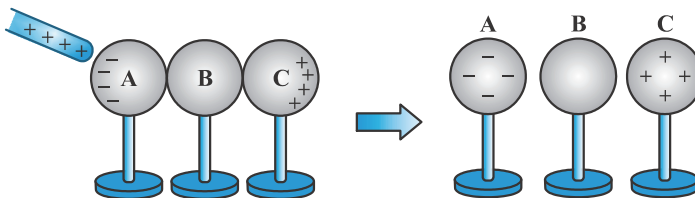
در این‌جا نیز کره‌ای که نزدیک به میله باردار است، دارای باری ناهمنام با بار میله باردار و کره دورتر دارای باری همنام با بار میله باردار می‌شود.

تست ۴ مطابق شکل زیر، میله‌ای با بار الکتریکی مثبت را به سه کره رسانای خنثی که در تماس با هم هستند، نزدیک کرده و نگه می‌داریم. اگر در این حالت سه کره را از یکدیگر جدا کنیم و سپس میله باردار را دور کنیم، علامت بار کره‌های A، B و C به ترتیب از راست به چپ کدام است؟ (پایه‌های عایق هستند).



- ۱) منفی، مثبت، مثبت
- ۲) منفی، منفی، مثبت
- ۳) مثبت، خنثی، منفی
- ۴) منفی، خنثی، مثبت

پاسخ ۴ مطابق شکل زیر، وقتی میله با بار مثبت را به کره A نزدیک می‌کنیم، الکترون‌های آزاد به نزدیک‌ترین نقطه یعنی سمت چپ کره A منتقل می‌شود و در سمت راست کره C بار مثبت باقی می‌ماند؛ بنابراین با جدا کردن کره‌ها، کره B بدون بار (خنثی) باقی می‌ماند و کره A بار منفی و کره C بار مثبت پیدا می‌کند. بنابراین گزینه «۴» درست است.

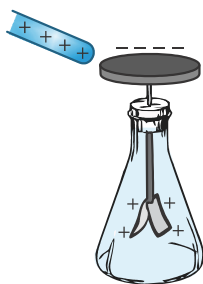


الکتروسکوپ

- الکتروسکوپ از یک کلاهک، یک میله و دو ورقه نازک فلزی تشکیل شده است.
- معمولاً برای تشخیص باردار بودن یک جسم و تعیین نوع بار آن از الکتروسکوپ استفاده می‌شود.
- وقتی الکتروسکوپ بدون بار است ورقه‌های آن به هم نزدیک‌اند و وقتی باردار می‌شود، ورقه‌های آن از هم جدا می‌شوند.

۱) روش تشفیص باردار بودن جسم:

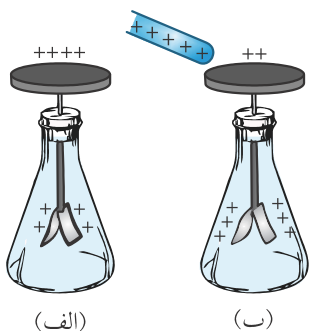
اگر به یک الکتروسکوپ بدون بار جسمی باردار نزدیک شود، کلاهک آن دارای بار ناهمنام و ورقه‌ها دارای بار همنام با جسم شده و ورقه‌ها از هم باز می‌شوند. اگر جسم بدون بار باشد تغییری در وضعیت ورقه‌های الکتروسکوپ ایجاد نمی‌شود.
هر چقدر میله باردار را بیشتر نزدیک کنیم، فاصله ورقه‌های الکتروسکوپ بیشتر می‌شود.




۲) روش تشفیص نوع بار جسم:

برای این کار از یک الکتروسکوپ باردار استفاده می‌شود. دو حالت پیش می‌آید:

۱- اگر جسم دارای بار همنام با بار الکتروسکوپ باشد، در این صورت با نزدیک کردن جسم به آن، انحراف ورقه‌های الکتروسکوپ بیشتر می‌شود.



۲- اگر جسم دارای بار ناهمنام نسبت به بار الکتروسکوپ باشد، در این صورت با نزدیک کردن جسم به آن، انحراف ورقه‌های الکتروسکوپ کم می‌شود. در این حالت اگر بار جسم زیاد باشد هرچه جسم به الکتروسکوپ نزدیک‌تر شود، انحراف ورقه‌ها کمتر شده و سرانجام ورقه‌ها بسته می‌شوند. اما ممکن است ورقه‌ها مجدداً منحرف شوند.



نکته ۴

اگر به یک الکتروسکوپ باردار، جسمی رسانا و بدون بار نزدیک کنیم، در اثر القا، رسانا دارای بار شده به گونه‌ای که سمتی که نزدیک الکتروسکوپ است دارای بار ناهمنام با الکتروسکوپ شده و مقداری از بار ورقه‌های الکتروسکوپ را به سوی خود کشیده و انحراف ورقه‌های الکتروسکوپ کم می‌شود.

تست ۵

بار نزدیک کردن جسم A به یک الکتروسکوپ با بار منفی، ورقه‌های الکتروسکوپ به هم نزدیک می‌شوند. در این صورت چه تعداد از موارد زیر درباره جسم A می‌تواند درست باشد؟

- الف) می‌تواند تیغه‌ای شیشه‌ای باشد که در تماس با پارچه ابریشمی باردار شده است.
- ب) جسم A دارای بار منفی است.
- پ) جسم A می‌تواند رسانایی بدون بار باشد.
- ت) حتماً دارای بار مثبت است.

۲ (۴)

۴ (۳)

۳ (۲)

۱ (۱)

پاسخ: با توجه به این که الکتروسکوپ دارای بار منفی است و با نزدیک کردن جسم A به آن ورقه‌های الکتروسکوپ به هم نزدیک شده است، پس جسم A یا دارای بار مثبت است و یا رسانایی بدون بار است. بنابراین موارد (ب) و (ت) نادرست است و مورد (پ) درست است. اما در مورد (الف) می‌دانیم که تیغه شیشه‌ای در تماس با پارچه ابریشمی دارای بار مثبت می‌شود، بنابراین مورد (الف) نیز درست است. (به سری تریبولکتریک مراجعه کنید.)

بنابراین گزینه «۴» درست است.

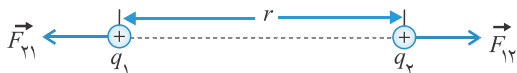
نیروی الکتریکی و قانون کولن



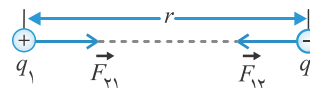
فیزیک یازدهم کیمیا

نیروی الکتریکی (الکتروستاتیکی) بین دو بار نقطه‌ای که در راستای خط مستقیم بین آنها اثر می‌کند با حاصلضرب بزرگی بارها نسبت مستقیم و با مجذور فاصله بین آنها نسبت معکوس دارد:

$$F \propto \frac{|q_1| |q_2|}{r^2}$$



نیروی الکتریکی بین دو بار الکتریکی همنام، دافعه است.



نیروی الکتریکی بین دو بار الکتریکی ناهمنام، جاذبه است.

نیروهای الکتریکی که دو ذره باردار به یکدیگر وارد می‌کنند بنا به قانون سوم نیوتون هم‌اندازه، هم‌راستا و در خلاف جهت همدیگرند:

$$\vec{F}_{12} = -\vec{F}_{21} \rightarrow F_{12} = F_{21} = F$$

$$F = k \frac{|q_1| |q_2|}{r^2}$$

اندازه این نیرو از رابطه مقابل به دست می‌آید:

ثابت کولن نام دارد و مقدار آن در خلأ برابر است با:

$$k \approx 9 \times 10^9 \frac{N \cdot m^2}{C^2}$$

ثابت کولن نام دارد و مقدار آن در خلأ برابر است با:

k را بر حسب ضریب گذردهی الکتریکی خلأ (ϵ_0) نیز می‌توان نوشت:

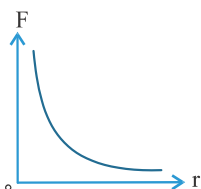
$$k = \frac{1}{4\pi\epsilon_0} \quad \text{و} \quad \epsilon_0 = 8.85 \times 10^{-12} \frac{C^2}{N \cdot m^2}$$

برای محیط‌های نارسانای دیگر (غیر از خلأ) ضریب گذردهی الکتریکی بیشتر از ϵ_0 است. بنابراین:

$$k \propto \frac{1}{\epsilon} \rightarrow k < k_0 \text{ (در محیط‌های غیر خلأ)}$$



نمودار نیروی بین دو بار (F) بر حسب فاصله بین آنها (r) به صورت روبه‌رو است:



$$F \propto \frac{1}{r^2}$$

تست ۶ دو کره کوچک مشابه رسانا با بارهای مثبت q_1 و q_2 ($q_1 \neq q_2$) در فاصله r بر هم نیروی F را وارد می‌کنند. چنانچه دو کره را با هم تماس داده و مجدداً در فاصله r قرار دهیم، نیروی بین آنها چگونه تغییر می‌کند؟

- (۱) ثابت می‌ماند. (۲) کمتر می‌شود. (۳) بیشتر می‌شود. (۴) بستگی به مقدار q_1 و q_2 دارد.

پاسخ: وقتی دو کره را به هم تماس می‌دهیم چون دو کره مشابه و رسانا هستند بنابراین بار آنها با هم برابر شده و بار هر یک از کره‌ها برابر خواهد شد با:

$$q'_1 = q'_2 = \frac{q_1 + q_2}{2}$$

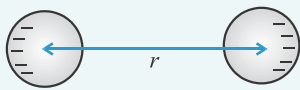
در حالت اول نیروی بین دو بار برابر $F = k \frac{q_1 q_2}{r^2}$ و در حالت دوم نیروی دو بار برابر $F' = k \frac{\left(\frac{q_1 + q_2}{2}\right)^2}{r^2}$ می‌شود.

چون $q_1 q_2 < \left(\frac{q_1 + q_2}{2}\right)^2$ است (به راهتی اثبات می‌شود)، در نتیجه $F' > F$ خواهد بود و نیروی بین دو کره رسانا افزایش می‌یابد. بنابراین گزینه «۳» درست است.



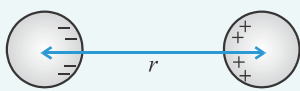
نکته ۶

در تست قبل کره‌ها کوچک بودند و در واقع بارها را نقطه‌ای در نظر گرفتیم. اگر بارها را نقطه‌ای در نظر نگیریم در این صورت شکل، ابعاد و چگونگی توزیع بار در اندازی نیرو مؤثر است.



((شکل الف))

به عنوان مثال اگر به کرهٔ رسانا با اندازهٔ غیرقابل چشم‌پوشی بارهای همنام q_1 و q_2 بدهیم، نیروی دافعهٔ بین بارهای همنام سبب می‌گردد که بار کره‌ها از هم دور شود و فاصلهٔ بین بارها از فاصلهٔ مرکز دو کره (r) بیشتر شود. بنابراین نیروی رانشی بین کره‌ها کمتر از $F = k \frac{|q_1||q_2|}{r^2}$ خواهد بود (شکل الف).



((شکل ب))

همچنین اگر بارها ناهمنام باشند نیروی جاذبهٔ بین بارهای ناهمنام آن‌ها را به سوی هم می‌کشد و فاصلهٔ بین بارها از فاصلهٔ مرکزهای دو کره (r) کمتر شده و نیروی ربایشی بین دو کره از $F = k \frac{|q_1||q_2|}{r^2}$ بیشتر می‌شود (شکل ب).

تذیبه: اگر اندازهٔ کره‌ها غیرقابل چشم‌پوشی باشد، نمی‌توان بار آن‌ها را به صورت بار نقطه‌ای در مرکز کره فرض کرد.

تست ۷

دو ذره با بارهای q_1 و $q_2 = 5q_1$ در فاصلهٔ r متری، نیروی F را به هم وارد می‌کنند. اگر دو ذره را ۵ متر از یکدیگر دور کنیم و همچنین ۲۰ درصد از بار ذرهٔ با بار q_2 را برداشته و به ذرهٔ با بار q_1 بدهیم، نیروی بین ذره در این حالت (F')، ۴۰ درصد نیرو در حالت اول می‌شود. r چند متر است؟

- ۱) ۱۰ ۲) ۵ ۳) ۳ ۴) ۶

پاسخ: ابتدا بار هر یک از ذره‌ها را در حالت دوم به دست می‌آوریم:

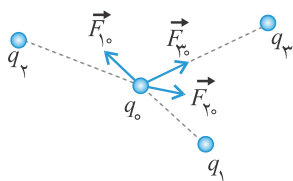
$$q'_1 = q_1 + \frac{20}{100}q_2 = q_1 + 0.2 \times (5q_1) = 2q_1 \quad \text{و} \quad q'_2 = q_2 - \frac{20}{100}q_2 = 0.8q_2 = 0.8 \times (5q_1) = 4q_1$$

با توجه به رابطهٔ قانون کولن داریم:

$$\frac{F'}{F} = \frac{|q'_1||q'_2|}{|q_1||q_2|} \times \left(\frac{r}{r'}\right)^2 \rightarrow \left(\frac{0.4}{1}\right) = \frac{(2q_1)(4q_1)}{(q_1)(5q_1)} \times \left(\frac{r}{r+5}\right)^2 \rightarrow \left(\frac{r}{r+5}\right)^2 = \frac{1}{4} \rightarrow \frac{r}{r+5} = \frac{1}{2} \rightarrow 2r = r+5 \rightarrow r = 5\text{m}$$

بنابراین گزینهٔ «۲» درست است.

برهم‌نهی نیروهای الکتروستاتیکی



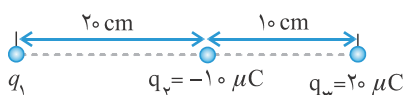
اگر تعدادی ذرهٔ باردار در یک ناحیه از فضا قرار داشته باشند، نیروی الکتریکی وارد بر هر ذره، برابری نیروهایی است که هر یک از ذره‌های دیگر در غیاب سایر ذره‌ها، بر آن ذره وارد می‌کنند. به عنوان مثال در شکل زیر نیروی الکتریکی وارد بر q_0 (نیروی برابری) برابر است با:

$$\vec{F}_T = \vec{F}_{10} + \vec{F}_{20} + \vec{F}_{30} + \dots$$

توجه: در شکل بالا چون نیروی خالص وارد بر q_0 را می‌فواستیم، بردارهای نیروی رسم می‌شود که ابتدای هر کدام از نیروها روی ذرهٔ با بار q_0 باشد.

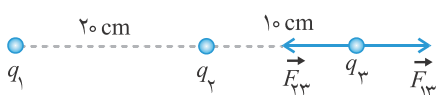
تست ۸

در شکل زیر بار q_3 در تعادل الکتریکی است. اگر جای بارهای q_2 و q_3 را عوض کنیم، اندازهٔ نیروی الکتریکی خالص وارد



بر بار q_2 چند نیوتن و در چه جهتی خواهد بود؟ $(k = 9 \times 10^9 \frac{N.m^2}{C^2})$

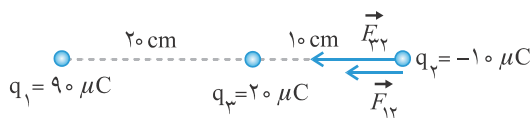
- ۱) ۲۷۰، چپ ۲) ۹۰، راست
۳) ۲۷۰، راست ۴) ۹۰، چپ



پاسخ: بار q_3 در حال تعادل است، بنابراین نیروی خالص وارد بر آن صفر است. با توجه به این شرط جهت نیروی \vec{F}_{13} باید مطابق شکل مقابل به سمت راست باشد. بنابراین بار q_1 مثبت است. داریم:

$$\vec{F}_{T3} = \vec{F}_{13} + \vec{F}_{23} = 0 \Rightarrow F_{13} = F_{23} \rightarrow \frac{k|q_1||q_3|}{r_{13}^2} = \frac{k|q_2||q_3|}{r_{23}^2} \rightarrow \frac{|q_1|}{r_{13}^2} = \frac{|q_2|}{r_{23}^2} \rightarrow \frac{|q_1|}{30^2} = \frac{10}{10^2} \rightarrow |q_1| = 90 \mu C \xrightarrow{q_1 > 0} q_1 = +90 \mu C$$

حال با عوض کردن جای q_2 و q_3 ، نیروی خالص وارد بر بار q_2 را به دست می‌آوریم. نیرویی که بارهای q_1 و q_3 بر بار q_2 وارد می‌کنند، هر دو جاذبه است و به سمت چپ می‌باشد. بنابراین نیروی برآیند نیز به سمت چپ خواهد بود. داریم:



$$F_{12} = k \frac{|q_1||q_2|}{r_{12}^2} = (9 \times 10^9) \times \frac{(90 \times 10^{-6})(20 \times 10^{-6})}{(30 \times 10^{-2})^2} = 90 \text{ N}$$

$$F_{23} = k \frac{|q_2||q_3|}{r_{23}^2} = (9 \times 10^9) \times \frac{(20 \times 10^{-6})(10 \times 10^{-6})}{(10 \times 10^{-2})^2} = 180 \text{ N}$$

$$\vec{F}_{T2} = \vec{F}_{12} + \vec{F}_{23} = 270 \text{ N}$$

$$\vec{F}_{T2} = (-270 \text{ N})\vec{i}$$

چون دو بردار \vec{F}_{12} و \vec{F}_{23} هم‌جهت هستند، بنابراین بزرگی خالص وارد بر q_1 برابر است با:

اگر محور x را روی خط واصل بارها در نظر بگیریم، بردار نیروی برآیند برابر است با:

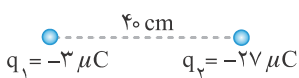
بنابراین گزینه «۱» درست است.



روش نکته ۷: در تست‌ها برای محاسبه نیروی الکتریکی بین دو بار بر اساس قانون کولن، هرگاه هر دو بار الکتریکی برحسب μC و فاصله برحسب cm باشد، می‌توان به جای انجام تبدیل واحد، از رابطه زیر برای محاسبه نیرو استفاده کرد و در این رابطه بارها را برحسب μC و فاصله را برحسب cm جای‌گذاری می‌کنیم:

$$F = 9 \times \frac{|q_1||q_2|}{r^2} \xrightarrow{\text{به عنوان نمونه نیروی } F_{12} \text{ در تست (۸)}} F_{12} = 9 \times \frac{90 \times 10}{(30)^2} = 90 \text{ N}$$

تست ۹: دو ذره با بار الکتریکی q_1 و q_2 مطابق شکل زیر در فاصله 40 سانتی‌متری از هم قرار دارند. بار q_3 را در چند سانتی‌متری از بار q_1 و در کدام سمت آن قرار دهیم، تا در حال تعادل باشد؟

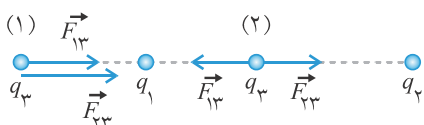


(۲) چپ، 10

(۱) راست، 30

(۴) راست، 10

(۳) چپ، 30



پاسخ: اولاً برای این‌که بار q_3 در حال تعادل باشد، نقطه‌ای که بار را در آن‌جا قرار می‌دهیم باید حتماً روی خط واصل دو بار باشد، زیرا در غیر این صورت نیروی \vec{F}_{13} و \vec{F}_{23} به هیچ‌وجه نمی‌تواند یکدیگر را خنثی کنند.

فرض می‌کنیم بار q_3 مثبت است، در این صورت یا می‌توانیم آن را در خارج از فاصله بین دو بار روی خط واصل قرار دهیم (نقطه ۱) و یا بین دو بار قرار دهیم (نقطه ۲). چون بارهای q_1 و q_2 هر دو منفی است، با رسم نیروی \vec{F}_{13} و \vec{F}_{23} در نقاط (۱) و (۲) مشخص است که بار q_3 باید در نقطه (۲) یعنی بین دو بار روی خط واصل قرار گیرد تا نیروهای \vec{F}_{13} و \vec{F}_{23} بتوانند یکدیگر را خنثی کنند. داریم:



$$F_{T3} = 0 \rightarrow F_{13} = F_{23} \rightarrow \frac{k|q_1||q_3|}{x^2} = \frac{k|q_2||q_3|}{(40-x)^2} \rightarrow \frac{|q_1|}{x^2} = \frac{|q_2|}{(40-x)^2} \rightarrow \frac{3}{x^2} = \frac{27}{(40-x)^2}$$

از طرفین جذر می‌گیریم $\rightarrow \frac{1}{x} = \frac{3}{40-x}$

$$\rightarrow 3x = 40 - x \rightarrow x = 10 \text{ cm}$$

پس نقطه مورد نظر در فاصله ۱۰ سانتی متری از بار q_1 و در سمت راست آن است. بنابراین گزینه «۴» درست است.



نکته ۸
اگر دو بار الکتریکی q_1 و q_2 ($|q_1| < |q_2|$) در فاصله d از یکدیگر قرار داشته باشند و دو سؤال زیر مدنظر باشد:
۱ بار سوم q_3 را در چه نقطه‌ای قرار دهیم تا در حالت تعادل باشد (یا برابند نیروهای الکتریکی وارد بر آن صفر باشد)؟

۲ در کدام نقطه میدان الکتریکی صفر است؟ (البته این سؤال مربوط به بخش بعدی درس است.)
در این صورت دو حالت پیش می‌آید:

۱ بارهای q_1 و q_2 همنام باشند: در این صورت نقطه مورد نظر بین دو بار، روی خط واصل و نزدیک به بار با اندازه کوچک‌تر است. در این حالت فاصله بار سوم از بار کوچک‌تر (x) برابر است با:

$$\frac{|q_2| > |q_1|}{\text{مهمان } q_2 \text{ و } q_1} \rightarrow x = \frac{d}{\sqrt{\frac{|q_2|}{|q_1|}} + 1}$$

۲ بارهای q_1 و q_2 ناهمنام باشند: در این صورت نقطه مورد نظر خارج از فاصله دو بار، روی خط واصل و نزدیک به بار با اندازه کوچک‌تر است. در این حالت فاصله بار سوم از بار کوچک‌تر (x) برابر است با:

$$\frac{|q_2| > |q_1|}{\text{مهمان } q_2 \text{ و } q_1} \rightarrow x = \frac{d}{\sqrt{\frac{|q_2|}{|q_1|}} - 1}$$

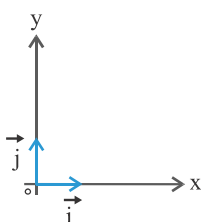
با استفاده از نکته (۸) فاصله نقطه مورد نظر در این سؤال از بار q_1 برابر است با:

$$x = \frac{d}{\sqrt{\frac{|q_2|}{|q_1|}} + 1} = \frac{40}{\sqrt{\frac{27}{3}} + 1} = \frac{40}{\sqrt{9} + 1} = \frac{40}{3 + 1} = 10 \text{ cm}$$

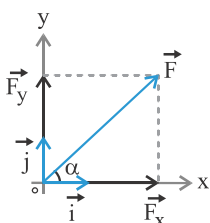


یادآوری ریاضی

نمونه تجزیه کردن یک بردار به بردارهای یک (i و j): دستگاه مختصات مقابل را در نظر بگیرید. بردار یکه \vec{i} روی محور x و در جهت آن (به سمت راست) و بردار یکه \vec{j} روی محور y و در جهت آن (به سمت بالا) قرار دارند و از مبدأ مختصات رسم می‌شوند: واحد $|\vec{i}| = |\vec{j}| = 1$



حال بردار \vec{F} را که محور x زاویه α می‌سازد را در نظر بگیرید که می‌خواهیم مؤلفه‌های آن را برحسب بردارهای یکه به دست آوریم. از انتهای بردار \vec{F} خط‌های موازی با محور x و y رسم می‌کنیم تا آن‌ها را قطع کنند. در این صورت با توجه به شکل داریم:



$$\begin{cases} \cos \alpha = \frac{F_x}{F} \Rightarrow F_x = F \cos \alpha \\ \sin \alpha = \frac{F_y}{F} \Rightarrow F_y = F \sin \alpha \end{cases} \rightarrow \vec{F} = F_x \vec{i} + F_y \vec{j} \rightarrow \boxed{\vec{F} = F \cos \alpha \vec{i} + F \sin \alpha \vec{j}}$$



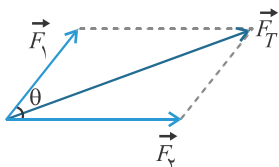
اگر برداری برحسب بردارهای یکه باشد، آن‌گاه بزرگی آن برابر است با:

$$\vec{F} = F_x \vec{i} + F_y \vec{j} \rightarrow F = \sqrt{F_x^2 + F_y^2}$$

اگر بردار F برحسب بردارهای یکه باشد، آن‌گاه زاویه‌ای که با سوی مثبت محور x می‌سازد (α) ، از رابطه زیر به دست می‌آید که در آن باید F_x و F_y با علامت جای‌گذاری شوند:

$$\vec{F} = F_x \vec{i} + F_y \vec{j} \rightarrow \tan \alpha = \frac{F_y}{F_x}$$

توجه: اگر چند بردار برمسب بردارهای یکه داشته باشیم و بخواهیم بردار برآیند آن‌ها را برمسب مؤلفه‌های یکه به دست آوریم، کافیست مؤلفه‌های \vec{i} این بردارها را با هم جمع جبری (با علامت) کنیم تا مؤلفه \vec{i} بردار برآیند به دست آید و مؤلفه‌های \vec{j} این بردارها را با هم جمع جبری کنیم تا مؤلفه‌های \vec{j} بردار برآیند به دست آید.

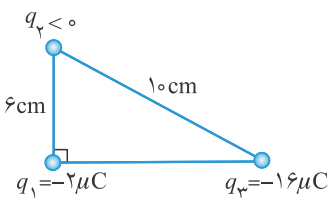


برآیند دو بردار به روش متوازی‌الاضلاع: در این روش دو بردار را از یک نقطه رسم می‌کنیم و بردار برآیند مطابق شکل مقابل به دست می‌آید:

$$F_T = \sqrt{F_1^2 + F_2^2 + 2F_1 F_2 \cos \theta}$$

اندازه برآیند دو بردار
زاویه بین دو بردار

تست 10: در شکل مقابل اندازه نیروی الکتریکی خالص وارد بر بار q_1 در رأس قائمه $45\sqrt{2}N$ است. بار q_2 چند میکروکولن و بردار نیروی الکتریکی خالص کدام



است؟ $(k = 9 \frac{N \cdot m^2}{C^2})$

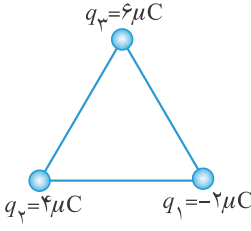
(1) $\vec{F}_T = -45\vec{i} + 45\vec{j}$, -9
(2) $\vec{F}_T = 45\vec{i} - 45\vec{j}$, -9
(3) $\vec{F}_T = -45\vec{i} + 45\vec{j}$, -6
(4) $\vec{F}_T = 45\vec{i} - 45\vec{j}$, -6

پاسخ: ابتدا نیروهای وارد بر بار q_1 را از طرف بارهای q_2 و q_3 رسم می‌کنیم با توجه به قضیه فیثاغورس طول ضلع مجموع 8 cm است. داریم: با توجه به گزینه‌ها و با در نظر گرفتن رابطه بالا که مؤلفه \vec{i} مثبت و مؤلفه \vec{j} منفی است، بنابراین یا گزینه «2» جواب است و یا گزینه «4». همچنین با توجه به اندازه نیرو خالص و گزینه‌ها F_{31} و F_{21} هر دو برابر با $45N$ است. پس خواهیم داشت:

بنابراین گزینه «2» درست است.

$$F_{21} = k \frac{|q_1||q_2|}{r_{21}^2} \rightarrow 45 = 90 \times \frac{2 \times |q_2|}{(6)^2} \rightarrow |q_2| = 9 \mu C \rightarrow q_2 < 0 \rightarrow q_2 = -9 \mu C$$

تست 11: سه ذره باردار مطابق شکل روی رأس‌های مثلث متساوی‌الاضلاع به ضلع 6 cm قرار دارند. بردار نیروی الکتریکی خالص وارد بر بار q_3 و همچنین اندازه این نیرو برحسب نیوتن به ترتیب از



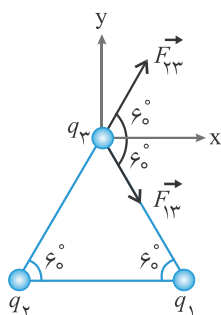
راست به چه کدام است؟

(1) $\vec{F}_T = 30\sqrt{3}N$ و $\vec{F}_T = 45\vec{i} + 15\sqrt{3}\vec{j}$
(2) $\vec{F}_T = 30\sqrt{2}N$ و $\vec{F}_T = 15\sqrt{3}\vec{i} + 45\vec{j}$
(3) $\vec{F}_T = 30\sqrt{3}N$ و $\vec{F}_T = 45\vec{i} - 15\sqrt{3}\vec{j}$
(4) $\vec{F}_T = 30\sqrt{2}N$ و $\vec{F}_T = 15\sqrt{3}\vec{i} - 45\vec{j}$

پاسخ: ابتدا نیروهای وارد بر بار q_3 از طرف بارها q_1 و q_2 را رسم می‌کنیم و سپس اندازه هر یک از این نیروها را محاسبه می‌کنیم.

روش:

$$\begin{cases} F_{13} = k \frac{|q_1||q_3|}{r_{13}^2} = 90 \times \frac{2 \times 6}{6^2} = 30N \\ F_{23} = k \frac{|q_2||q_3|}{r_{23}^2} = 90 \times \frac{4 \times 6}{6^2} = 60N \end{cases}$$



حال زاویه هر یک از نیروهای $F_{۱۳}$ و $F_{۲۳}$ را با محور xها به دست آورده و این بردارها را برحسب بردارهای یکه می‌نویسیم. توجه به شکل، زاویه هر دو بردار با محور x برابر ۶۰° است. داریم:

$$\vec{F}_{۱۳} = +F_{۱۳} \cos 60^\circ \vec{i} - F_{۱۳} \sin 60^\circ \vec{j} \rightarrow \vec{F}_{۱۳} = (30 \times \frac{1}{2}) \vec{i} - (30 \times \frac{\sqrt{3}}{2}) \vec{j} = 15 \vec{i} - 15\sqrt{3} \vec{j}$$

$$\vec{F}_{۲۳} = +F_{۲۳} \cos 60^\circ \vec{i} + F_{۲۳} \sin 60^\circ \vec{j} \rightarrow \vec{F}_{۲۳} = (60 \times \frac{1}{2}) \vec{i} + (60 \times \frac{\sqrt{3}}{2}) \vec{j} = 30 \vec{i} + 30\sqrt{3} \vec{j}$$

توجه: علامت‌های + و - ضرایب \vec{i} و \vec{j} را با توجه به جهت بردارها مشخص می‌کنیم (جهت راست و بالا: +، جهت چپ و پایین: -).

بنابراین بردار نیروی برآیند (نیروی خالص) وارد بر q_3 برابر است با:

$$\vec{F}_T = \vec{F}_{۱۳} + \vec{F}_{۲۳} \rightarrow \vec{F}_T = (30 + 15) \vec{i} + (30\sqrt{3} - 15\sqrt{3}) \vec{j} = 45 \vec{i} + 15\sqrt{3} \vec{j}$$

همچنین اندازه بردار برآیند برابر است با:

$$F_T = \sqrt{F_{Tx}^2 + F_{Ty}^2} = \sqrt{(45)^2 + (15\sqrt{3})^2} = \sqrt{(15 \times 3)^2 + (15\sqrt{3})^2} = 15\sqrt{3^2 + (\sqrt{3})^2} = 15\sqrt{12} = 30\sqrt{3} \text{ N}$$

توجه: آه فقط اندازه نیروی برآیند وارد بر q_3 مدنظر بود، چون فیلی زاویه بین $\vec{F}_{۱۳}$ و $\vec{F}_{۲۳}$ برابر ۱۲۰° درجس، از رابطه زیر داشتیم:

$$F_T = \sqrt{F_{۱۳}^2 + F_{۲۳}^2 + 2F_{۱۳}F_{۲۳} \cos 120^\circ} = \sqrt{30^2 + 60^2 + 2 \times 30 \times 60 \times (-\frac{1}{2})} = \sqrt{2700} = 30\sqrt{3} \text{ N}$$

بنابراین گزینه «۱» درست است.

میدان الکتریکی

هر بار الکتریکی در فضای پیرامون خود خاصیتی ایجاد می‌کند که در اثر آن خاصیت، اگر بار الکتریکی دیگری در آن فضا قرار گیرد بر آن نیرو وارد می‌شود. به این خاصیت میدان الکتریکی می‌گویند.

میدان الکتریکی کمیتی برداری است و واحد آن در SI، نیوتن بر کولن $(\frac{N}{C})$ یا ولت بر متر $(\frac{V}{m})$ است.

تعیین میدان الکتریکی در هر نقطه از فضای اطراف یک جسم باردار الکتریکی: میدان الکتریکی در هر نقطه برابر است با نیرویی که بر واحد بار آزمون q_0 (بار کوچک و مثبت) وارد می‌شود:

$$\vec{E} = \frac{\vec{F}}{q_0} \quad \text{بزرگی میدان (E)} \quad \rightarrow \quad E = \frac{F}{|q_0|}$$

توجه: در رابطه برداری فوق، اگر بار داده شده منفی بود باید بار با علامت منفی جای‌گذاری شود.

طبق قرارداد، جهت میدان الکتریکی در جهت نیرویی است که به بار آزمون مثبت وارد می‌شود. به عنوان مثال در شکل مقابل برای مشخص کردن بردار میدان در نقطه P یک بار مثبت را در آنجا فرض می‌کنیم و نیروی وارد بر آن را رسم می‌کنیم. بردار میدان نیز در جهت همان بردار نیروی شده است.

تست ۱۲ در نقطه‌ای از فضا به بار الکتریکی -5 nC نیروی الکتریکی $(-6 \times 10^{-4} \vec{i} + 8 \times 10^{-4} \vec{j}) \text{ N}$ وارد می‌شود. اندازه بردار میدان الکتریکی در این نقطه از فضا چند نیوتن بر کولن است و بردار میدان در کدام ربع مختصات قرار می‌گیرد؟

- (۱) 2×10^5 ، ربع دوم (۲) 2×10^5 ، ربع چهارم (۳) 10^5 ، ربع دوم (۴) 10^5 ، ربع چهارم

پاسخ: راه اول: ابتدا بردار میدان الکتریکی را در این نقطه به دست می‌آوریم. چون بار منفی است باید دقت شود که در رابطه $\vec{E} = \frac{\vec{F}}{q}$ ، q را منفی جای‌گذاری کنیم:

$$\vec{E} = \frac{\vec{F}}{q} \rightarrow \vec{E} = \frac{(-6 \times 10^{-4} \vec{i} + 8 \times 10^{-4} \vec{j}) \text{ N}}{-5 \times 10^{-9} \text{ C}} = \left(\frac{-6 \times 10^{-4}}{-5 \times 10^{-9}} \right) \vec{i} + \left(\frac{8 \times 10^{-4}}{-5 \times 10^{-9}} \right) \vec{j} = (1/2 \times 10^5 \vec{i} - 1/6 \times 10^5 \vec{j}) \frac{N}{C}$$

با توجه به این که مؤلفه \vec{i} مثبت و مؤلفه \vec{j} منفی است بنابراین بردار میدان الکتریکی در ربع چهارم است.

$$E = \sqrt{E_x^2 + E_y^2} = \sqrt{(1/2 \times 10^5)^2 + (1/6 \times 10^5)^2} = 2 \times 10^5 \frac{N}{C}$$

اندازه میدان الکتریکی در این نقطه برابر است با:

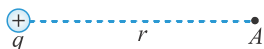


راه دوم: چون بار منفی است و همچنین بردار نیرو در ربع دوم مختصات قرار دارد. (با توجه به علامت مؤلفه‌های \vec{a} و \vec{b} بردار نیرو)، بنابراین بردار میدان الکتریکی باید در ربع چهارم باشد؛ زیرا بردار میدان الکتریکی در یک نقطه از فضا در خلاف جهت نیرویی است که به بار منفی در آن نقطه وارد می‌شود. برای محاسبه اندازه میدان الکتریکی، ابتدا اندازه نیرو را به دست می‌آوریم:

$$F = \sqrt{F_x^2 + F_y^2} = \sqrt{(-6 \times 10^{-4})^2 + (8 \times 10^{-4})^2} = 10 \times 10^{-4} = 10^{-3} \text{ N} \rightarrow E = \frac{F}{|q|} = \frac{10^{-3}}{5 \times 10^{-9}} = 2 \times 10^5 \frac{\text{N}}{\text{C}}$$

بنابراین گزینه «۲» درست است.

میدان الکتریکی حاصل از یک ذره باردار



اگر بار آزمون q_0 در نقطه A قرار بگیرد، بار q به آن نیروی \vec{F} را وارد می‌کند، با استفاده از قانون کولن، بزرگی نیروی \vec{F} را محاسبه می‌کنیم و با جای‌گذاری در رابطه $\left(E = \frac{F}{q_0}\right)$ ، بزرگی میدان الکتریکی بار q در نقطه A به فاصله r از آن رابطه زیر به دست می‌آید:

$$F = k \frac{|q||q_0|}{r^2} \rightarrow E = \frac{F}{q_0} \rightarrow \boxed{E = k \frac{|q|}{r^2}}$$

میدان الکتریکی برخلاف نیروی الکتریکی یک ویژگی ذاتی جسم باردار است و به بار آزمون بستگی ندارد.

توجه: برای تعیین جهت بردار میدان الکتریکی \vec{E} در نقطه دلفواهی، بار آزمونی مثبت را به‌طور ذهنی در آن نقطه فرض می‌کنیم و جهت بردار میدان در جهت همان نیرویی است که به آن بار آزمون وارد می‌شود.



تست ۱۳: بزرگی میدان الکتریکی در فاصله r از یک ذره باردار برابر E_1 است. چنانچه به اندازه x از این بار دور شویم، بزرگی میدان ۶۴ درصد کاهش می‌یابد. نسبت $\frac{x}{r}$ برابر با کدام گزینه است؟

- (۱) $\frac{3}{2}$ (۲) $\frac{1}{4}$ (۳) $\frac{2}{3}$ (۴) $\frac{4}{5}$

۶۴ درصد

$$E_2 = E_1 - 0.64 E_1 = 0.36 E_1$$

پاسخ: چون بزرگی میدان ۶۴ درصد کاهش یافته است، بنابراین خواهیم داشت:

$$E = k \frac{|q|}{r^2} \rightarrow \frac{E_2}{E_1} = \frac{|q_2|}{|q_1|} \times \left(\frac{r_1}{r_2}\right)^2 \rightarrow \frac{36}{100} = 1 \times \left(\frac{r}{r+x}\right)^2 \rightarrow \frac{6}{10} = \frac{r}{r+x} \rightarrow 6r + 6x = 10r \rightarrow 6x = 4r \rightarrow \frac{x}{r} = \frac{2}{3}$$

بنابراین گزینه «۳» درست است.

برهم‌نهی میدان‌های الکتریکی

با استفاده از اصل برهم‌نهی نیروهای کولنی وارد بر بار آزمون q_0 ، برای به دست آوردن میدان الکتریکی در محل این بار آزمون خواهیم داشت:

$$\vec{F}_{T_0} = \vec{F}_1 + \vec{F}_2 + \dots \xrightarrow{\text{تقسیم طرفین بر } q_0} \frac{\vec{F}_{T_0}}{q_0} = \frac{\vec{F}_1}{q_0} + \frac{\vec{F}_2}{q_0} + \dots \xrightarrow{\vec{E} = \frac{\vec{F}}{q_0}} \boxed{\vec{E}_T = \vec{E}_1 + \vec{E}_2 + \dots}$$

رابطه فوق که موسوم به اصل برهم‌نهی میدان‌های الکتریکی است، نشان می‌دهد که میدان الکتریکی ناشی از چند بار الکتریکی در نقطه‌ای از فضا برابر مجموع برداری میدان‌هایی است که هر بار در نبود سایر بارها در آن نقطه از فضا ایجاد می‌کند.