

خرید کتاب های کنکور

با تخفیف ویژه

و
ارسال رایگان

Medabook.com



مدابوک



دریافت برنامه ریزی و مشاوره

از مشاوران رتبه برتر

هوا کنکور آیدی نوین

۰۲۱ ۲۸۴۲۵۴



فهرست

فصل ۱ مولکول‌ها در خدمت تندرستی

۸	• تست‌های سری A
۵۸	• تست‌های سری Z
۶۱	• پاسخ‌نامه کلیدی
۶۳	• پاسخ‌نامه تشریحی

فصل ۲ آسایش و رفاه در سایه تنیمی

۱۹۴	• تست‌های سری A
۲۵۳	• تست‌های سری Z
۲۵۵	• پاسخ‌نامه کلیدی
۲۵۷	• پاسخ‌نامه تشریحی

فصل ۳ تنیمی جلوه‌ای از هنر، زیبایی و ماندگاری

۳۹۲	• تست‌های سری A
۴۲۷	• تست‌های سری Z
۴۲۹	• پاسخ‌نامه کلیدی
۴۳۰	• پاسخ‌نامه تشریحی

فصل ۴ تنیمی، راهی به سوی آینده‌ای روتن‌تر

۵۰۴	• تست‌های سری A
۵۵۱	• تست‌های سری Z
۵۵۶	• پاسخ‌نامه کلیدی
۵۵۸	• پاسخ‌نامه تشریحی

۶۵۹	ضمیمه
-----	-------	-------



(صفحه های ۱۳ و ۱۴ کتاب درسی)

کاغذ pH

(با هم ببیندیشیم صفحه ۱۳ کتاب درسی)

۷۹- کدام گزینه درست نیست؟

- ۱) رنگ کاغذ پی‌اچ در محلول هیدروکلریک اسید با رنگ این کاغذ در تماس با صابون، تفاوت دارد.
- ۲) از نظر شیمیایی، صابون‌ها و پاک‌کننده‌ها به دسته بازها تعلق دارند.
- ۳) اگر شناساگری در حضور صابون به رنگ زرد درآمد، این شناساگر در حضور سرکه سفید هم زرد رنگ می‌شود.
- ۴) با وجود این‌که صابون همانند سدیم هیدروکسید خاصیت بازی دارد، رنگ کاغذ pH در تماس با صابون و سدیم هیدروکسید می‌تواند متفاوت باشد.

(صفحه های ۱۳ و ۱۴ کتاب درسی)

آشنایی اولیه با اسیدها و بازها

۸۰- کدام مطلب نادرست است؟

- ۱) افزون بر شوینده‌ها و پاک‌کننده‌ها، در اغلب موادی که هر روز در بخش‌های مختلف زندگی مصرف می‌شوند، اسیدها و بازها نقش مهمی دارند.
- ۲) میوه‌هایی مانند انگور و کیوی دارای ترکیب‌هایی با خاصیت اسیدی هستند.
- ۳) دلیل سوزش معده که درد شدیدی را در ناحیه سینه ایجاد می‌کند، برگشت مقداری از محتویات اسیدی معده به لوله مری است.
- ۴) نام اسید معده، کلریک اسید است که به منظور کشتن جانداران ذره‌بینی موجود در غذا و فعال کردن آنزیم‌ها از دیواره معده ترشح می‌شود.

۸۱- کدام گزینه نادرست است؟

- ۱) ورود فاضلاب‌های صنعتی به محیط زیست، باعث تغییر pH می‌شود.
- ۲) اسیدها با همه فلزها واکنش می‌دهند و در تماس با پوست، سوزش ایجاد می‌کنند.
- ۳) بازها موادی تلخ‌مزه هستند و در سطح پوست، احساس لیزی ایجاد می‌کنند.
- ۴) از کلسیم اکسید برای کاهش میزان اسیدی بودن خاک استفاده می‌شود.

(صفحه ۱۴ کتاب درسی)

اسید و باز آرنیوس

۸۲- کدام موارد از مطالب زیر، درست‌اند؟

- آ) شیمی‌دان‌ها پیش از آن‌که ساختار اسیدها و بازها شناخته شوند، با واکنش میان آن‌ها آشنا نبودند.
- ب) سوانت آرنیوس، نخستین کسی بود که اسیدها و بازها را بر یک مبنای علمی توصیف کرد.
- پ) شیمی‌دان‌ها پیش از آن‌که ساختار اسیدها و بازها شناخته شود، با ویژگی‌های هر کدام آشنا بودند.
- ت) یافته‌های آرنیوس نشان داد که میزان رسانایی الکتریکی محلول اسیدها و بازها با هم یکسان است.

۱) آ و ت ۲) ب و پ ۳) آ و پ ۴) ب و ت

۸۳- چند مورد از مطالب زیر، نادرست‌اند؟

- محلول آبی HCl که دارای یون‌های $H^+(aq)$ و $Cl^-(aq)$ است، هیدروژن کلرید نامیده می‌شود.
- مطابق مدل آرنیوس، باز ماده‌ای است که به هنگام حل شدن در آب، میزان یون هیدروکسید را افزایش می‌دهد.
- از نگاه آرنیوس، گاز هیدروژن کلرید و سدیم هیدروکسید به ترتیب اسید و باز هستند.
- رفتار اسید و باز آرنیوس را می‌توان براساس غلظت یون‌های $H^+(aq)$ و $OH^-(aq)$ توصیف کرد.
- اگر در محلولی غلظت یون‌های هیدرونیوم و هیدروکسید برابر باشد، آن محلول خنثی است.

۱) (۱) ۲) (۲) ۳) (۳) ۴) (۴)

۸۴- چه تعداد از موارد زیر درباره اسید آرنیوس، درست است؟

- در آب، به طور جزئی یا کامل به یون تبدیل می‌شود.
- سبب افزایش غلظت یون هیدرونیوم در آب می‌شود.
- محلول آبی آن، رسانای خوب جریان برق است.
- هیدروژن هالیدها نمونه‌ای از آن‌ها هستند.

۱) (۴) ۲) (۳) ۳) (۲) ۴) (۱)

۸۵- به طور کلی، اکسید در آب به شمار می‌آیند؛ زیرا به هنگام حل شدن در آب، میزان یون را افزایش می‌دهند.

۱) فلزها - باز آرنیوس - H^+ ۲) نافلزها - باز آرنیوس - OH^- ۳) فلزها - اسید آرنیوس - OH^- ۴) نافلزها - اسید آرنیوس - H^+

۸۶- با توجه به مدل آرنیوس، انحلال چه تعداد از مواد زیر در آب، محیط را اسیدی می‌کند؟

- نیتروژن دی‌اکسید
- گوگرد تری‌اکسید
- آمونیاک
- کربن دی‌اکسید
- سدیم اکسید
- آهک
- اتانول

۱) (۲) ۲) (۳) ۳) (۴) ۴) (۵)



۸۷- کدام مطلب در مورد فلز قلیایی جدول تناوبی، نادرست است؟

- (۱) هیدروکسید آن، همانند هیدروکسید دومین فلز قلیایی خاکی، در آب محلول است.
- (۲) کاتیون و آنیون اکسید این فلز، هر دو به آرایش الکترونی یک گاز نجیب می‌رسند.
- (۳) نام تجاری هیدروکسید این فلز، سود سوزآور است که در آن نسبت کاتیون به آنیون برابر ۱ است.
- (۴) انحلال اکسید آن در آب، محیط را بازی می‌کند.

۸۸- همه عبارت‌های زیر در مورد لیتیم هیدروکسید، درست‌اند، به‌جز:

- (۱) همه پیوندهای موجود در آن از نوع پیوند یونی است.
- (۲) محلول آبی آن خاصیت بازی دارد.
- (۳) نسبت شمار کاتیون به شمار آنیون در آن با این نسبت در صابون جامد برابر است.
- (۴) مانند پتاسیم هیدروکسید می‌تواند با یک کربوکسیلیک اسید واکنش دهد.

۸۹- عنصر X با اکسیژن (O_8) هم‌گروه بوده و با عنصر سدیم (Na_{11}) در یک دوره جدول دوره‌ای قرار دارد. چند مورد از مطالب زیر در مورد این عنصر، درست‌اند؟

- (آ) اکسیدهای آن، ترکیب‌هایی یونی هستند که در آن‌ها همه اتم‌ها به آرایش هشت‌تایی رسیده‌اند.
- (ب) در اثر انحلال اکسیدهای این عنصر در آب، محیط اسیدی می‌شود.
- (پ) محلول آبی اکسیدهای این عنصر می‌تواند با ترکیب شیمیایی موجود در شربت معده واکنش دهد.
- (ت) pH محلول آبی اکسیدهای این عنصر همانند pH ترکیب آلی موجود در توت‌فرنگی، کم‌تر از ۷ است.

- (۱) ۴ (۲) ۳ (۳) ۲ (۴) ۱

۹۰- کدام موارد از مطالب زیر، درباره N_4O_8 درست‌اند؟ ($O = 16, N = 14 : g \cdot mol^{-1}$)

(آ) مانند گوگرد تری‌اکسید، یک اسید آرنیوس به شمار می‌آید.

- (ب) نمای ذره‌ای محلول آن در آب (بدون نمایش مولکول‌های آب) را می‌توان به صورت روبه‌رو نشان داد:
- (پ) کاغذ pH در محلول آبی آن به رنگ آبی درمی‌آید.

(ت) از حل شدن $2/16$ گرم از آن در آب، $0/08$ مول یون پدید می‌آید.

- (۱) آ و پ (۲) ب و ت (۳) آ و ت (۴) ب و پ



(فرد را بپازماید صفحه ۱۶ کتاب درسی)

۹۱- با توجه به ترکیب‌های داده‌شده، چند مورد از عبارت‌های زیر درست‌اند؟ (Na_2O, N_4O_8, BaO, SO_3)

- محلول آبی مربوط به ۳ ترکیب، دارای خاصیت بازی است.
- رنگ کاغذ pH در محلول‌های SO_3 و N_4O_8 ، تقریباً مشابه است.
- نسبت به بقیه ترکیب‌ها، از انحلال هر مول Na_2O در آب، تعداد یون بیشتری پدید می‌آید.
- BaO باز آرنیوس است و در اثر حل شدن یک مول از آن در آب، ۲ مول یون هیدروکسید پدید می‌آید.

- (۱) ۴ (۲) ۳ (۳) ۲ (۴) ۱

۹۲- با توجه به شکل روبه‌رو، کدام موارد از مطالب زیر، درست‌اند؟

(آ) مولکول A اسید آرنیوس محسوب می‌شود.

- (ب) ذره‌های C، در اثر انحلال سدیم اکسید در آب هم تولید می‌شوند.
- (پ) به تقریب ۸۲ درصد از مولکول‌های آمونیاک، به یون تبدیل نشده‌اند.
- (ت) اتم‌های پیرامون اتم مرکزی در گونه B، روی یک صفحه قرار دارند.

(۱) آ و ب

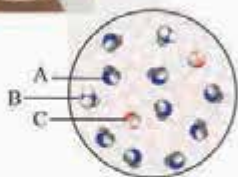
(۲) پ و ت

(۳) ب و پ

(۴) آ و ت



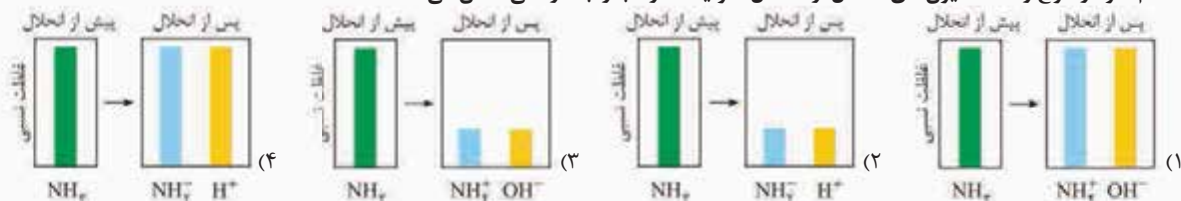
محلول آمونیاک در آب





این سوال فقط به فاطر شکل کتاب درسی در این پا آوردم. جلوتر به طور کامل متوجه فوایدش پیران از چه قراره!

۹۳- کدام نمودار، نوع و غلظت یون‌های حاصل از انحلال آمونیاک در آب را به درستی نشان می‌دهد؟



۹۴- کدام مطلب در مورد یون $\text{H}_3\text{O}^+(\text{aq})$ نادرست است؟

(۱) نام آن، یون هیدرونیوم است و اتم مرکزی در آن دارای یک جفت الکترون ناپیوندی است.

(۲) از واکنش یک یون H^+ با یک مولکول آب به دست می‌آید.

(۳) همه اتم‌ها در آن، قاعده هشت‌تایی را رعایت کرده‌اند.

(۴) اتم اکسیژن در آن با سه پیوند کووالانسی به سه اتم هیدروژن متصل است.

۹۵- مجموع شمار ذره‌های زیراتمی (الکترون، پروتون و نوترون) در یک مول یون هیدرونیوم، به تقریب چه مضربی از 10^{24} است؟ (^1H , ^{16}O)

۱۸ (۴)

۱/۸ (۳)

۱۷/۴ (۲)

۱/۷۴ (۱)

(صفحه ۱۶ تا ۱۸ کتاب درسی)

رسانایی الکتریکی محلول‌ها و قدرت اسیدی

۹۶- چند مورد از عبارتهای زیر، درست‌اند؟

● اغلب خوراکی‌ها، داروها، شوینده‌ها و مواد آرایشی شامل مقادیر متفاوتی از یون هیدرونیوم هستند.

● در فرایند تولید و نگهداری مواد گوناگون، اغلب تعیین و کنترل غلظت یون هیدرونیوم نقش مهمی دارد.

● به دلیل وجود یون‌ها و حرکت آن‌ها در محلول‌های الکترولیت، این محلول‌ها رسانای جریان برق هستند.

● اگر محلول الکترولیت‌های گوناگون در مدارهای الکتریکی یکسانی قرار گیرند، روشنایی یکسانی در لامپ ایجاد نمی‌کنند.

۱ (۴)

۲ (۳)

۳ (۲)

۴ (۱)

۹۷- در کدام گزینه، هر سه مورد گفته‌شده، رسانای الکتریکی هستند؟

(۱) گرافیت، سدیم کلرید مذاب، آلومینیم

(۲) الماس، محلول اتانول در آب، سدیم کلرید مذاب

(۳) جیوه، آلومینیم، گرافیت

(۴) محلول سدیم کلرید در آب، ید، آهن مذاب

۹۸- چه تعداد از موارد زیر، رسانای یونی نیستند؟

(آ) سدیم کلرید جامد (ب) محلول استون در آب (پ) نقره

(ت) محلول سدیم سولفید در آب (ث) آهن مذاب (ج) محلول هیدروفلوئوریک اسید

۱ (۱)

۲ (۲)

۳ (۳)

۴ (۴)

۹۹- کدام گزینه درست است؟

(۱) در محلول آبی سدیم کلرید، یون‌های $\text{Na}^+(\text{aq})$ و $\text{Cl}^-(\text{aq})$ با جنبش‌های آزادانه و منظم در سرتاسر آن پراکنده‌اند.

(۲) سدیم کلرید در حالت جامد نارساناست اما در حالت مذاب رسانای جریان برق است.

(۳) در محلول آبی سدیم کلرید و در حضور میدان الکتریکی، یون‌های Na^+ به سوی قطب مثبت و یون‌های Cl^- به سوی قطب منفی پیش می‌روند.

(۴) رسانایی محلول سدیم کلرید برخلاف سدیم کلرید مذاب، به دلیل جابه‌جاشدن بارهای الکتریکی است.

۱۰۰- کدام گزینه درست است؟

(۱) شکل روبه‌رو را می‌توان به محلول آبی سدیم اکسید و یا اتیلن گلیکول نسبت داد.

(۲) همه مولکول‌هایی که در میدان الکتریکی جهت‌گیری می‌کنند، الکترولیت به شمار می‌روند.

(۳) اگر محلول‌های الکترولیت در یک مدار الکتریکی قرار گیرند، با حرکت ذرات باردار به سمت قطب‌های ناهم‌نام، جریان الکتریکی برقرار می‌شود.

(۴) مواد غیرالکترولیت به موادی گفته می‌شود که در آب نامحلول‌اند.

۱۰۱- کدام موارد از مطالب زیر، درست‌اند؟

(آ) در فلزها و گرافیت (مغز مداد) رسانایی به وسیله الکترون‌ها انجام می‌شود.

(ب) در بین محلول‌های ۱ مولار «متانول، سدیم نیترات، باریم کلرید و هیدروفلوئوریک اسید»، محلول ۳ ماده، الکترولیت است.

(پ) رسانایی یونی هنگامی انجام می‌شود که الکترون‌ها بتوانند از نقطه‌ای به نقطه دیگر جابه‌جا شوند.

(ت) همه ترکیب‌های مولکولی، غیرالکترولیت هستند.

(۴) ب و ت

(۳) آ و پ

(۲) پ و ت

(۱) آ و ب



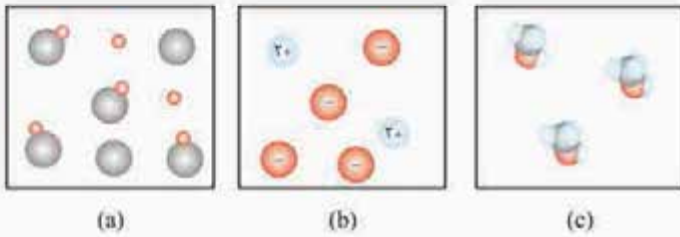


۱۰۲- در شکل زیر، رسانایی الکتریکی چند محلول آبی با غلظت برابر ۱/۰ مولار با هم مقایسه شده است. درون محلول‌های (آ)، (ب) و (پ) به ترتیب چه موادی می‌توانند باشند؟



- (۱) هیدروفلوئوریک اسید - پتاسیم هیدروکسید - اتانول
- (۲) اتانول - پتاسیم هیدروکسید - هیدروفلوئوریک اسید
- (۳) پتاسیم هیدروکسید - هیدروفلوئوریک اسید - اتانول
- (۴) اتانول - هیدروفلوئوریک اسید - پتاسیم هیدروکسید

۱۰۳- با توجه به شکل‌های داده‌شده، کدام گزینه نادرست است؟ (مولکول‌های حلال، نشان داده نشده‌اند).



- (۱) شکل (c) یک محلول غیرالکترولیت را نشان می‌دهد.
- (۲) شکل (a) می‌تواند مربوط به وضعیت انحلال HF در آب باشد.
- (۳) در غلظت مولی یکسان، مقایسه رسانایی الکتریکی این محلول‌ها به صورت $b > a > c$ است.
- (۴) شکل (b) می‌تواند مربوط به محلول آبی منیزیم سولفات باشد.

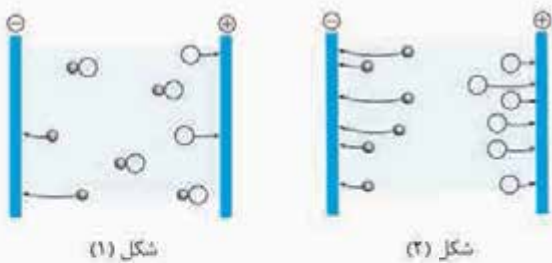
۱۰۴- چه تعداد از موارد زیر برای تکمیل عبارت داده‌شده، مناسب‌اند؟

«کم‌بودن رسانایی الکتریکی هیدروفلوئوریک اسید ۱/۰ مولار نسبت به محلول هیدروکلریک اسید ۱/۰ مولار نشان می‌دهد که»

- شمار یون‌های موجود در محلول HCl بیشتر است.
- HCl اسید قوی‌تری از HF است.
- میزان یونش HF در آب کم‌تر است.
- HF الکترولیت ضعیف‌تری از HCl است.

- ۱ (۴) ۲ (۳) ۳ (۲) ۴ (۱)

۱۰۵- با توجه به شکل‌های زیر که رسانایی الکتریکی محلول‌های ۱ مولار HA (شکل ۱) و HB (شکل ۲) را در دمای ۲۵ °C نشان می‌دهند، کدام مطلب نادرست است؟

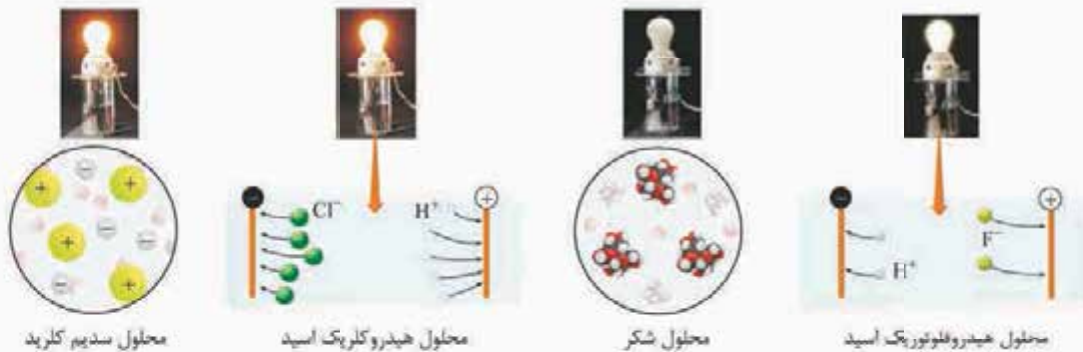


- (۱) ترکیب‌های HA و HB را می‌توان اسید آرنیوس در نظر گرفت.
- (۲) با وجود یکسان بودن غلظت دو محلول، قدرت اسیدی HB بیشتر است.
- (۳) با اتصال این محلول‌ها به مدار الکتریکی، روشنایی یکسانی در لامپ ایجاد نخواهد شد.
- (۴) به دلیل وجود شمار بیشتری مولکول HA در شکل (۱) خاصیت اسیدی محلول شکل (۱) بیشتر است.

۱۰۶- در دمای یکسان، رسانایی الکتریکی محلول ۲/۰ مولار سدیم کلرید از رسانایی الکتریکی محلول ۱۵/۰ مولار کلسیم نیترات و رسانایی الکتریکی محلول ۲/۰ مولار هیدروفلوئوریک اسید است. (رسانایی الکتریکی یون‌ها در محلول یکسان فرض شود).

- (۱) بیشتر - بیشتر از (۲) کم‌تر - بیشتر از (۳) کم‌تر - برابر با (۴) بیشتر - برابر با

۱۰۷- دانش‌آموزی شکل‌های زیر را برای مقایسه رسانایی الکتریکی ۴ محلول آبی رسم کرده است. چه تعداد از این شکل‌ها کاملاً درست‌اند؟



محلول سدیم کلرید

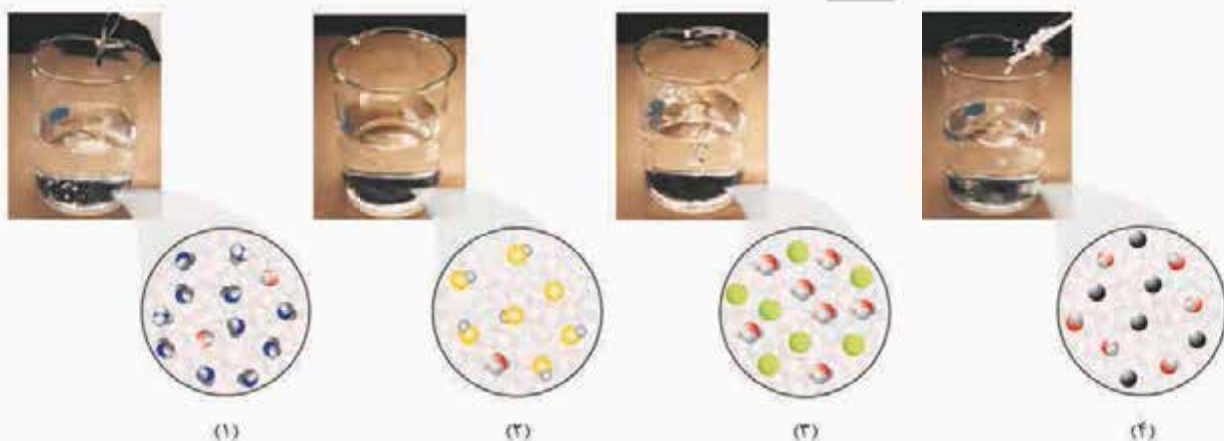
محلول هیدروکلریک اسید

محلول شکر

محلول هیدروفلوئوریک اسید

- (۴) صفر (۳) ۱ (۲) ۲ (۱) ۳

۱۰۸- با توجه به شکل‌های زیر، کدام مطلب نادرست است؟



(۱) محلول (۲) مانند محلول (۳) و برخلاف محلول (۱) خاصیت اسیدی دارد.
 (۲) ترکیب موجود در محلول (۴) را می‌توان باز آرنیوس در نظر گرفت.
 (۳) خاصیت بازی محلول (۱) بیشتر از خاصیت بازی محلول (۴) است.
 (۴) در شرایط یکسان، رسانایی الکتریکی محلول (۳) بیشتر از رسانایی الکتریکی محلول (۲) است.

۱۰۹- جرم $3/01 \times 10^{22}$ مولکول از اکسیدی با فرمول عمومی N_mO_n ، برابر $5/4$ گرم است. نسبت n به m کدام است و محلول این اکسید در آب، چگونه است؟ ($O = 16, N = 14 : g \cdot mol^{-1}$)
 (۱) $2/5$ ، الکترولیت قوی (۲) $2/5$ ، الکترولیت ضعیف (۳) $1/5$ ، الکترولیت قوی (۴) $1/5$ ، الکترولیت ضعیف
 (سراسری تپری ۹۵)

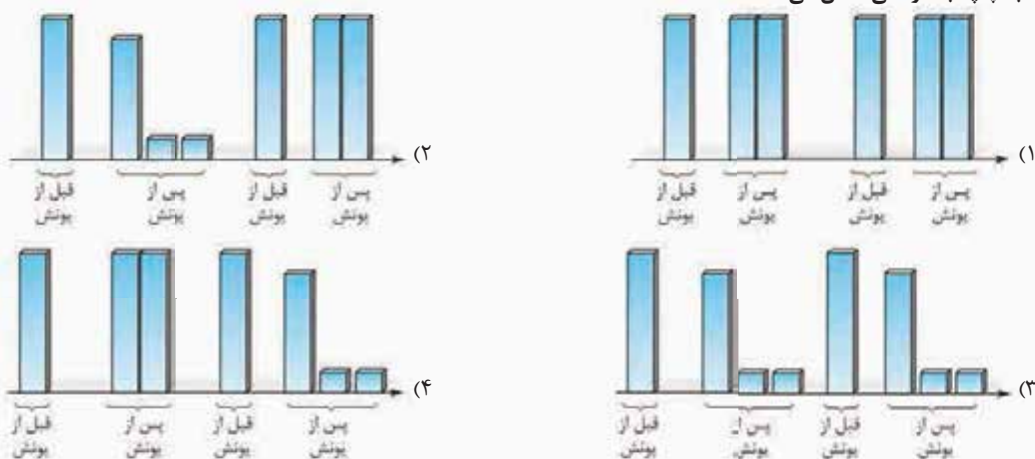
اسیدهای قوی و ضعیف

۱۱۰- چند مورد از مطالب زیر، درست‌اند؟

- در محلول آبی $0/01$ مولار فورمیک اسید، غلظت آنیون حاصل از یونش اسید، کم‌تر از غلظت یون هیدرونیوم است.
- به اسیدهایی که هر مول از آن‌ها در آب، حداکثر می‌تواند یک مول یون H^+ تولید کند، اسید تک‌پروتون‌دار می‌گویند.
- در شرایط یکسان از نظر دما و غلظت، غلظت یون Cl^- در محلول HCl بیشتر از غلظت یون F^- در محلول HF است.
- در محلول آبی همهٔ اسیدها، غلظت یون هیدرونیوم با غلظت اولیهٔ اسید برابر است.

(۱) ۴ (۲) ۳ (۳) ۲ (۴) ۱

۱۱۱- کدام گزینه، فراوانی نسبی ذره‌های یونش‌یافته و یونش‌نیافته هیدروکلریک اسید و هیدروفلوئوریک اسید در آب را (قبل و پس از یونش)، به ترتیب از راست به چپ، به درستی نشان می‌دهد؟



۱۱۲- کدام گزینه نادرست است؟

- (۱) در محلول سرکه، شمار زیادی از مولکول‌های استیک اسید یونیده‌نشده حضور دارند.
- (۲) اغلب اسیدهایی که در زندگی روزانه با آن‌ها سروکار داریم، قوی هستند.
- (۳) در دمای ثابت، غلظت یون هیدرونیوم در محلول اسیدهای ضعیف، ثابت است.
- (۴) محلول اسیدهای قوی را می‌توان محلولی شامل یون‌های آب‌پوشیده دانست که در آن‌ها تقریباً مولکول‌های یونیده‌نشده یافت نمی‌شود.



مثال نوعی پاک‌کننده خورنده که به شکل پودر عرضه می‌شود، شامل مخلوط سدیم هیدروکسید و پودر آلومینیم است. از این پاک‌کننده برای بازکردن مجاری مسدودشده در برخی وسایل و دستگاه‌های صنعتی، استفاده می‌شود.

معادله نوشتاری واکنش این مخلوط با آب، به صورت زیر است:^۱

فرآورده‌های دیگر + گاز هیدروژن → آب + مخلوط آلومینیم و سدیم هیدروکسید

از این پودر برای بازکردن لوله‌ها و مسیریابی استفاده می‌شود که در اثر ایجاد رسوب و تجمع چربی‌های جامد بسته شده‌اند؛ زیرا:

۱. سدیم هیدروکسید موجود در این مخلوط می‌تواند با چربی‌ها واکنش داده و صابون تولید کند که باعث حل‌شدن بیشتر چربی می‌شود.

۲. واکنش گرماده است و گرمای آزادشده می‌تواند چربی‌های جمع‌شده در مسیر را ذوب کند.

۳. گاز هیدروژن تولیدشده در این واکنش، قدرت پاک‌کنندگی این مخلوط را افزایش می‌دهد؛ زیرا گاز به رسوب‌ها ضربه وارد کرده و باعث خردشدن آن‌ها می‌شود.

با توجه به کادر قبل، فقط عبارت اول نادرست است.

همه عبارت‌ها درست تشریف دارن! درستی عبارت‌های دوم و سوم را در کادر (۱۵) پیدا می‌کنید. بریم سراغ بقیه عبارت‌ها،

۷۸- گزینه ۴



عبارت اول: مجموع ضرایب واکنش‌دهنده‌ها در این واکنش برابر با ۱۰ است:

ضدیح نیز همان اتیلن گلیکول (C₂H₆O₂) است که مجموع شمار اتم‌های آن برابر با ۱۰ است.

عبارت چهارم: در شیمی یازدهم خواندیم که با پودرکردن مواد جامد و در نتیجه افزایش سطح تماس، سرعت واکنش بیشتر می‌شود.

۷۹- گزینه ۲

۱۶

کاغذ pH

یکی از روش‌های شناسایی اسیدها و بازها، کاغذ pH است. تغییر رنگ این کاغذ، معیاری برای تشخیص اسیدی یا بازی بودن محلول است؛ رنگی که این کاغذ درون یک محلول به خود می‌گیرد، نشان‌دهنده pH تقریبی آن است.



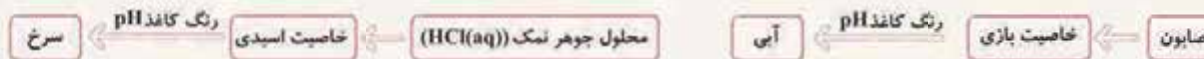
کاغذ pH در محیط‌های خیلی اسیدی به رنگ سرخ دیده می‌شود. با افزایش pH، رنگ آن از سرخ به نارنجی، آبی و در نهایت به بنفش تغییر می‌کند.

توجه کمی جلوتر متوجه خواهید شد که pH محلول‌های آبی به غلظت محلول بستگی دارد و یاد می‌گیرید که به صورت دقیق آن را حساب کنید.

بدانید و آگاه باشید که کاغذ pH انواع مختلفی دارد که کتاب درسی پوشون اشاره‌ای نکرده! در حد کتاب درسی شما بدانید که کاغذ pH در محیط‌های

اسیدی به رنگ سرخ و در محیط‌های بازی به رنگ آبی درمی‌آید؛ بنابراین اگر از شما فواستن که رنگ کاغذ pH را در یک محلول تعیین کنید،

کافی است با توجه به نوع محلول (اسیدی یا بازی) بگوید سرخ یا آبی!



صابون خاصیت بازی دارد؛ در حالی که سرکه سفید خاصیت اسیدی دارد؛ بنابراین رنگ یک شناساگر اسید - باز در حضور این دو ماده متفاوت خواهد بود.

گزینه (۱): درست! چون HCl خاصیت اسیدی و صابون خاصیت بازی دارد.

گزینه (۲): چی بلیم دیگه!؟

گزینه (۴): صابون و سدیم هیدروکسید با این که هر دو خاصیت بازی دارند، ولی می‌توانند pH‌های مختلفی داشته باشند و در نتیجه رنگ کاغذ pH در تماس با

آن‌ها می‌تواند متفاوت باشد؛ زیرا کاغذ pH در pH‌های مختلف، رنگ‌های متفاوتی دارد.



۱- معادله نمادی و موازنه‌شده این واکنش، این پوریاست؛

آشنایی اولیه با اسیدها و بازها

اسیدها و بازها جزء موادی هستند که در زندگی روزانه ما و صنایع مختلف کاربرد زیادی دارند.

- اغلب داروها، ترکیب‌هایی با خاصیت اسیدی یا بازی هستند.
- اغلب میوه‌ها (مانند پرتقال، کیوی و انگور) دارای اسیدند و pH آن‌ها کم‌تر از ۷ است.
- برای کاهش میزان اسیدی بودن خاک، به آن آهک (CaO) اضافه می‌کنند. آهک، یک اکسید فلزی است و خاصیت بازی دارد.
- ورود فاضلاب‌های صنعتی به محیط زیست، باعث تغییر pH می‌شود.

بریم سراغ چند مقایسه کلی در مورد اسیدها و بازها:

۱) اسیدهای خوراکی مزه‌ای ترش دارند؛ به طوری که مزه ترش برخی از مواد خوراکی، میوه‌ها و ... ناشی از اسید موجود در آن‌ها است؛ در حالی که بازها مزه تلخ دارند.

۲) اسیدها با اغلب فلزها واکنش می‌دهند. (در فصل دوم متوجه خواهید شد که **پرا نمی‌گیرم همه فلزها!**)

۳) اسیدها و بازها می‌توانند با یکدیگر واکنش داده و همدیگر را خنثی کنند.

۴) اسیدها در تماس با پوست، سوزش ایجاد می‌کنند، در حالی که بازها در سطح پوست، همانند صابون، احساس لیزی ایجاد کرده و برخی از آن‌ها به پوست آسیب می‌رسانند.

توجه: عملکرد بدن ما به میزان مواد اسیدی و بازی موجود در بدن بستگی دارد. هیدروکلریک اسید (HCl) یک اسید قوی است که درون معده ما وجود دارد. این اسید موجب شکستن مواد غذایی به مولکول‌های کوچک‌تر می‌شود. ترشح هیدروکلریک اسید توسط یاخته‌های دیواره معده با ورود مواد غذایی به منظور از بین بردن جانداران ذره‌بینی موجود در غذا و فعال کردن آنزیم‌ها برای تجزیه مولکول‌های مواد غذایی صورت می‌گیرد. دلیل سوزش معده که درد شدیدی را در ناحیه سینه ایجاد می‌کند، برگشت مقداری از محتویات اسیدی معده به لوله مری است.

اسید معده، هیدروکلریک اسید (HCl) است نه کلریک اسید!

۸۱ - گزینه ۲) اغلب فلزها (نه همشون!) با اسیدها واکنش می‌دهند.

درستی گزینه‌های (۱) و (۳) را در کادر (۱۷) و صفحه‌های ۱۳ و ۱۴ کتاب درسی پیدا می‌کنید. در مورد گزینه (۴) همان‌طور که در شیمی دهم هم خواندیم، کلسیم اکسید (CaO) یک اکسید فلزی است و خاصیت بازی دارد؛ در نتیجه از آن می‌توان برای کنترل میزان اسیدی بودن خاک یا آب دریاچه‌ها استفاده کرد.

۸۲ - گزینه ۲)

اسید و باز آرنیوس

شواهد علمی نشان می‌دهند قبل از آن‌که ساختار اسیدها و بازها شناخته شود، شیمی‌دان‌های **زرنگ!** علاوه بر ویژگی‌های اسیدها و بازها، با برخی واکنش‌های آن‌ها نیز آشنا بودند.

اما این پوری که نمی‌شد! همه چیز از جمله توجیه رفتار اسیدها و بازها، به یک مبنای علمی نیاز دارد. **هناب** سوانت آرنیوس، اولین کسی بود که اسیدها و بازها را بر یک مبنای علمی توصیف کرد. او بر روی رسانایی الکتریکی محلول‌های آبی کار می‌کرد و به این نتیجه رسید که محلول اسیدها و بازها رسانای جریان الکتریکی هستند، هر چند میزان رسانایی آن‌ها با یکدیگر یکسان نیست. در شیمی دهم خواندیم که رسانایی الکتریکی محلول‌ها به دلیل وجود یون‌ها در آن‌هاست؛ پس می‌توان گفت هنگامی که اسیدها یا بازها در آب حل می‌شوند، مقدار یون‌های موجود در آب را افزایش می‌دهند.

اسید آرنیوس ماده‌ای است که در آب حل می‌شود و میزان یون $H^+(aq)$ را افزایش می‌دهد و باز آرنیوس ماده‌ای است که ضمن حل شدن در آب، میزان یون $OH^-(aq)$ را افزایش می‌دهد.

شاید براتون سوال باشه که مگه در آب هم، یون وجود داره که می‌گه، «با حل شدن اسید و باز در آب به ترتیب میزان یون‌های H^+ یا OH^- افزایش می‌یابند؟!» بله! وجود داره! جلوتر خواهیم خواند که در آب خالص هم مقادیر کمی از یون‌های H^+ و OH^- یافت می‌شود!



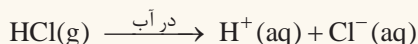
نکته یون $H^+(aq)$ در آب به صورت یون $H_3O^+(aq)$ یافت می‌شود و به یون هیدرونیوم معروف است. کمی **پلوتر بیشتر در موردش بپوشیم!**

پس مواد و ترکیب‌هایی که با حل شدن در آب، غلظت یون‌های هیدرونیوم و هیدروکسید را در آب افزایش می‌دهند، به ترتیب اسید و باز آرنیوس هستند. در واقع اسید و باز آرنیوس را می‌توان براساس غلظت یون‌های $H^+(aq)$ و $OH^-(aq)$ توصیف کرد.

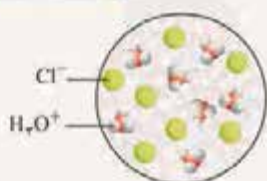
نکته هر چه غلظت یون H^+ در محلولی بیشتر باشد، آن محلول اسیدی‌تر و هر چه غلظت یون OH^- در محلولی بیشتر باشد، آن محلول بازی‌تر است. در ضمن اگر در یک سامانه، غلظت یون‌های هیدرونیوم و هیدروکسید با هم برابر باشد (مانند آب خالص)، آن سامانه خنثی است.

مثال گاز هیدروژن کلرید ($HCl(g)$) یک اسید آرنیوس به حساب می‌آید؛ زیرا به هنگام

حل شدن در آب، میزان یون $H^+(aq)$ را افزایش می‌دهد:



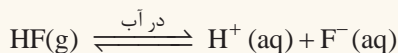
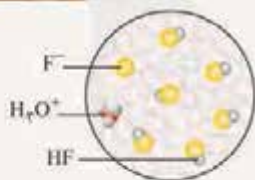
از آن‌جا که محلول HCl خاصیت اسیدی دارد، کاغذ pH در آن به رنگ سرخ درمی‌آید.



نکته HCl بر اثر حل شدن در آب به طور کامل به یون‌های H^+ و (H_3O^+) و Cl^- تبدیل

می‌شود؛ به همین دلیل واکنش آن به صورت یک‌طرفه (برگشت‌ناپذیر) نشان داده می‌شود.

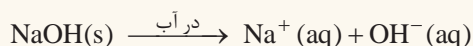
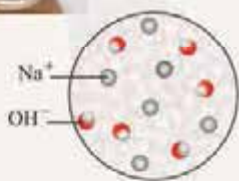
HF نیز یک اسید آرنیوس به شمار می‌آید؛ زیرا به هنگام حل شدن در آب، باعث افزایش غلظت یون هیدرونیوم می‌شود.



همان‌طور که می‌بینید، در محلول HF در آب، علاوه بر یون‌های H^+ و F^- ، مولکول‌های HF هم وجود دارند؛ یعنی برخی از مولکول‌های HF در آب به یون تبدیل نمی‌شوند. کمی جلوتر در کادراهی بعد، **دلیلش** رو متوجه خواهید شد.

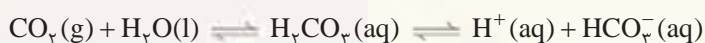
مثال ترکیب‌های یونی مانند $NaOH$ ، $LiOH$ و KOH که در ساختار خود یون هیدروکسید

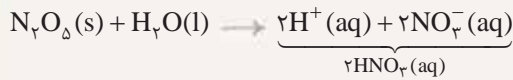
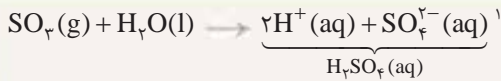
دارند، باز آرنیوس به حساب می‌آیند؛ زیرا با حل شدن آن‌ها در آب، غلظت یون $OH^-(aq)$ در آب افزایش می‌یابد.



نکته ترکیب‌هایی وجود دارند که در ساختار خود هیدروژن ندارند؛ اما با آب واکنش داده و میزان یون $H^+(aq)$ را افزایش می‌دهند. این مواد نیز جزء اسیدها به حساب می‌آیند؛ مانند اغلب اکسیدهای نافلزتی.

مثال گازهای کربن دی‌اکسید (CO_2) و گوگرد تری‌اکسید (SO_3) و دی‌نیتروژن پنتااکسید جامد (N_2O_5)، اسید آرنیوس به حساب می‌آیند.

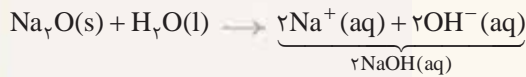




با توجه به شکل های صفحه ۱۶ کتاب درسی، باید این واکنش ها رو بلد باشین!

پچیه‌ها مراقب باشین! لزوماً هر اکسید نافلزی، اکسید اسیدی نیست؛ به طور مثال گازهای CO، NO و N₂O در آب به صورت مولکولی حل می‌شوند و خاصیت اسیدی ندارند.

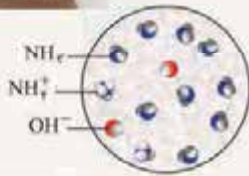
تکته ترکیب‌هایی وجود دارند که در ساختار خود یون هیدروکسید (OH⁻) ندارند؛ اما به هنگام حل شدن در آب، یون OH⁻ پدید می‌آوردند و محیط را بازی می‌کنند.



آ اکسید فلزهای گروه اول و دوم



ب آمونیاک و آمین‌ها



شکل روبه‌رو حل شدن آمونیاک در آب را نشان می‌دهد. همان‌طور که می‌بینید، آمونیاک ضمن حل شدن در آب، به طور جزئی به یون‌های NH₄⁺ و OH⁻ تبدیل شده و بیشتر مولکول‌های آن به صورت دست‌نخورده! در محلول باقی می‌مانند؛ به همین دلیل واکنش مربوط به NH₃ را به صورت دوطرفه (برگشت‌پذیر) نشان دادیم. **نگران نباشید! در آینده‌ای نه‌فندان دور!** با این موضوع بیشتر آشنا خواهید شد!

عبارت‌های (ب) و (پ) درست‌اند.

بررسی عبارت‌های نادرست:

آ شیمی‌دان‌ها قبل از آشنایی با ساختار اسیدها و بازها با ویژگی‌ها و واکنش میان آن‌ها فیلی هم فوب! آشنا بودند.

ت میزان رسانایی الکتریکی محلول اسیدها و بازها با هم یکسان نیست!

۸۳- گزینه ۱


۱۹

HX دواسمه!

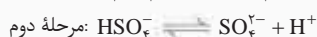
گاز بی‌رنگ هیدروژن کلرید (HCl(g)) از مولکول‌های دواتمی H-Cl تشکیل شده است (اتم‌های H و Cl با پیوند کووالانسی به هم متصل هستند). هنگامی که گاز هیدروژن کلرید در آب حل می‌شود، یون‌های H⁺(aq) و Cl⁻(aq) تولید می‌کند؛ به محلول آبی حاصل که دارای این یون‌هاست، هیدروکلریک اسید (HCl(aq)) می‌گویند. به بیان دیگر هیدروکلریک اسید (HCl(aq)) محلولی از گاز هیدروژن کلرید (HCl(g)) در آب است:



۱- در شکل صفحه ۱۶ کتاب درسی می‌بینیم که فرآورده واکنش SO₃ با آب، H₂SO₄ (SO₃²⁻ و 2H⁺) معرفی شده است. سولفوریک اسید دارای دو هیدروژن اسیدی است و می‌تواند طی دو مرحله یونش باید که مرحله اول یونش آن، کامل و مرحله دوم آن، تعادلی می‌باشد:



(این معادله در جدول صفحه ۲۳ کتاب درسی آورده شده است.)



در مرحله اول، ۱ مول H₂SO₄ به ۱ مول H⁺ و ۱ مول HSO₄⁻ تبدیل می‌شود و در مرحله دوم، ۱ مول HSO₄⁻ حاصل از مرحله قبلی، کمی تقسیمی! به SO₄²⁻ و H⁺ تبدیل می‌شود؛ یعنی از هر ۱ مول HSO₄⁻، کم‌تر از ۲ مول یون به دست می‌آید. فب! با این تفاسیر! می‌توان نتیجه گرفت که بر اثر انحلال ۱ مول SO₃ در آب، کم‌تر از ۳ مول یون تولید می‌شود.

این نکته برای بقیه هیدروژن هالیدها هم درست است:

HF(g) گاز هیدروژن فلئورید	HF(aq) محلول هیدروفلئوریک اسید
HBr(g) گاز هیدروژن برمید	HBr(aq) محلول هیدروبرمیک اسید
HI(g) گاز هیدروژن یدید	HI(aq) محلول هیدرویدیک اسید
HCN هیدروژن سیانید	HCN(aq) محلول هیدروسیانیک اسید

توجه! کتاب درسی در صفحه ۲۳، شما را با هیدروسیانیک اسید هم آشنا کرده است:

فقط عبارت اول نادرست است. درستی سایر گزینه‌ها را در کادر (۱۸) و صفحه‌های ۱۴ و ۱۵ کتاب درسی پیدا می‌کنید.

۸۴- گزینه ۲
به جز یک مورد، بقیه عبارت‌ها درست‌اند. محلول آبی همه اسیدها، رسانای خوب جریان برق نیستند. برخی اسیدها به طور جزئی در آب یونیده شده و رسانای ضعیف جریان برق‌اند.

۸۵- گزینه ۴



۸۶- گزینه ۲
نیتروژن دی‌اکسید (NO_2)، گوگرد تری‌اکسید (SO_3) و کربن دی‌اکسید (CO_2) که اکسیدهای نافلزی هستند، با انحلال در آب، محیط را اسیدی می‌کنند.

آمونیاک (NH_3)، سدیم اکسید (Na_2O) و آهک (CaO) در آب، خاصیت بازی دارند. در ضمن اتانول ($\text{CH}_3\text{CH}_2\text{OH}$) یک الکل است و محلول آبی آن، خاصیت اسیدی یا بازی ندارد.

۸۷- گزینه ۱
دومین فلز قلیایی، سدیم (Na) و دومین فلز قلیایی خاکی (گروه دوم) جدول تناوبی، منیزیم (Mg) است. NaOH در آب محلول است، اما در شیمی دهم خواندیم که $\text{Mg}(\text{OH})_2$ در آب نامحلول است.

گزینه ۲: در اکسید سدیم (Na_2O) هر دو یون Na^+ و O^{2-} به آرایش گاز نجیب نئون (Ne) رسیده‌اند.

گزینه ۳: در NaOH سود هم می‌گویند و همان‌طور که می‌بینید، در این ترکیب نسبت شمار کاتیون (Na^+) به آنیون (OH^-)، برابر یک است.

گزینه ۴: به طور کلی، انحلال اکسید فلزها در آب، محیط را بازی می‌کند.

۸۸- گزینه ۱
لیتیم هیدروکسید (LiOH) یک ترکیب یونی است و در آن پیوند یونی وجود دارد؛ اما *هواستون باشه* که یون هیدروکسید، یک یون چندانمی است و در آن اتم اکسیژن و اتم هیدروژن با هم پیوند اشتراکی تشکیل داده‌اند.



گزینه ۲: با انحلال LiOH در آب، میزان یون OH^- افزایش می‌یابد و محیط بازی می‌شود.

گزینه ۳: هم در صابون جامد (RCOONa) و هم در لیتیم هیدروکسید (LiOH)، نسبت شمار کاتیون به آنیون برابر ۱ است.

گزینه ۴: بازها (مانند LiOH و KOH) می‌توانند با اسیدها (مانند کربوکسیلیک اسیدها) واکنش دهند.

۸۹- گزینه ۲
عبارت‌های (ب)، (پ) و (ت) درست‌اند.

اکسیژن در گروه ۱۶ و سدیم در دوره سوم قرار دارد؛ پس عنصر X همان گوگرد (S) است. این عنصر دارای دو اکسید معروف SO_2 و SO_3 می‌باشد.

ا SO_2 و SO_3 ترکیب مولکولی‌اند نه یونی!

ب گوگرد نافلز است و اکسیدهای آن جزء اکسیدهای اسیدی به شمار می‌روند.

پ محلول آبی اکسیدهای گوگرد، خاصیت اسیدی دارد و می‌تواند با ترکیب شیمیایی موجود در شربت معده که خاصیت بازی دارد، واکنش دهد.

ت محلول آبی اکسیدهای گوگرد، مانند ترکیب آلی موجود در توت‌فرنگی (بنزوئیک اسید) خاصیت اسیدی دارد و pH آن کم‌تر از ۷ است.

۹۰- گزینه ۳
عبارت‌های (ا) و (ت) درست‌اند.

ا SO_2 و N_2O_5 هر دو اکسید نافلزی‌اند و جزء اسیدهای آرنیوس به شمار می‌آیند.



ب با حل شدن N_2O_5 در آب، یون های H^+ و NO_3^- پدید می آید. مدل فضاپرکن یون نیترات به صورت است نه ! با دانستن شمار اتم های سازنده یون نیترات و یا شمار یون های حاصل در آب، نادرستی شکل داده شده **تابلو بود!**

$$N_2O_5 + H_2O \rightarrow \underbrace{2HNO_3}_{2H^+, 2NO_3^-}$$

ب کاغذ pH در محیط های اسیدی به رنگ سرخ درمی آید.

ت از حل شدن هر مول N_2O_5 در آب، ۴ مول یون پدید می آید:
 N_2O_5 جرم مولی = $2(14) + 5(16) = 108 \text{ g.mol}^{-1}$
 یون $\frac{2/16 \text{ g } N_2O_5}{108 \text{ g } N_2O_5} \times \frac{1 \text{ mol } N_2O_5}{108 \text{ g } N_2O_5} \times \frac{4 \text{ mol یون}}{1 \text{ mol } N_2O_5} = 0.08 \text{ mol}$

عبارت های دوم و چهارم درست اند. اگر به نگاهی به واکنش انحلال این مواد در آب **بنمازین**، علت درستی و نادرستی همه عبارت ها را پیدا می کنید. **۹۱- گزینه ۳**

$SO_3 + H_2O \rightarrow 2H^+ + SO_3^{2-}$ $BaO + H_2O \rightarrow Ba^{2+} + 2OH^-$
 $N_2O_5 + H_2O \rightarrow 2H^+ + 2NO_3^-$ $Na_2O + H_2O \rightarrow 2Na^+ + 2OH^-$
 محلول آبی SO_3 و N_2O_5 (اکسیدهای نافلزتی) خاصیت اسیدی و محلول آبی BaO و Na_2O (اکسیدهای فلزی) خاصیت بازی دارند.

ب با توجه به شکل نشان داده شده، ذره های A، B و C به ترتیب NH_3 ، NH_4^+ و OH^- هستند. **۹۲- گزینه ۲**
 آ مولکول A (NH_3) به هنگام انحلال در آب، به طور جزئی به یون های NH_4^+ و OH^- تبدیل می شود؛ بنابراین باز آرنیوس است.

$NH_3 + H_2O(l) \rightleftharpoons NH_4^+(aq) + OH^-(aq)$
 ب اکسید فلزهای گروه اول مثل سدیم اکسید به هنگام حل شدن در آب، یون هیدروکسید ($OH^-(aq)$) پدید می آورند.

$Na_2O(s) + H_2O(l) \rightarrow \underbrace{2Na^+(aq) + 2OH^-(aq)}_{2NaOH(aq)}$

ب با توجه به شکل، در محلول، ۲ یون OH^- ، ۲ یون NH_4^+ و ۹ مولکول NH_3 وجود دارد. با توجه به معادله واکنش، به ازای یونیده شدن ۲ مولکول NH_3 ، ۲ یون OH^- و ۲ یون NH_4^+ حاصل می شود؛ پس تعداد کل مولکول های اولیه آمونیاک برابر با ۱۱ است.

۲ درصد مولکول های NH_3 دست نخورده $\frac{9}{11} \times 100 \approx 82\%$
 ت با توجه به مدل فضاپرکن یون NH_4^+ ، **واضحه** که اتم های هیدروژن در یک صفحه قرار ندارند.

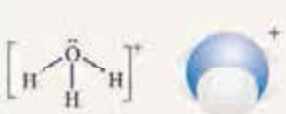
$NH_3 + H_2O \rightleftharpoons NH_4^+ + OH^-$ از انحلال آمونیاک در آب، یون های آمونیوم (NH_4^+) و هیدروکسید (OH^-) تولید می شود.
 در ضمن در انحلال آمونیاک، شمار زیادی از مولکول های آمونیاک به صورت دست نخورده در محلول باقی می ماند و یونیده نمی شوند؛ بنابراین غلظت یون های NH_4^+ و OH^- در محلول با غلظت اولیه NH_3 برابر نخواهد بود. **۹۳- گزینه ۲**

۹۴- گزینه ۳

یون هیدرونیوم

همان طور که می دانید، اتم هیدروژن (1H) تنها از یک پروتون و یک الکترون تشکیل شده و خبری از نوترون در آن نیست؛ بنابراین یون H^+ فقط **و فقط! از دار دنیا به پروتون داره و بس!**

بدانید و آگاه باشید! که H^+ جز روی کاغذ، وجود خارجی ندارد. یون هیدروژن (H^+) در آب، به شدت توسط مولکول های آب مورد حمله قرار می گیرد! به این صورت که یک مولکول H_2O یک جفت الکترون در اختیار H^+ قرار می دهد و در نتیجه یک ذره جدید به نام یون هیدرونیوم (H_3O^+) به وجود می آید.



H_3O^+ = یون هیدرونیوم

۱- یون H^+ ذره ای بسیار کوچک با چگالی بار الکتریکی بسیار زیاد است. منظور از چگالی بار، نسبت بار الکتریکی به حجم ذره است که با توجه به شعاع بسیار کوچک H^+ ، چگالی بار آن بسیار زیاد می باشد (عمله نکنید! در فصل ۳ کتاب دوازدهم، بیشتر در موردش می خوانیم). یون H^+ در محیط آبی به شدت آبیوشیده می شود. به این ترتیب که مولکول H_2O ، جفت الکترون خود را به H^+ می دهد و در نتیجه یک ذره جدید با چگالی بار کم تر از H^+ و پایداری بیشتر از آن، یعنی H_3O^+ پدید می آید.



توجه اگر در واکنشی $H^+(aq)$ دیدید، بدانید که تنها برای راحتی کار این گونه نوشته‌اند؛ وگرنه صورت درست‌تر آن، $H_3O^+(aq)$ است. مؤلفین

مفترم کتاب درسی هم برای این که شما اذیت نشید! در معادله واکنش‌ها فقط از H^+ استفاده کرده‌اند و خبری از $H_3O^+(aq)$ در معادله‌ها نیست.

نکته یکی از سؤال‌های معروف در مورد H_3O^+ ، تعداد الکترون، پروتون و نوترون‌های آن است. با توجه به این که اتم هیدروژن (1_1H) دارای ۱

الکترون و ۱ پروتون بوده و فاقد نوترون است و از طرفی اتم اکسیژن ($^{16}_8O$) ۸ الکترون، ۸ پروتون و ۸ نوترون دارد، خواهیم داشت:

$$8 + 3(1) = 11 = \text{تعداد پروتون‌ها}, \quad 8 + 3(1) = 11 = \text{تعداد الکترون‌ها}$$

به دلیل بار مثبت

اتم هیدروژن در همه گونه‌ها از جمله H_3O^+ دوتایی می‌شود نه هشت‌تایی!

۹۵- گزینه ۲ در کادر (۲۰) دیدیم که هر یون هیدرونیوم (H_3O^+) شامل ۱۰ الکترون، ۱۱ پروتون و ۸ نوترون است؛ پس می‌توان گفت هر مول یون

هیدرونیوم در مجموع دارای $10 + 11 + 8 = 29$ مول ذره زیراتمی (الکترون، پروتون و نوترون) است:

$$29 \times 6.02 \times 10^{23} = 174 \times 10^{23} = 17.4 \times 10^{24}$$

۹۶- گزینه ۱

۲۱

رسانایی الکتریکی محلول‌ها و قدرت اسیدی

برای مقایسه میزان اسیدی بودن دو یا چند محلول در آب، باید غلظت یون هیدرونیوم موجود در آن‌ها را با هم مقایسه کنیم. هر چه غلظت یون هیدرونیوم در یک محلول بیشتر باشد، آن محلول اسیدی‌تر است.

توجه خوراکی‌ها، شوینده‌ها، داروها و مواد آرایشی و بهداشتی شامل مقادیر مختلفی از یون‌ها به ویژه یون هیدرونیوم هستند. غلظت این یون بر روی ماندگاری مواد و سلامتی انسان تأثیر بسزایی دارد؛ به همین دلیل در فرایند تولید مواد مختلف، اغلب تعیین و کنترل غلظت یون هیدرونیوم فیلی مهمه!

مثال یک نمونه شیر سالم با افزایش غلظت یون هیدرونیوم، ترش شده و متأسفانه! **دیگه قابل نوش‌پان! کردن نیست.** در شیمی یازدهم خواندیدیم که شیر ترش شده دارای لاکتیک اسید است.

یکی از روش‌هایی که به کمک آن می‌توان میزان اسیدی بودن دو محلول را با هم مقایسه کرد، مقایسه رسانایی الکتریکی آن دو محلول است. پس بریم با رسانایی و مواد رسانا بیشتر آشنا شویم!

رساناها را می‌توان به دو دسته تقسیم کرد:

۱) رساناهای الکترونی؛

در این نوع رساناها، جریان الکتریکی به وسیله حرکت الکترون‌ها ایجاد می‌شود؛ فلزها رسانای الکترونی هستند؛ زیرا با برقراری یک اختلاف پتانسیل بین دو سر یک سیم فلزی، الکترون‌ها در سیم به حرکت درمی‌آیند.

آیا نافلزی هم وجود دارد که رسانای الکترونی باشد؟

بله! گرافیت (یکی از آلوتروپ‌های نافلز کربن) نیز خاصیت رسانایی الکتریکی دارد.

۲) رساناهای یونی؛

در این نوع رساناها، جریان الکتریکی در اثر حرکت یون‌ها ایجاد می‌شود؛ محلول‌های الکترولیت (که به‌تر باهاشون آشنا می‌شویم!) و نمک‌های مذاب، رسانای یونی هستند زیرا یون‌ها می‌توانند آزادانه در آن‌ها حرکت کنند. رسانایی یونی وقتی انجام می‌شود که یون‌ها بتوانند از نقطه‌ای به نقطه دیگر جابه‌جا شوند، چون در این شرایط بارهای الکتریکی هم جابه‌جا می‌شوند.

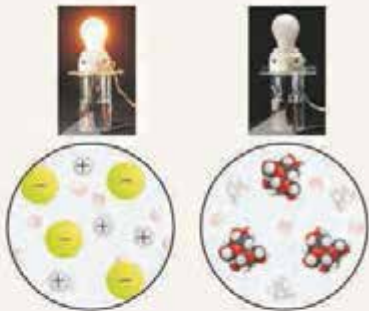
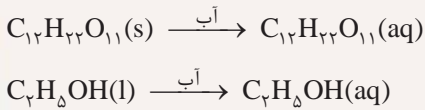
نوع رسانا	علت رسانایی	مثال
الکترونی	حرکت الکترون‌ها	فلزها و گرافیت
یونی	حرکت یون‌ها	محلول الکترولیت و نمک مذاب



مثال: محلول آبی سدیم کلرید حاوی یون‌های $\text{Na}^+(\text{aq})$ و $\text{Cl}^-(\text{aq})$ است که با جنبش‌های آزادانه اما نامنظم در سرتاسر محلول پراکنده‌اند. حالا اگر این محلول را در مدار الکتریکی قرار بدهیم، یون‌ها به سمت قطب‌های ناهم‌نام می‌روند. یعنی یون‌های $\text{Na}^+(\text{aq})$ به سمت قطب منفی و یون‌های $\text{Cl}^-(\text{aq})$ به سمت قطب مثبت رفته و به این ترتیب جریان برق در مدار برقرار شده و لامپ روشن می‌شود. جابه‌جایی یون‌ها نشان‌دهنده جابه‌جایی بارهای الکتریکی و در نتیجه، رسانایی الکتریکی محلول سدیم کلرید است.

نکته: مواد را با توجه به نوع انحلال آن‌ها در آب و برحسب ایجاد یا عدم ایجاد یون در محلول حاصل، به دو دسته الکترولیت و غیرالکترولیت تقسیم می‌کنند:

مواد غیرالکترولیت: موادی هستند که به صورت کاملاً مولکولی حل شده و بر اثر انحلال، یون تولید نمی‌کنند. (انحلال آن‌ها در آب، مولکولی است.) به محلول این مواد، **محلول غیرالکترولیت** می‌گویند؛ به طور مثال، شکر ($\text{C}_{12}\text{H}_{22}\text{O}_{11}$) و اتانول ($\text{C}_2\text{H}_5\text{OH}$) غیرالکترولیت هستند و فرایند انحلال آن‌ها در آب را می‌توان به صورت روبه‌رو نشان داد:



مقایسه رسانایی الکتریکی محلول‌های آبی سدیم کلرید و شکر

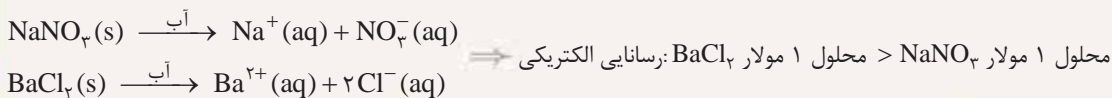
مواد الکترولیت: موادی هستند که بر اثر انحلال در آب، در محلول یون ایجاد می‌کنند. به محلول این مواد، **محلول الکترولیت** می‌گویند؛ به طور مثال، NaCl الکترولیت است و فرایند انحلال آن در آب را می‌توان به صورت روبه‌رو نشان داد:



همان‌طور که قبلاً گفتیم، شرط رسانایی الکتریکی یک محلول، وجود یون‌های ناهم‌نام متحرک در آن است؛ بنابراین محلول‌های غیرالکترولیت، رسانای جریان برق نیستند، ولی در محلول‌های الکترولیت به دلیل وجود یون‌ها و حرکت آن‌ها، بارهای الکتریکی جابه‌جا می‌شوند؛ به طوری که اگر این محلول‌ها در یک مدار الکتریکی قرار گیرند، با حرکت یون‌ها به سوی قطب‌های ناهم‌نام، جریان الکتریکی برقرار می‌شود.

محلول شکر ($\text{C}_{12}\text{H}_{22}\text{O}_{11}(\text{aq})$) > محلول $\text{NaCl}(\text{aq})$: رسانایی الکتریکی

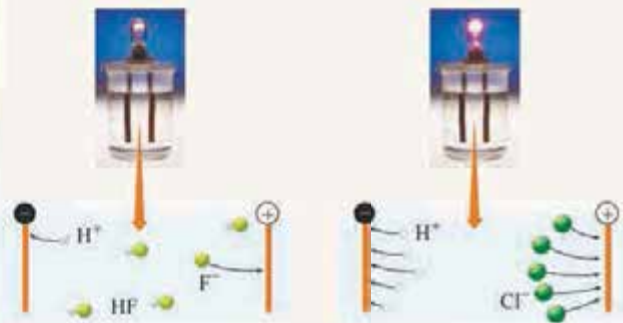
نکته: رسانایی الکتریکی محلول‌های الکترولیت، یکسان نیست. کاملاً واضح است که هر چه تعداد یون‌های موجود در یک محلول بیشتر باشد، رسانایی الکتریکی محلول بیشتر خواهد بود؛ به طور مثال رسانایی الکتریکی محلول ۱ مولار باریم کلرید بیشتر از محلول ۱ مولار سدیم نیترات است؛ زیرا بر اثر انحلال هر ۱ مول BaCl_2 ، در مجموع ۳ مول یون (۱ مول Ba^{2+} و ۲ مول Cl^-) به دست می‌آید؛ در حالی که بر اثر انحلال هر ۱ مول NaNO_3 ، تنها ۲ مول یون (۱ مول Na^+ و ۱ مول NO_3^-) حاصل می‌شود.



۱- در حد کنکور فرض می‌کنیم که میزان رسانایی یون‌های مختلف در محلول‌های آبی یکسان است.



فب! بریم سراغ اسیدها!



دیدیم که اسیدها هم ضمن حل شدن در آب، یون تولید می‌کنند؛ پس محلول اسیدها در آب، الکترولیت است، اما همه اسیدها در آب به یک اندازه، یون تولید نمی‌کنند؛ در نتیجه رسانایی الکتریکی محلول اسیدها در آب ممکن است با هم برابر نباشد. شکل روبه‌رو رسانایی الکتریکی محلول ۱/۰ مولار هیدروکلریک اسید و محلول ۱/۰ مولار هیدروفلوئوریک اسید را در دمای اتاق نشان می‌دهد:

همان‌طور که می‌بینید HCl(aq) رسانای قوی جریان الکتریکی و HF(aq) رسانای ضعیف جریان الکتریکی است. کم‌تر بودن رسانایی الکتریکی هیدروفلوئوریک اسید نشان می‌دهد که در شرایط یکسان، شمار یون‌های موجود در این محلول (H⁺ و F⁻) کم‌تر از هیدروکلریک اسید (H⁺ و Cl⁻) است. **فلاصه این‌که!** با وجود یکسان بودن غلظت دو محلول، غلظت یون هیدرونیوم در محلول HCl(aq) بیشتر است. یعنی میزان اسیدی بودن محلول هیدروکلریک اسید بیشتر از هیدروفلوئوریک اسید است؛ به همین دلیل شیمی‌دان‌ها HCl را اسیدی قوی‌تر از HF نظر می‌گیرند. **فعالاً تا همین‌جا بسه!** کمی جلوتر با اسیدهای قوی و ضعیف بیشتر آشنا خواهید شد.

فلزها و گرافیت، رسانای الکترونی هستند.

۹۷- گزینه ۲

با توجه به کادر قبل، موارد «آ»، «ب»، «پ» و «ث»، رسانای یونی نیستند.

۹۸- گزینه ۴

گزینه ۲ (۲) درست است زیرا در حالت جامد، یون‌ها نمی‌توانند جابه‌جا شوند اما در حالت مذاب، یون‌ها می‌توانند آزادانه حرکت کرده و

۹۹- گزینه ۲

بارهای الکتریکی را جابه‌جا کنند.

گزینه ۱ (۱): جنبش یون‌های Na⁺ و Cl⁻ در محلول آبی سدیم کلرید، آزادانه ولی نامنظم است.

گزینه ۳ (۳): یون‌ها به سمت قطب‌های ناهم‌نام می‌روند؛ یعنی یون‌های Na⁺ به سمت قطب منفی و یون‌های Cl⁻ به سمت قطب مثبت!

گزینه ۴ (۴): رسانایی محلول سدیم کلرید و سدیم کلرید مذاب هر دو به دلیل جابه‌جاشدن یون‌ها است.

۱۰۰- گزینه ۲

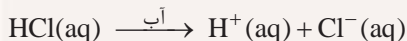
۲۲

الکترولیت‌های قوی و ضعیف

در کادر قبل فهمیدیم که همه مواد الکترولیت در آب به یک اندازه یون تولید نمی‌کنند. مواد الکترولیت را می‌توان به دو دسته تقسیم کرد: الکترولیت‌های قوی و الکترولیت‌های ضعیف

الکترولیت‌های قوی، به الکترولیت‌هایی گفته می‌شود که به هنگام انحلال در آب، به طور کامل یا به طور عمده تفکیک یا به یون تبدیل می‌شوند.

نکته اسیدهای قوی (مانند HCl)، بازهای قوی (مانند NaOH) و برخی نمک‌ها (مانند MgCl_۲) جزء این دسته هستند و فرایند انحلال آن‌ها در آب را می‌توان به صورت روبه‌رو نشان داد:



الکترولیت‌های ضعیف: به الکترولیت‌هایی گفته می‌شود که به هنگام انحلال در آب به طور عمده به صورت مولکولی حل شده و شمار یون‌ها در محلول آن‌ها کم است (در محلول آن‌ها، هم یون و هم مولکول وجود دارد).

نکته اسیدهای ضعیف مانند HF، CH_۳COOH (استیک اسید) و بازهای ضعیف مانند NH_۳ جزء الکترولیت‌های ضعیف هستند.

وجه فرایند انحلال الکترولیت‌های ضعیف در آب، برگشت‌پذیر است؛ پس باید واکنش مربوط به آن‌ها را با استفاده از فلش دوطرفه (⇌) نشان داد؛ به طور مثال فرایند انحلال HF در آب به صورت روبه‌رو است:



۱- اسیدها و بازهای قوی را به‌طور بهتر معرفی خواهیم کرد.



بچه‌ها مراقب باشین! لزوماً همهٔ محلول‌هایی که از حل کردن ترکیب‌های مولکولی قطبی در آب به دست می‌آیند، الکترولیت نیستند. به طور مثال برخی ترکیب‌های مولکولی قطبی مانند متانول (CH_3OH)، اتانول ($\text{C}_2\text{H}_5\text{OH}$) و استون (CH_3COCH_3) در آب کاملاً به صورت مولکولی حل شده و غیرالکترولیت به حساب می‌آیند؛ به همین دلیل اغلب (نه همه!) محلول‌هایی که از حل کردن ترکیب‌های یونی یا ترکیب‌های مولکولی قطبی در آب به دست می‌آیند، الکترولیت هستند.

بگفتن! با توجه به این که در محلول‌های غیرالکترولیت، ردپایی از یون‌ها دیده نمی‌شود، پس این محلول‌ها رسانای جریان برق نیستند. محلول الکترولیت‌های ضعیف، رسانای ضعیف جریان برق و محلول الکترولیت‌های قوی، معمولاً رسانای قوی جریان برق هستند.



شیمیوفیل‌ها بخوانند!

محلول هر الکترولیت قوی لزوماً رسانای قوی جریان برق نیست! برای این که محلول یک ماده رسانای قوی جریان برق باشد حتماً هر دو شرط زیر را داشته باشد.

- ۱) الکترولیت قوی باشد.
- ۲) انحلال‌پذیری خوبی در آب داشته باشد تا با حل کردن مقدار مناسبی از آن، غلظت یون‌ها در محلول آن به اندازه‌ای برسد که بتوانند به راحتی جریان برق را عبور دهند.

به طور مثال ترکیب‌های یونی نامحلول در آب مانند AgCl و BaSO_4 اگرچه به مقدار بسیار کمی در آب حل می‌شوند (کم‌تر از ۰/۰۱ گرم در ۱۰۰ گرم آب) اما همان مقدار ناچیز حل شده هم تقریباً به طور کامل به یون تفکیک می‌شود؛ بنابراین الکترولیت قوی به شمار می‌آیند. حالا به نظر شما محلول حاصل از این ترکیب‌ها، رسانای قوی جریان برق است؟ معلومه که نه! با این که مقدار ناچیز حل شده از این ترکیب‌ها، تقریباً به طور کامل به یون تبدیل می‌شود اما تعداد یون‌های حاصل به اندازه‌ای کم است که محلول آن‌ها رسانای قوی الکتریسیته نیست.

- گزینهٔ ۱):** اتیلن گلیکول ($\text{C}_2\text{H}_6\text{O}_2$) به صورت مولکولی در آب حل می‌شود و محلول آبی آن رسانای جریان برق نیست؛ پس باید لامپ خاموش می‌پورد!
- گزینهٔ ۲):** نه کی گفته؟ مثلاً اتانول یک مولکول قطبی است و در میدان الکتریکی جهت‌گیری می‌کند، اما غیرالکترولیت است.
- گزینهٔ ۴):** مواد غیرالکترولیت موادی هستند که به صورت مولکولی در آب حل می‌شوند نه این که در آب نامحلول باشند!

۱۰۱- گزینهٔ ۱

عبارت‌های «آ» و «ب» درست‌اند.

آ فلزها و گرافیت، رسانای الکترونی هستند.

ب محلول‌های آبی سدیم نیتрат، باریوم کلرید و هیدروفلوئوریک اسید، الکترولیت است. دقت کنید که متانول به صورت مولکولی در آب حل می‌شود و غیرالکترولیت است.

پ در رسانای یونی، یون‌ها جابه‌جا می‌شوند نه الکترون‌ها!

ت نه! مثلاً گازهای HCl و NH_3 ، ترکیب مولکولی تشریف دارند! اما الکترولیت به شمار می‌آیند؛ زیرا با حل شدن آن‌ها در آب، یون پدید می‌آید.

۱۰۲- گزینهٔ ۱

با توجه به خاموش و روشن بودن لامپ‌ها، شکل‌های (آ)، (ب) و (پ) به ترتیب محلول الکترولیت ضعیف (مانند هیدروفلوئوریک اسید)، الکترولیت قوی (مانند پتاسیم هیدروکسید) و غیرالکترولیت (مانند اتانول) را نشان می‌دهند.

۱۰۳- گزینهٔ ۴

بار یون سولفات (SO_4^{2-})، ۲- است، در حالی که آنیون‌های نشان داده شده در محلول (b) دارای بار ۱- هستند.

گزینهٔ ۱): در شکل (c) خبری از یون نیست، پس مربوط به یک محلول غیرالکترولیت است (حل‌شونده به صورت مولکولی حل شده است).

گزینهٔ ۲): HF یک الکترولیت ضعیف است و در محلول آن، علاوه بر یون‌ها، مولکول‌های HF هم وجود دارد.

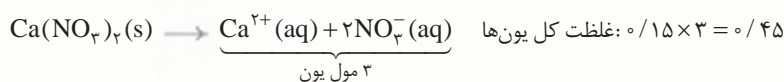
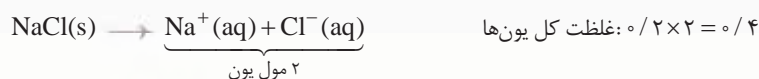
گزینهٔ ۳): با توجه به این که محلول‌های a، b و c به ترتیب الکترولیت ضعیف، الکترولیت قوی و غیرالکترولیت هستند، این مقایسه درست‌ه!



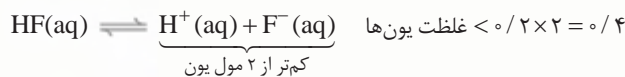
۱۰۴- گزینه ۱ همه موارد برای تکمیل عبارت داده شده، مناسباند. رسانایی محلول‌ها به دلیل وجود یون‌ها و حرکت آن‌ها است؛ بنابراین کم‌تر بودن رسانایی الکتریکی محلول هیدروفلوئوریک اسید نشان می‌دهد که در شرایط یکسان، شمار یون‌های موجود در این محلول کم‌تر از محلول هیدروکلریک اسید است؛ یعنی HF الکترولیت و اسید ضعیف‌تری از HCl است و به میزان کم‌تری یونش یافته!

۱۰۵- گزینه ۴ همان‌طور که می‌بینید، در شکل (۱) همه مولکول‌های اسید، یونیده نشده‌اند و در محلول HA، مولکول HA هم وجود دارد؛ در حالی که در شکل (۲) فقط با یون‌ها سروکار داریم! پس HB اسید قوی‌تری از HA بوده و در شرایط یکسان، خاصیت اسیدی محلول HB بیشتر است.

۱۰۶- گزینه ۲ غلظت یون‌ها در محلول ۰/۲ مولار سدیم کلرید کم‌تر از محلول ۰/۱۵ مولار کلسیم نیترات است؛ به همین دلیل رسانایی الکتریکی آن کم‌تر است.



از طرفی HF یک الکترولیت و اسید ضعیف است و بیشتر به صورت مولکولی در آب حل می‌شود؛ بنابراین غلظت یون‌ها در محلول ۰/۲ مولار آن کم‌تر از ۰/۴ مولار بوده و رسانایی الکتریکی این محلول از محلول ۰/۲ مولار سدیم کلرید کم‌تر است.



فقط یک شکل (مربوط به محلول شکر) درست است. بیا بید همه رو یکی یکی بررسی کنیم:

- محلول سدیم کلرید: در این محلول، اندازه یون‌های منفی (Cl^-) باید بزرگ‌تر از اندازه یون‌های مثبت (Na^+) باشد که در شکل برعکس نشون داده شده!
- محلول هیدروکلریک اسید: یون‌ها باید به سوی قطب‌های ناهم‌نام حرکت کنند؛ یعنی H^+ به سمت قطب منفی و Cl^- به سمت قطب مثبت!
- محلول شکر: شکر به صورت مولکولی در آب حل می‌شود و محلول آن رسانای جریان برق نیست؛ یعنی لامپ باید خاموش باشد که هست!
- محلول هیدروفلوئوریک اسید: HF یک اسید ضعیف است و بیشتر به صورت مولکولی در آب حل می‌شود؛ پس در محلول آن، علاوه بر یون‌های H^+ و F^- ، با مولکول‌های HF هم سروکار داریم که در شکل داده شده، از شون فبری نیست.

۱۰۸- گزینه ۳ در غلظت و شرایط یکسان، شمار یون‌های موجود در محلول (۴) بیشتر از محلول (۱) است؛ به همین دلیل خاصیت بازی محلول (۴) بیشتر است.

گزینه (۱): با توجه به مدل فضاپرکن یون‌های H_3O^+ و OH^- (می‌شه فهمید محلول‌های (۱) و (۴) خاصیت بازی و محلول‌های (۲) و (۳) خاصیت اسیدی دارند.

گزینه (۲): در محلول (۴) یون OH^- وجود دارد و یک محلول بازی است.

گزینه (۴): شمار یون‌ها در محلول (۳) بیشتر از محلول (۲) است؛ به همین دلیل رسانایی الکتریکی آن بیشتر است.

۱۰۹- گزینه ۱ ابتدا به کمک اطلاعات داده شده، جرم مولی اکسید (M) را به دست می‌آوریم:

$$۳/۰۱ \times ۱۰^{۲۲} \text{ مولکول } \text{N}_m\text{O}_n \times \frac{۱ \text{ mol } \text{N}_m\text{O}_n}{۶/۰۲ \times ۱۰^{۲۳} \text{ مولکول } \text{N}_m\text{O}_n} \times \frac{(M) \text{ g } \text{N}_m\text{O}_n}{۱ \text{ mol } \text{N}_m\text{O}_n} = ۵/۴ \text{ g } \text{N}_m\text{O}_n \Rightarrow \frac{M_{\text{N}_m\text{O}_n}}{۲۰} = ۵/۴$$

$$\Rightarrow M_{\text{N}_m\text{O}_n} = ۱۰۸ \text{ g} \cdot \text{mol}^{-1}$$

آگه به نگاهی به گزینه‌ها بندازین، اکسید می‌تونه N_4O_5 ($\frac{n}{m} = ۲/۵$) یا N_4O_7 ($\frac{n}{m} = ۱/۵$) باشه!

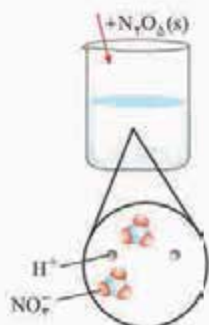
$$\text{N}_4\text{O}_7 \text{ جرم مولی } = ۲(۱۴) + ۳(۱۶) = ۷۶ \text{ g} \cdot \text{mol}^{-1} \quad \text{✗}$$

$$\text{N}_4\text{O}_5 \text{ جرم مولی } = ۲(۱۴) + ۵(۱۶) = ۱۰۸ \text{ g} \cdot \text{mol}^{-1} \quad \text{✓}$$

تا این‌جا فهمیدیم که اکسید موردنظر N_4O_5 است.

با توجه به شکل صفحه ۱۶ کتاب درسی، N_4O_5 در آب به HNO_3 تبدیل می‌شود و این اسید در آب، به طور کامل به

یون‌های H^+ و NO_3^- تفکیک می‌شود؛ بنابراین محلول N_4O_5 در آب یک الکترولیت قوی است.



اسیدهای قوی و ضعیف

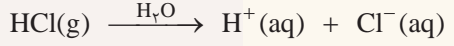
۲۳

به فرایندی که در آن یک ترکیب مولکولی به یون‌های مثبت و منفی تبدیل می‌شود، **یونش** می‌گویند. اسیدها را بر مبنای میزان یونشی که در آب دارند، به دو دسته **قوی** و **ضعیف** تقسیم می‌کنند، ولی قبل از بررسی این دو دسته، **بوتره با به تعریف آشنا بشیم**؛ به اسیدهایی که هر مولکول آن‌ها در آب، تنها می‌تواند یک یون هیدرونیوم تولید کند، اسیدهای تک‌پروتون‌دار می‌گویند. به عبارت بهتر، به اسیدهایی که هر مول از آن‌ها در آب حداکثر می‌تواند یک مول یون H^+ تولید کند، اسید تک‌پروتون‌دار می‌گویند. HCl ، HF ، HNO_3 ، HCN و کربوکسیلیک اسیدهای یک‌عاملی مانند CH_3COOH ، جزء اسیدهای تک‌پروتون‌دار هستند.

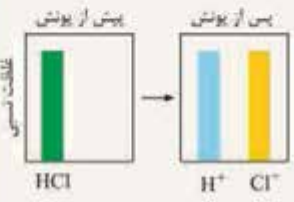
فب! هالا بریم سراغ دو دسته اسیدهای قوی و ضعیف:

۱- اسیدهای قوی؛ بر اثر حل شدن در آب، تقریباً به طور کامل یونش می‌یابند؛ به همین دلیل می‌توان گفت غلظت هر یک از یون‌ها در محلول اسیدهای قوی تک‌پروتون‌دار، با غلظت اولیه اسید، برابر است و عملاً پس از یونش، خبری از اسید اولیه نیست!

مثال HCl یک اسید قوی است و معادله یونش آن در آب به صورت زیر است:



غلظت قبل از یونش:	M	°	°
غلظت پس از یونش:	°	M	M



بنابراین می‌توان غلظت نسبی گونه‌ها در محلول هیدروکلریک اسید را به صورت روبه‌رو نشان داد: از اسیدهای قوی می‌توان HI (هیدرویدیک اسید)، HBr (هیدروبرمیک اسید)، HCl (هیدروکلریک اسید)، H_2SO_4 (سولفوریک اسید) و HNO_3 (نیتریک اسید) را نام برد.

نکته از آن‌جا که اسیدهای قوی در آب تقریباً به طور کامل یونش می‌یابند، جزء الکترولیت‌های قوی به حساب می‌آیند. محلول اسیدهای قوی را می‌توان محلولی شامل یون‌های آبپوشیده دانست؛ به طوری که در آن‌ها تقریباً مولکول‌های یونیده نشده، یافت نمی‌شود.

۲- اسیدهای ضعیف؛ بر اثر حل شدن در آب به طور جزئی یونش می‌یابند؛ یعنی بیشتر مولکول‌های اسید به صورت **دست‌نفروده!** در محلول باقی می‌مانند و فقط تعداد کمی از مولکول‌های اسید به یون تبدیل می‌شوند. **فلاسه این‌که!** در محلول اسیدهای ضعیف، علاوه بر یون‌های آبپوشیده، مولکول‌های اسید نیز **یافت می‌شوند!**

مثال HF یک اسید ضعیف است و معادله یونش آن در آب به صورت روبه‌رو است:

کمی پلوتر فواهم فواند که در اسیدهای ضعیف، همواره همان اندک یون‌های حاصل از یونش آن‌ها با مولکول‌های یونیده نشده در تعادل هستند؛ به همین دلیل معادله یونش اسیدهای ضعیف در آب را به صورت دوطرفه (برگشت‌پذیر) نشان می‌دهیم.



مقایسه غلظت نسبی گونه‌ها در محلول هیدروفلوئوریک اسید را می‌توان به صورت روبه‌رو نشان داد: **هواستون باشه!** ضرب استوکیومتری H^+ و F^- در معادله یونش HF ، برابر است؛ پس غلظت آن‌ها در محلول با هم برابر خواهد بود. در ضمن ارتفاع ستون مربوط به هر یک از یون‌های H^+ و F^- باید برابر با اختلاف ارتفاع ستون HF پیش از یونش و پس از یونش باشد. **آگه شک دارین یه نگاهی به معادله‌های زیر بندازین!**



غلظت قبل از یونش اسید:	M	°	°
تغییر غلظت:	-X	+X	+X
غلظت نهایی پس از یونش (تعادلی):	M - X	X	X

در معادله بالا، X در واقع میزان یونیده شدن اسید را نشان می‌دهد.

۱- البته H_2SO_4 یک اسید دوپروتون‌دار است که فقط مرحله اول یونش آن به طور کامل انجام می‌شود.



از اسیدهای ضعیف می‌توان HF (هیدروفلوئوریک اسید)، HCN (هیدروسیانیک اسید)، H_2CO_3 (کربنیک اسید) و کربوکسیلیک اسیدها مانند متانوئیک (فورمیک) اسید (HCOOH) و اتانوئیک (استیک) اسید (CH_3COOH) را نام برد.

نکته: کربوکسیلیک اسیدها (RCOOH) از جمله اسیدهای ضعیف هستند که تنها هیدروژن گروه کربوکسیل آن‌ها می‌تواند به صورت یون هیدرونیوم وارد محلول شود؛ بنابراین معادله یونش آن‌ها را می‌توان به صورت زیر نشان داد:



به طور مثال معادله یونش استیک اسید در آب **این‌طور** است؛
 $CH_3COOH(aq) \rightleftharpoons H^+(aq) + CH_3COO^-(aq)$
 نام آنیون حاصل از یونش کربوکسیلیک اسیدها در آب، بر وزن کربوکسیلات است:



اغلب اسیدهایی که در زندگی روزانه با آن‌ها **سر و کار داریم**، اسید ضعیف هستند. اسیدهای موجود در سرکه (همون استیک اسید!)، سیب، انگور، ریواس و مرکبات مانند پرتقال و لیمو از جمله اسیدهای خوراکی و ضعیف هستند.
نکته: اسیدهای ضعیف، جزء الکترولیت‌های ضعیف هستند و رسانای ضعیف جریان برق‌اند.

عبارت‌های دوم و سوم درست‌اند و اما بررسی عبارت‌های نادرست:

عبارت اول: در محلول آبی اسیدهای قوی و ضعیف تک‌پروتون دار، ضریب استوکیومتری آنیون حاصل از یونش اسید با ضریب استوکیومتری H^+ ، برابر است؛ پس غلظت هر دو گونه با هم برابر است.

عبارت چهارم: **نفر!** در اسیدهای ضعیف، غلظت یون هیدرونیوم حاصل با غلظت اولیه اسید برابر نیست!

هیدروکلریک اسید، یک اسید قوی است که بر اثر حل شدن در آب تقریباً به طور کامل یونش می‌یابد: **گزینه ۲**



با توجه به واکنش بالا، به ازای انحلال هر مول HCl، یک مول H^+ و یک مول Cl^- تولید می‌شود؛ پس نمودار مربوط به HCl باید پیش از یونش دارای یک ستون برای HCl و پس از یونش دارای دو ستون با همان اندازه، یکی برای H^+ و یکی برای Cl^- باشد، **تا همین‌جا گزینه‌های (۳) و (۴) پُر!**
 اما هیدروفلوئوریک اسید، یک اسید ضعیف است که در آب به صورت جزئی یونیده می‌شود و همان اندک یون‌های حاصل از یونش آن با مولکول‌های یونیده‌نشده در تعادل‌اند:



بنابراین نمودار مربوط به آن باید پیش از یونش دارای یک ستون برای HF و پس از یونش دارای سه ستون باشد. یک ستون مربوط به HF یونیده‌نشده که اندازه آن فقط کمی کوتاه‌تر از ستون HF پیش از یونش است (چون مقدار کمی HF یونیده می‌شود و مقدار زیادی یونیده‌نشده باقی می‌ماند) و دو ستون کوتاه برای یون‌های H^+ و F^- تولیدشده که اندازه این دو ستون باید به اندازه تفاوت ارتفاع ستون HF پیش و پس از یونش باشد. **تازه!** ارتفاع دو ستون H^+ و F^- باید با هم برابر هم باشند؛ پس گزینه (۱) هم **پُر!** و جواب درست گزینه (۲) است!

با توجه به مطالب صفحه ۱۹ کتاب درسی، اغلب اسیدهایی که در زندگی روزانه با آن‌ها سر و کار داریم، ضعیف هستند. در مورد گزینه (۳)، جلوتر خواهیم خواند که محلول اسیدهای ضعیف در آب، نمونه‌ای از سامانه‌های تعادلی است. برای هر سامانه تعادلی در دمای ثابت، غلظت تعادلی گونه‌های موجود در محلول ثابت می‌ماند. **گزینه ۲**

اسیدهای ضعیف به طور کامل در آب یونش نمی‌یابند؛ پس معادله واکنش یونش آن‌ها در آب را باید به صورت دوطرفه (\rightleftharpoons) نشان داد. **آه** در مورد درستی بقیه گزینه‌ها **شک داریم**، **خی‌الغور!** خود را به کادر (۲۳) معرفی کنید. **گزینه ۳**

عبارت‌های (ب)، (ت) و (ث) درست‌اند. **گزینه ۳**

با توجه به نمودار داده‌شده، از آن‌جا که پس از یونش، از اسید HA چیزی باقی **نمونه!** و تقریباً به طور کامل به H^+ و A^- یونیده شده است، HA یک اسید قوی است؛ ولی پس از یونش HB، هنوز مقدار زیادی از آن باقی مانده و مقدار کمی H^+ و B^- تولید شده، بنابراین HB یک اسید ضعیف است و **اها** بررسی عبارت‌ها،

با توجه به این‌که فراوانی و غلظت یون‌ها در محلول اسید قوی HA بیشتر از اسید ضعیف HB است، محلول HA رسانایی الکتریکی بیشتری دارد.