



موسسه ایران دانش نوین

رویای خودت شود...



@IranDaneshNovin



@Iran_Danesh_Novin

برای دانلود بقیه ی جزوات با کلیک روی لینک های زیر به
سایت یا کانال های ما در تلگرام و اینستاگرام سر بزنید:

www.IDNovin.com

<https://telegram.me/irandaneshnovin>

http://instagram.com/iran_danesh_novin

پرسی و پاسخ کتاب انسان و محیط زیست

تهیه و تنظیم: محسن یوسفی دبیر جغرافیا در استان قم

درس ۱

۱- چرا زمین سیاره ای بی همتاست؟

زمین در کیهان و منظومه شمسی، تا جایی که ما می دانیم سیاره ای بی همتاست. یکی از دلایل اصلی این پدیده، وجود آب این سیاره است.

۲- اهمیت آب را بنویسید.

آب اساس زندگی روی زمین است و سرچشمه حیات از آب آغاز شده است. ما می توانیم تا چند هفته بدون غذا زنده بمانیم، اما بدون آب، تنها برای چند روز دوام می آوریم. در واقع هیچ ماده ای جایگزین این نعمت ارزشمند الهی نمی شود.

۳- اهمیت استفاده و مدیریت بهینه از آب در دنیای امروز را توضیح دهید.

فراوانی آب در قسمتهای مختلف کره زمین توسط این چرخه بسته تأمین می شود و حجم آن ثابت است؛ اما توزیع آب شیرین موجود در قاره ها یکسان نیست. بنابراین استفاده و مدیریت بهینه آب بسیار مهم است.

۴- وضعیت امروزی اقلیم و آب در ایران را توضیح دهید.

۱- ایران از نظر جغرافیایی در بخش بیابانی و نیمه بیابانی جهان قرار گرفته و از کل مساحت آن تنها ۱۵ درصد آن از پوشش گیاهی مناسب برخوردار است.

۲- بیش از ۸۵ درصد کشور ما جزو مناطق خشک و نیمه خشک محسوب میشود.

برای دانلود رایگان جزوات بیشتر از کانال تلگرام ما اینجا کلیک کنید



@IranDaneshNovin



DOWNLOAD

۳- از سوی دیگر و با توجه به نوع آب و هوای ایران، از مجموع بارش ها فقط بخش اندکی از آن قابل استفاده است.

۴- ایران در منطقه بیابانی و نیمه بیابانی قرار گرفته و بیش ترین وسعت ناحیه آب و هوایی ایران نیز گرم و خشک است .

۵- توزیع غیریکنواخت منابع آب در ایران.

۵- علل وقوع مشکل تامین آب در کشورهای مختلف جهان را بنویسید.

توزیع غیریکنواخت منابع آب شیرین در جهان و افزایش شدید جمعیت در برخی مناطق، تأمین آب را برای این کشورها دشوارتر کرده است .منابع آب زمین افزایش نمی یابد؛ درحالیکه در صد سال گذشته جمعیت جهان سه برابر و مصرف سرانه آب به ازای هرفرد، چهار برابر شده است.

۶- چرا مصرف آب یک کشور بسیار بیش تر از آبی است که در خانه مصرف می شود؟

زیرا افزون بر مصارف خانگی آب در بخش های دیگر مانند زمین های کشاورزی، فرایندهای صنعتی، مصارف عمومی مانند آب پاشی و شست وشوی خیابان ها، آبیاری درختان و ... استفاده می شود.

۷- بخش های مختلف مصرف آب در کشور را نام ببرید.

بخش های کشاورزی، آشامیدنی و فعالیت های صنعتی و خدماتی

۸- علل وابستگی زیاد کشاورزی به آبیاری را بنویسید.

بارش در بسیاری از نقاط کشور ما به اندازه کافی نیست. علاوه بر این، بخش عمده همین بارش ها نیز در فصول مورد نیاز برای کشاورزی اتفاق نمی افتد و به همین علت، کشاورزی در ایران عمدتاً وابسته به آبیاری است. کشورما بیشترین وسعت زمین تحت کشاورزی با آبیاری را به خود اختصاص داده است؛ همچنین بیشترین مصرف آب در ایران در بخش کشاورزی صورت می پذیرد.

۹- اهمیت بهینه سازی مصرف آب در بخش کشاورزی را بنویسید.

حجم بزرگی از آب در بخش کشاورزی استفاده می شود، به اهمیت بهینه سازی مصرف آب در این بخش، پی برد و به همین دلیل است که اجرای صحیح و اصولی روش های آبیاری، از اولویت بالایی برخوردار می باشد.

۱۰- آیا شیوه های نوین آبیاری برای همه مناطق کشور مناسب است؟

روش های نوین آبیاری، نظیر آبیاری های تحت فشار، برای همه مناطق کشور مناسب نیست. برخی مواقع، روش های سنتی آبیاری در صورتی که به صورت علمی اجرا شوند، می توانند بهتر باشند.

۱۱- معیارهای اصلی انتخاب شیوه های آبیاری چیست؟ توضیح دهید.

براساس شرایط آب و هوایی، نوع کشت

۱۲- دو مورد اصلی در بهینه سازی مصرف آب در بخش کشاورزی را بنویسید.

- ۱- رعایت الگوی کشت، متناسب با وضعیت آب و هوایی و ظرفیت آبی هر منطقه
- ۲- بهره گیری از فناوری هایی که به افزایش بهره وری آب در مزرعه یا باغ می انجامد.

۱۳- میزان متوسط مصرف آب هر فرد در یک شبانه روز چقدر است؟

۲۰۰ لیتر

۱۴- میزان مصرف آب در بخش آشامیدنی و شهری و روستایی چقدر است؟

به صورت میانگین در حدود ۶٪ مصارف آب در کل کشور، مربوط به بخش آشامیدنی و شهری است.

۱۵- ویژگی مهم آب آشامیدنی را بنویسید.

آب قابل استفاده برای مصارف آشامیدنی نیاز به سطح بالایی از نظر کیفیت دارد، و به همین دلیل آبی که به راحتی از طریق شبکه لوله های آب در اختیار ما قرار می گیرد؛ در مسیری طولانی، تأمین و تصفیه می شود.

۱۶- چرا دسترسی به آب در مکان یابی صنایع فولاد یک ضرورت مهم می باشد؟

برای دانلود رایگان جزوات بیشتر از کانال تلگرام ما اینجا کلیک کنید



@IranDaneshNovin



DOWNLOAD

برخی از صنایع نظیر صنایع فولاد عموماً به آب زیادی نیاز دارند و به همین دلیل است که در تعیین مکان مربوط به احداث این دست صنایع، توجه به دسترسی مناسب به منابع آبی، یک ضرورت مهم به شمار می رود.

۱۷- عوامل مهم در مکان یابی صنایع سنگین را نام ببرید.

توجه به محدودیت آب در ایران و توجه به شرایط محیط زیستی

۱۸- به منظور پیشگیری از عواقب کمبود آب چه اقداماتی توسط دیگر کشورها انجام شده است؟

۱- در کارواش ها و استخرها از دستگاههای تصفیه آب استفاده شد تا از همان آب مصرفی دوباره استفاده شود.

۲- در دستشویی ها و حمام ها از شیرآلاتی استفاده کردند که حجم کمتری از آب را از خود تخلیه نمایند.

۳- محاسبه هزینه آب آپارتمان ها بر اساس تعداد نفر شد، خانه هایی که اتومبیل می شویند یا چمن زیاد آب می دهند جریمه های سنگین شدند.

۴- در اماکن عمومی از چشم های الکترونیک برای شیر دستشویی ها استفاده شد.

۵- شرکت های تحقیقاتی روی شیوه جدید آبیاری کشاورزی کار کردند و میزان آب مصرفی کشاورزی ۴۱ درصد کمتر شد، به طوری که در این کشورها خطر کم آبی نسبت به دیگر کشورهای مشابه آنها ۷ سال عقب تر می افتد.

۱۸- معنای واقعی خشک سالی چیست؟

وقتی یک کشور می گوید با خطر خشکسالی روبه روست، معنی اش این است که تأثیرش روی همه این خوراکی ها و لباس ها و حتی نمایشگر رایانه و کتاب و یک لیوان شیر روی میز شماست؛ اگر آب تمام شود، این محصولات هم کم کم دیگر تولید نمی شوند. کم آبی یک بحران است، به آن توجه کنید.

۱۹- آب مجازی را تعریف کنید.

مقدار آبی که در تولید یک کالا یا محصول استفاده می شود.

۲۰- اهمیت آب مجازی را بنویسید.

با آب مجازی مقدار مصرف واقعی یک کشور را به دست آورده می شود.

۲۱- مهم ترین منابع تامین آب در کشور را بنویسید.

آب رودها، چشمه ها، و دریاچه ها، گاهی مستقیماً با لوله یا کانال به محل مصرف انتقال می یابد و میزان آب مورد نیاز را در فصل های مختلف در اختیار استفاده کنندگان قرار می دهد.

۲۲- علت ذخیره سازی آب رودها از طریق سد را بنویسید.

به دلیل تغییرات میزان آب و فصلی بودن رودها و چشمه ها در فصل های مختلف و حتی خشک شدن آنها در تابستان که بیش ترین مصرف کشاورزی نیز در این زمان است، آب آنها ذخیره می شود که این ذخیره سازی از طریق احداث سد انجام می شود.

۲۳- مهم ترین علل سد سازی در کشور را بیان کنید.

سدسازی یک اقدام ملی ضروری است که به منظور مدیریت منابع آب، کنترل سیلاب ها، توزیع مناسب آب در سطح کشور، ذخیره سازی منابع برای دوره های مصرف دراز مدت و ایجاد ذخیره انرژی پاک انجام می شود. مجموعه سدهای ساخته شده در چند دهه اخیر، نقش به سزایی در پیشرفت کشور در زمینه های فوق داشته است.

۲۴- پیامدهای نامطلوب سد سازی در کشور را بنویسید.

سد سازی نیز باید با مراقبت های محیط زیستی جدی همراه باشد. به عنوان مثال کم توجهی به مسائلی نظیر پایین دست رود، تشدید تبخیر از سطوح آبی سدها، مکان یابی نادرست سد، می تواند برای منابع طبیعی پیامدهای نامطلوبی را به دنبال داشته باشد.

۲۵- چند درصد از آب مورد نیاز کشور از طریق آب های زیرزمینی تامین می شود؟

آبهای زیرزمینی حدود ۵۵ درصد آب مورد نیاز ما را در مصارف خانگی، کشاورزی و صنعتی تأمین می کنند.

۲۶- نحوه تشکیل و انتقال آب های زیرزمینی به محل مصرف را توضیح دهید.

آب های زیرزمینی با نفوذ آبهای سطحی به درون آبخوان ها (سفره های آب زیرزمینی) تشکیل می شوند و از طریق چاه، چشمه یا قنات به محل مصرف انتقال می یابند.

۲۷- پیامدهای برداشت بی رویه از آب های زیرزمینی را بنویسید.

برداشت بی رویه از آب های زیرزمینی باعث می شود سطح آبهای زیرزمینی در منطقه روز به روز افت کند. و سرانجام به جایی خواهد رسید که آبی برای استخراج وجود نخواهد داشت.

۲۸- پیامدهای پایین آمدن (افت) سطح آب های زیرزمینی چیست؟

خشک شدن سفره آب زیرزمینی و از بین رفتن چاه ها، قنات ها، چشمه ها و فرونشست زمین .

۲۹- فرونشست زمین چگونه اتفاق می افتد؟

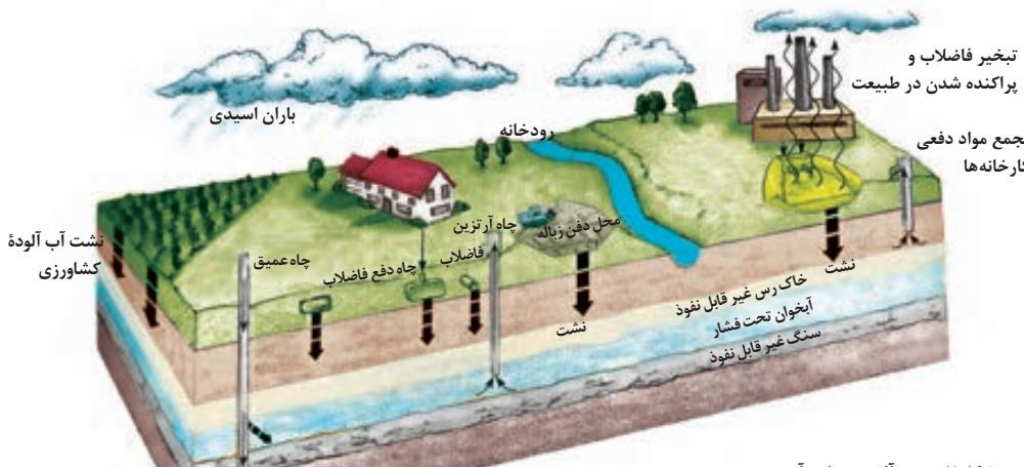
در این پدیده، پس از خروج آب از فضای خالی میان دانه های خاک در اعماق زمین، به دلیل وزن ستون خاک بالای آن، به تدریج، نشست زمین اتفاق می افتد.

۳۰- پیامدهای وقوع فرونشست زمین را بنویسید.

فرونشست می تواند منجر به درزها و شکاف هایی گاهی طولانی روی سطح زمین شود و منجر به خرابی و خسارت سازه هایی که بر روی آن بنا شده است، گردد.

۳۱- آلودگی آب را تعریف کنید.

هرگونه تغییری که موجب تغییر شرایط فیزیکی، شیمیایی و زیستی آب شود به طوری که از حد استاندارد آن خارج شود را آلودگی آب گویند.



۳۲- مواد تشکیل دهنده فاضلاب را بنویسید.

فاضلاب از ۹۹/۹۹ درصد آب و ۰/۰۱ درصد مواد جامد تشکیل شده است که بخشی از آن مواد آلی و بخشی دیگر مواد معدنی به حالت محلول یا معلق در آب می باشد.

۳۳- انواع آب در خانه را نام ببرید.

آب سفید - آب خاکستری و آب سیاه



برای دانلود رایگان جزوات بیشتر از کانال تلگرام ما اینجا کلیک کنید



@IranDaneshNovin



DOWNLOAD

۳۴- تعریف بازچرخانی یا بازیافت آب را بنویسید.

بازچرخانی (بازیافت) آب یعنی استفاده مجدد از فاضلاب. آب آلوده تصفیه می شود و برای اهداف سودمند مانند آبیاری کشاورزی یا فضای سبز و ... از آن استفاده می شود.

۳۵- اهمیت بازچرخانی یا بازیافت آب و تعریف فاضلاب را بنویسید.

با توجه به ارزش بالای آب و محدودیت منابع آبی در دسترس، یکی از راهکارهای اصلی در بهره برداری هر چه بیشتر و مناسب تر از آب های موجود، بازچرخانی و استفاده مجدد از آب است. به طور نمونه بعد از آن که آب در بخش های مختلف از جمله شبکه آب آشامیدنی، شهری و همین طور در فعالیت های صنعتی مورد استفاده قرار گرفت، به میزان زیادی آلوده می شود که به آن فاضلاب گفته می شود.



۳۶- آب خاکستری چیست. چرا به آن آب خاکستری می گویند؟

فاضلاب ناشی از استحمام و یا شست و شوی ظروف یا میوه، آلودگی بسیار کم تری از فاضلاب سرویس های بهداشتی دارد و به همین دلیل به آن آب خاکستری گفته می شود.

۳۷- اهمیت آب خاکستری در دنیای امروز چگونه است؟

در بسیاری از کشورهای توسعه یافته، از آب خاکستری در مصارفی نظیر آبیاری فضای سبز و ... استفاده می شود. بدین ترتیب، فاضلاب که تا قبل از فرایند تصفیه، آبی آلوده است و عمدتاً به عنوان

تهدیدی برای سلامتی و بهداشت شناخته می شود، در دنیای امروز به عنوان منبع جدید آب قلمداد می شود و تلاش می شود تا با بازچرخانی و استفاده مجدد از آن پس از تصفیه، از بحران و کمبود منابع آب کاسته شود.

۳۸- حریم آب را تعریف کنید.

قسمتی از زمین های اطراف رودخانه ها، تالاب ها و برکه ها را حریم آنها می گویند. طبیعی است که رعایت این فاصله برای حفاظت از آنها لازم است و طبق مقررات، حدود آن توسط وزارت نیرو یا شرکت های آب منطقه ای تعیین می شود.

۳۹- عوامل آلودگی آب های زیرزمینی در روستاها و شهرها را بنویسید.

در بعضی از شهرها و بیش تر روستاهای کشور، فاضلاب های خانگی از طریق چاه های جذبی دفع می شوند که این نوع تخلیه فاضلاب، آلودگی منابع آب زیرزمینی را به دنبال دارد. همچنین شیرابه های ناشی از فضولات دامی که دارای مقدار زیادی ازت و موجودات ریز زنده است، منابع آب را آلوده می کنند. به طور معمول این منابع آلاینده نیز بیماری زا هستند.

۴۰- چرا برای منابع آبی باید حریم قایل شویم؟

برای جلوگیری از بروز آلودگی و تخریب سازه ها لازم است برای منابع آبی، فاصله یا حریم قائل شد. برای رودخانه های فصلی و هم چنین رودهای دائمی که در تمام طول سال آب در آنها جریان دارد، در مواقع بارش شدید ممکن است دچار سیلاب شوند و حجم و ارتفاع آب در آنها تا چند برابر افزایش یابد. به همین دلیل حریم بستر رودخانه ها باید همیشه رعایت شود و از هر گونه ساخت و ساز یا بهره برداری غیراصولی در محدوده رودخانه ها خودداری شود.

درس دوم

۱- دو بخش اصلی خاک را نام ببرید.

از دو بخش مواد معدنی و آلی تشکیل می شود.

۲- اهمیت خاک را بنویسید.

خاک در تأمین آینده پایدار و امنیت غذایی نقش دارد.

۳- مدت زمان لازم برای تشکیل هر سانتی متر خاک چقدر است؟

تشکیل هر سانتیمتر خاک در شرایط مختلف آب و هوایی از ۱۰۰ تا ۱۰۰۰۰ سال طول می کشد.

۴- مهم ترین ترکیبات تشکیل دهنده خاک را بنویسید.

۵۰ درصد از کل حجم خاک از منافذی که ۲۵ درصد آن را هوا و ۲۵ درصد آن را آب پر کرده است، تشکیل شده است. وجود آب و هوا برای گیاهان و سایر موجوداتی که در خاک زندگی میکنند، بسیار مهم است.

۵- اهمیت وجود ترکیب آب و هوا در خاک را بنویسید.

ترکیب این ذرات خاک موجب سهولت نفوذ ریشه گیاهان در خاک، تهویه و نگهداری عناصر غذایی گیاهان در خاک می شود.

۶- کانی های تشکیل دهنده بخش معدنی خاک را نام ببرید.

بخش معدنی خاک از انواع کانی ها تشکیل شده است که در ساختار این کانیها انواع عناصر مانند سدیم، کلسیم، پتاسیم و... به کار رفته است.

۷- علل شور شدن و قلیایی شدن خاک را بنویسید.

افزایش غلظت موادی مانند سدیم و پتاسیم موجب شور شدن، قلیایی شدن یا شور - قلیایی شدن خاک می شود.

۸- روش کشاورزان برای مقابله با قلیایی شدن خاک را بنویسید.

کشاورزان باید گیاهان مناسب با این نوع خاک ها را انتخاب کنند.

برای دانلود رایگان جزوات بیشتر از کانال تلگرام ما اینجا کلیک کنید



@IranDaneshNovin



DOWNLOAD

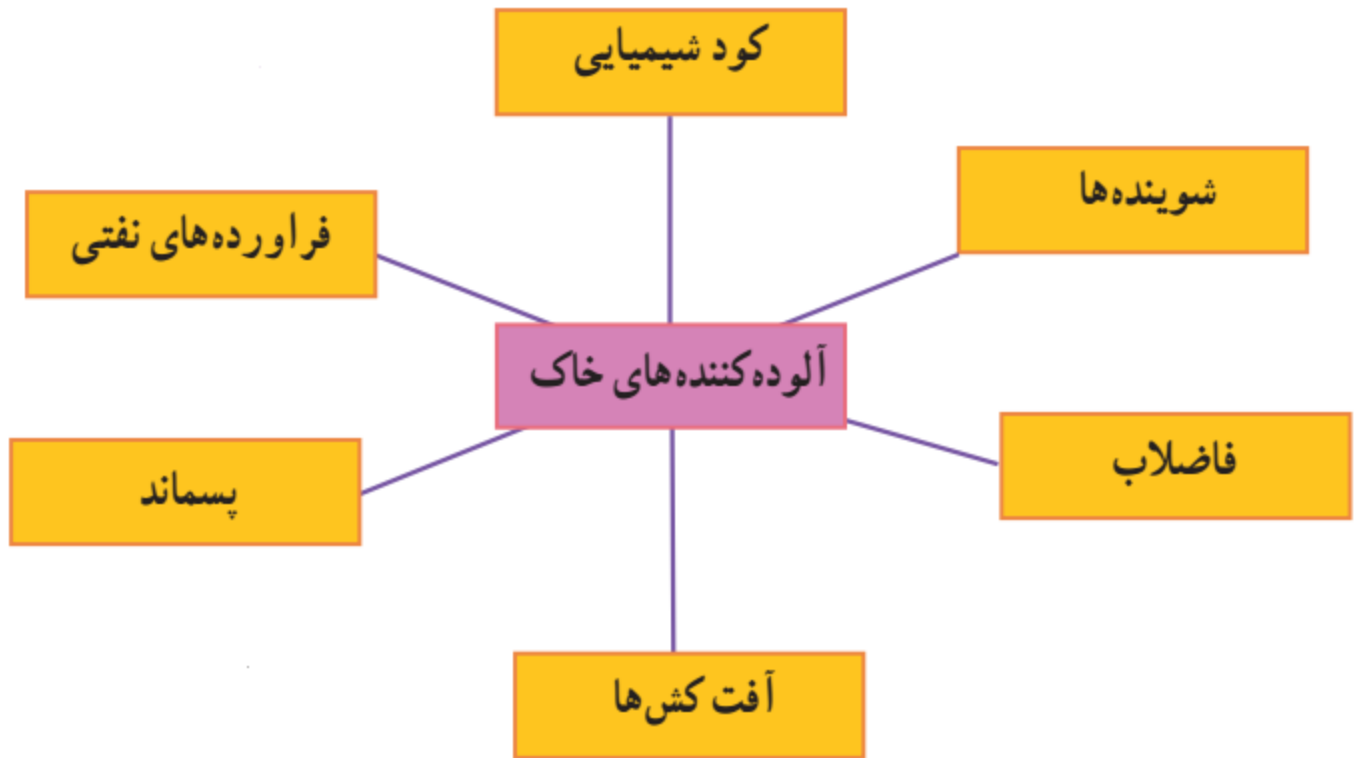
۹- اهمیت مواد آلی خاک را بنویسید.

مواد آلی خاک یکی از مقادیر کیفی در سلامت خاک اند و در حاصلخیزی خاک های کشاورزی بسیار اهمیت دارند.

۱۰- عوامل از دست رفتن خاک خوب را نام ببرید.

فرسایش، آلودگی، غرقابی شدن، بیابان زایی، شورشیدن، تغییر کاربری زمین ها (تبدیل مزرعه ها، مرتع ها، باغ ها و جنگل ها به مناطق مسکونی و صنعتی) چرای بی رویه، گرد و غبار، آتش سوزی و فعالیت های صنعتی توان تولید خاک را تحت تأثیر قرار می دهند.

۱۱- آلوده کننده های خاک را نام ببرید.



۱۲- آلاینده های خاک چگونه روی سلامتی انسان تاثیر می گذارند؟

آلاینده ها به صورت غیر مستقیم و از طریق گیاهان یا به صورت مستقیم از طریق استنشاق یا جذب پوستی روی سلامت انسان و جانوران تأثیر می گذارند. این آلاینده ها پس از ورود به بدن موجودات زنده، فعالیت دستگاه های مختلف بدن را تحت تأثیر قرار می دهند. مانند کادمیوم

۱۳- روش های ورود کادمیوم به خاک و تأثیرات آن بر سلامت انسان را توضیح دهید.

کادمیوم از طریق فاضلاب صنایع رنگ سازی، پلاستیک سازی، باتری سازی، عکاسی، کارخانه های ذوب فلزات، کودهای فسفردار و سوخت های فسیلی وارد خاک می شود. این عنصر به آسانی به وسیله گیاه قابل جذب است و باعث بالا رفتن فشار خون و نارسایی کلیه ها در انسان می شود.

۱۴- روش های ورود نیکل به خاک و تأثیرات آن بر سلامت انسان را توضیح دهید.

نیکل از عناصری است که در صنایع فولاد و فلزات، رنگ سازی، لوازم آرایشی و ادوات برقی از آن استفاده می شود. با توجه به اینکه نیکل می تواند به راحتی توسط گیاه جذب شود و سمیت شدیدی ایجاد کند، سبب زرد شدن گیاهان (کلروز) می شود. برخی از آثار آلودگی نیکل، مشکلات دستگاه تنفسی، اختلال در سیستم ایمنی و انواع سرطان ها در انسان است.

۱۵- روش های پیش گیری از آلودگی خاک را بنویسید.

برای پیش گیری از آلودگی خاک، باید از ورود انواع آلاینده ها مانند فاضلاب، پسماند و آلاینده های گازی به خاک جلوگیری کرد.

۱۶- راه های شناسایی و مقابله با آلودگی خاک را توضیح دهید.

برای شناسایی آلودگی خاک از استانداردهای کیفیت خاک استفاده می شود. مقادیر استاندارد خاک، استانداردهای عمومی کیفیت هستند که در کشورهای مختلف برای قانونمند کردن مدیریت خاک های آلوده از آنها استفاده می شود. زمانی که غلظت آلاینده ها در خاک بیش تر از مقدار استاندارد باشد، خاک آلوده محسوب می شود و آثار سوء بر سلامتی انسان و یا سایر موجودات زنده می گذارد. در صورتی که میزان آلاینده ها بیش از مقدار استاندارد باشد، ابتدا باید منبع آلاینده حذف و سپس اقدام به برطرف کردن آلودگی خاک کرد.

برای دانلود رایگان جزوات بیشتر از کانال تلگرام ما اینجا کلیک کنید



@IranDaneshNovin



DOWNLOAD

۱۷- کم هزینه ترین و کم خطرترین روش برای رفع آلودگی خاک چیست؟ توضیح دهید.

کم هزینه ترین و کم خطرترین این روش ها حذف زیستی آلودگی است که معمولاً به وسیله برخی از موجودات زنده صورت می گیرد و آن را زیست پالایی می گویند.

۱۸- گیاه پالایی را تعریف کنید.

رفع آلودگی خاک توسط گیاهان

۱۹- زیست پالایی را تعریف کنید.

حذف زیستی آلودگی توسط برخی موجودات زنده

۲۰- امنیت غذایی را تعریف کنید.

امنیت غذایی به معنای دسترسی همه افراد به غذای کافی و مناسب است.

۲۱- ایمنی غذایی را تعریف کنید.

ایمنی غذایی نیز به مفهوم حفظ و نگهداری غذا از هرآلودگی است، این دو تعریف شامل مزرعه تا سفره می شود.

۲۲- تراژن چیست؟

در دو دهه اخیر، مهندسی ژنتیک با استفاده از علم زیست فناوری موفق به تولید محصولات تغییر یافته ژنتیکی یا تراژن در جهان شده است. در این روش ژنهای جدیدی به یک موجود زنده منتقل می شود تا صفات موردنظر به دست آید.

۲۳- مهم ترین محصولات تراژن را نام ببرید.

مواد غذایی تراژن از دهه ۹۰ میلادی وارد بازار مصرف شده است. شایع ترین محصولات تراژن سویا، ذرت، پنبه و کلزا هستند.

۲۴- مزیت های تراژن را بنویسید.

افزایش تولید محصولات زراعی، عدم نیاز به آفت کش و علف کش، جلوگیری از آلودگی خاک به دلیل کاهش مصرف سموم دفع آفات نباتی، افزایش تنوع ژنتیک در گیاهان زراعی و باغی برخوردارند.

۲۵- علل استفاده از کود توسط کشاورزان را بنویسید.

گیاهان، مواد غذایی مورد نیاز خود را از خاک به دست می آورند و بدین ترتیب مواد غذایی خاک کاهش می یابد. کشاورزان و باغداران برای جبران این کاهش، یکی از انواع کودهای زیستی یا شیمیایی را به کار می برند.

۲۶- انواع کود را نام ببرید.

کودهای زیستی، همان طور که از نام شان پیداست، در نتیجه تجزیه جانداران و بقایای آنها و یا حاصل از فعالیت موجودات زنده به دست می آیند. کودهای شیمیایی ترکیباتی اند که با استفاده از مواد شیمیایی در کارخانه تولید می شوند.

۲۷- پیامدهای منفی استفاده زیاد از کودهای شیمیایی را بنویسید.

استفاده از کودهای شیمیایی و آفت کش ها آلودگی آب، خاک و هوا را به دنبال دارد. هم چنین کودهای شیمیایی علاوه بر آسیب رساندن به محیط زیست، موجب کاهش حاصل خیزی خاک و عدم ایمنی غذایی می گردند. آلودگی ناشی از کودها بر سلامت انسان نیز اثر می گذارد.

۲۸- کمپوست چیست؟

کمپوست یکی از انواع کودهای زیستی است که از تجزیه پسماند مواد غذایی، باقی مانده گیاهان پس از برداشت محصول، فضولات و زواید غیرقابل مصرف دامی به دست می آید.

۲۹- ورمی کمپوست چیست؟

«ورمی کمپوست» نیز یک کود زیستی است که از فضولات کرم خاکی حاصل می شود.

۳۰- علل استفاده از کودهای زیستی چیست؟ توضیح دهید.

به دلیل آشکار شدن آثار سوء مصرف بی رویه کودهای شیمیایی و قیمت بالای آنها، استفاده از کودهای زیستی در کشاورزی مطرح شده است. در کشاورزی ارگانیک با استفاده از کودهای زیستی سلامت خاک، گیاه، انسان و سیاره زمین تأمین می شود.

۳۱- کشاورزی ارگانیک چیست؟ شرح دهید.

در این نوع کشاورزی از مواد شیمیایی و سموم دفع آفات در شرایط خاص و به مقدار محدود به کار می رود.

۳۲- علل استفاده از کشت گلخانه ای را بیان کنید.

تأمین غذا به دلیل بارندگی کم و نامنظم و وضعیت بحرانی منابع آب و خاک مشکل مهمی است که یکی از راه حل های آن کشت گلخانه ای است. نابودی آفات و بیماری ها با روش های زیستی و کاهش مصرف سموم در گلخانه ها، باعث افزایش کیفیت محصول، حفظ محیط زیست و همچنین افزایش صادرات می شود.

درس سوم

۱- اهمیت هوا با آب و غذا را باهم مقایسه کنید.

بدون تردید نیاز به هوا برای ادامه زندگی، بیش از سایر چیزهای دیگر است. آدمی می تواند بدون غذا تقریباً ۵ هفته و بدون آب حدود ۵ روز زنده بماند؛ در حالی که بدون هوا بیش از چند دقیقه نمی تواند زنده بماند. هر فرد به طور متوسط و طبیعی در هر ثانیه یک بار نفس می کشد. اهمیت هوا فقط به دلیل تنفس کردن موجودات زنده نیست، بلکه وجود هواکره در حفاظت از آنها در برابر اشعه های خطرناک خورشید نیز نقش مهم و اساسی ایفا می نماید.

۲- چرا امروزه یکی از دغدغه های اصلی مردم هوای پاک و سالم می باشد؟

در گذشته، دغدغه های مردم فقط تأمین نان و آب بود، اما امروزه با رشد فزاینده فعالیت های صنعتی و افزایش مصرف انرژی، تعداد وسایل نقلیه موتوری و رشد شهرنشینی و توسعه

عمودی شهرها، داشتن هوای پاک و سالم نیز، به این دغدغه ها افزوده شده است. پدیده آلودگی هوا در مناطق شهری، یکی از پیامدهای صنعتی شدن زندگی انسان است که از حدود سیصد سال قبل شروع و روز به روز بر میزان و شدت آن افزوده می شود.

۳- علل آلودگی هوا در کلانشهرهای کشور چیست؟ شرح دهید.

به دلایل گوناگون، نظیر تعداد خودروهای سبک و سنگین، وجود صنایع آلاینده، انواع فرایندهای احتراقی، تولید برق یا صنایع شیمیایی در معرض انواع آلاینده های هوا قرار دارند.

۴- مفهوم متفاوت آلودگی هوا برای افراد جامعه، خلبان، کشاورز و صاحبان صنعت را بنویسید.

آلودگی هوا برای افراد مختلف، مفهوم و معنای متفاوتی دارد. به طوری که افراد جامعه، کاهش دید، تحریک چشم، اختلال در سیستم تنفسی و گردوغباری که روی وسایل می نشیند را آلودگی محسوب می کنند. برای یک کشاورز، عواملی که به گیاهان، حیوانات و محصولات کشاورزی زیان وارد می کند، آلودگی محسوب می شود. برای یک خلبان کاهش میزان دید، آلودگی هوا محسوب می گردد و برای صاحبان صنعت فقط مسائل مربوط به مهار آلودگی هوا مد نظر است.

۵- مفهوم آلودگی هوا از نظر محیط زیست بنویسید.

از نظر محیط زیست وجود هرگونه ترکیب اضافی در هوا، که سلامت و بهداشت جانداران را به خطر اندازد، آلودگی هوا تلقی می شود. آلاینده های هوا ممکن است به صورت گاز، مایع و یا جامد باشند.

۶- پیامدهای منفی آلودگی هوا را بنویسید.

آلودگی هوا هم چنین به اجسام، ساختمان ها و اموال مردم آسیب می رساند و رفاه و آسایش عمومی و تعادل طبیعی محیط زیست را مختل می سازد.

۷- علل تفاوت آلودگی هر منطقه با منطقه دیگر چیست؟

برای دانلود رایگان جزوات بیشتر از کانال تلگرام ما اینجا کلیک کنید



@IranDaneshNovin



DOWNLOAD

آلودگی هوای هر منطقه با منطقه دیگر متفاوت است و به عواملی مانند: نوع آب و هوا، وجود رشته کوه ها، فعالیت های صنعتی، کشاورزی و ... آن منطقه بستگی دارد.

۸- چرا آلودگی هوا بحرانی تدریجی است؟

در برخی موارد تأثیر آلودگی هوا بر انسان و محیط زیست تدریجی و کند است که در این صورت کم تر مورد توجه قرار می گیرد و اکثر مردم آن را جدی تلقی نمی کنند و زمانی که به وضعیت حاد و اضطراری می رسد، مورد توجه آن ها قرار می گیرد. بنابراین می توان گفت آلودگی هوا، بحرانی تدریجی است و در دراز مدت نتایج آن مشخص می شود.

۹- اهمیت شاخص کیفیت هوای بنویسید.

شاخص کیفیت هوا ابزاری کلیدی جهت آگاهی از کیفیت هوا، نحوه اثر آلودگی هوا بر سلامت و روش های محافظتی در برابر آن است.

۱۰- شاخص مهم برای گزارش روزانه کیفیت هوای بنویسید.

این شاخص برای پنج آلاینده اصلی هوا یعنی: ذرات معلق، نیتروژن دی اکسید، اوزون سطح زمین، کربن منوکسید و گوگرد دی اکسید محاسبه می شود.

شاخص کیفیت هوا از منظر سلامت انسان، به چند طبقه تقسیم می شود؟ نام ببرید.

۶ طبقه تقسیم می شود که عبارتست از:

برای دانلود رایگان جزوات بیشتر از کانال تلگرام ما اینجا کلیک کنید



@IranDaneshNovin



DOWNLOAD

کیفیت هوا	رنگ و وضعیت	میزان شاخص کیفیت هوا	طبقه کیفیت هوا
رضایت بخش و دارای خطر سلامتی ناچیز یا فاقد خطر سلامتی	سبز	۰-۵۰	پاک
قابل قبول و برای تعداد اندکی از افراد با ملاحظات بهداشتی خاص	زرد	۵۱-۱۰۰	سالم
بعضی از افراد گروه‌های حساس، آثار غیر بهداشتی خاصی را تجربه می‌کنند، اما عموم مردم تحت تأثیر قرار نمی‌گیرند.	نارنجی	۱۰۱-۱۵۰	ناسالم برای گروه‌های حساس
هر فردی ممکن است آثار غیر بهداشتی را تجربه کند. اعضای گروه‌های حساس بیش از سایرین، اثرات را بر سلامت خود تجربه می‌کنند.	قرمز	۱۵۱-۲۰۰	ناسالم
هشدار برای سلامتی به حساب می‌آید و هر کسی ممکن است آثار جدی عدم سلامت را تجربه کند.	بنفش	۲۰۱-۳۰۰	بسیار ناسالم
شرایط اضطراری و اخطار جدی برای سلامت انسان‌هاست. تمام افراد جامعه تحت تأثیر آثار غیر بهداشتی جدی قرار می‌گیرند.	خرمایی	۳۰۱ به بالا	خطرناک

۱۱- پیامدهای منی طوفان های گرو غبار چیست؟

این پدیده در ابعاد منطقه ای، ملی و محلی خسارات متعددی به محیط زیست، بهداشت و سلامت جامعه، منابع زیربنایی و تأسیسات صنعتی وارد می نماید.

۱۲- پیامدهای آلودگی هوارا بنویسید.

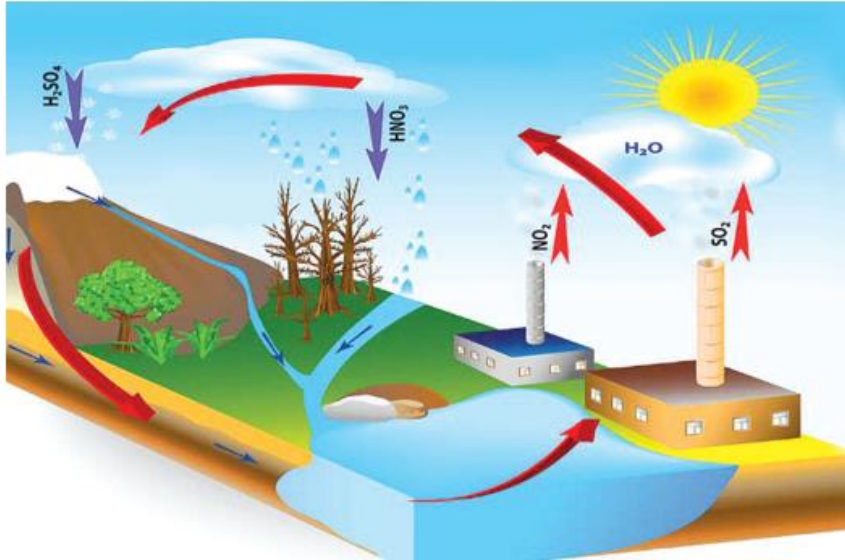
تأثیرات بسیار مخربی بر زندگی گونه های مختلف زیستی برجای گذاشته است و به نوعی زندگی آنان را مورد تهدید قرار داده است. از این رو همواره مورد توجه دانشمندان بوده است. آلودگی هوا به اشکال مختلف زندگی انسان و سایر جانداران را تحت تأثیر قرار می دهد. مهم ترین شکل آن تهدید سلامت انسان و بروز بیماریهای تنفسی، قلبی و ... است. ریزش بارش های اسیدی، تغییرات آب و هوایی و گرمایش جهانی از دیگر پیامدهای آلودگی هواست.

۱۳- بارش اسیدی چیست؟

بارش اسیدی به هرگونه بارش، مانند باران، برف، تگرگ یا حتی مه که در آن مواد مضر مانند اکسیدهای نیتروژن و گوگرد وجود داشته باشند، اطلاق می شود.

۱۴- نحوه پیدایش بارش های اسیدی را بنویسید.

این دو ماده در هواکره با اکسیژن و بخار آب واکنش شیمیایی داده و به صورت نیتریک اسید و سولفوریک اسید در می آیند. عامل اصلی این آلاینده ها، مصرف سوخت های فسیلی در صنایع، حمل و نقل و کارخانه های مختلف است که سبب افزایش شدید میزان اسیدیته بارش می شوند.



۱۵- پیامدهای بارش های اسیدی را بنویسید.

باران اسیدی باعث آسیب رساندن به انسان ها و سایر جانداران و نمای ساختمان ها و بناهای تاریخی، رنگ خودروها و کاهش حاصل خیزی خاک های کشاورزی می شود.

۱۶- وضعیت هوای شهر مکزیکوسیتی در سال ۱۹۹۰ را با زمان امروزی مقایسه کنید.

مکزیکوسیتی به عنوان یکی از موفقترین شهرهای دنیا در مقابله با آلودگی هوا شناخته می شود. سال ۱۹۹۲ سازمان ملل این شهر را به عنوان آلوده ترین شهر جهان معرفی کرد. در سال ۱۹۹۰، در حدود ۳۳۰ روز شاخص آلاینده ها در این شهر بالاتر از حد استاندارد بود. آن زمان مشهور بود که در مکزیکوسیتی به خاطر آلودگی هوا، پرنده ها هنگام پرواز می میرند و روی زمین می افتند. اما امروز با اجرای برنامه های منسجم مقابله با آلودگی هوا، دیگر نام مکزیکوسیتی حتی در میان ۱۰ شهر اول آلوده جهان به چشم نمی خورد.

۱۷- مهم ترین راهکارهای منسجم و سریع در مهار آلودگی هوا در شهر مکزیکو سیتی را بنویسید.

کیفیت نامطلوب سوخت و خودروهای فرسوده یکی از مهم ترین دلایل آلودگی هوای مکزیکوسیتی بود. دولت مکزیک با سرمایه ۳/۹ میلیارد دلار پالایشگاه هایی برای تولید سوخت مناسب (با میزان گوگرد پایین) راه اندازی کرد. اصلاح کیفیت بنزین را میتوان مهم ترین سیاست دولت مکزیک در مهار آلودگی هوای مکزیکوسیتی دانست (شکل ۸) راهکارهای منسجم و سریع در کاهش آلودگی هوا عبارت اند از: کاهش استفاده از خودروهای شخصی، بهبود کیفیت خودروها، گسترش سیستم نقلیه عمومی و اصلاح کیفیت بنزین است.

۱۸- کشور چین با چه اقداماتی با آلودگی هوا مقابله کرده است؟ نام ببرید.

کشور چین در حال حاضر بزرگ ترین تولیدکننده پانل خورشیدی، موتورسیکلت برقی، دوچرخه برقی و یکی از موفق ترین کشورها در زمینه استفاده از سیستم حمل و نقل الکتریکی است و توانسته بسیاری از معضلات محیط زیستی و کمبود انرژی های فسیلی خود را با استفاده از انرژی های نو و پاک جبران کند.

۱۹- انواع آلودگی هوا را نام ببرید.

افزون بر انواع مختلف آلاینده های موجود در هوا، که باعث تغییر ترکیب هوا می شوند، آلودگی های دیگری مانند: آلودگی صوتی، الکترومغناطیسی، نوری و حرارتی نیز وجود دارند که باعث تغییرات و آلودگی های فیزیکی هوا می گردند.

۲۰- آلودگی صوتی چیست؟

منظور از آلودگی صوتی، امواج ناخواسته ای است که بر فعالیت موجودات زنده به ویژه انسان تأثیر می گذارند و می توانند با تأثیرگذاری بر سامانه اعصاب و شنوایی انسان باعث عوارض متعدد جسمی و روحی شوند. انتشار صدا در محیط باز و بسته با هم متفاوت است.

۲۱- وضعیت امواج صوتی در محیط باز و بسته را توضیح دهید.

در یک محیط باز امواج صوتی بدون برخورد به مانع منتشر می شوند و در نهایت از بین می روند؛ اما در محیط بسته ، امواج صوتی پس از برخورد به دیوارها و موانع موجود در مسیر، منعکس و تشدید می شوند.

۲۲- علل افزایش آلودگی الکترومغناطیسی را بنویسید.

متأسفانه با توسعه فناوری های مختلف در زندگی، مقدار این آلودگی ها افزایش یافته است. مانند افزایش استفاده از وسایل منزل (سشوار، ماشین لباس شویی، مایکروویو) و خطوط انتقال برق فشار قوی، تلفن همراه ، امواج رادیویی و...

۲۳- راه های کاهش تأثیرات امواج الکترومغناطیسی را بنویسید.

۱- عدم استفاده طولانی مدت از تلفن همراه

۲- خاموش کردن تلفن همراه در شب و هنگام خوابیدن

۳- رعایت فاصله بین وسایل برقی و محل استراحت

۴- استفاده نکردن بچه های زیر شش سال از وسایل الکترونیکی

۵- رعایت حریم ساخت و ساز با خطوط برق فشار قوی

۲۴- تأثیرات وسایل خانگی دارای سیم پیچی در آلودگی الکترومغناطیسی را بنویسید.

در بین وسایل منزل، آن دسته از وسایلی که سیم پیچی دارند، مانند سشوار، جاروبرقی، ماشین لباسشویی و ... میدان مغناطیسی بسیار قوی تری در اطراف خود ایجاد می کنند که باعث ایجاد آلودگی های الکترومغناطیسی می شوند.

۲۵- تأثیر برخی از فناوری های ساخته بشر بر الکترومغناطیس طبیعی زمین را بنویسید.

پژوهش ها نشان می دهد که برخی از فناوری های ساخته بشر میدان های الکترومغناطیس طبیعی زمین را تغییر می دهند؛ در این شرایط جانورانی که از نیروهای طبیعی برای جهت یابی و تعیین موقعیت استفاده می کنند، گیج می شوند و مسیر خود را گم می کنند.

۲۶- تأثیرات امواج رادیویی و مایکروویو را توضیح دهید.

امواج رادیویی و مایکروویو نیز بر محیط زیست تأثیرگذارند. این امواج افزون بر انسان ها و حیوانات، برگیاها و درختان نیز تأثیراتی دارند.

۲۷- پیامدهای منفی آلودگی نوری را بنویسید.

نورهای مصنوعی در زمان ها یا مکان های نامناسب و با کیفیت نامطلوب، محیط زیست و آسمان شب را آلوده می سازند. نور زیاد در شهرها نیز باعث ایجاد مشکلاتی در رصد آسمان شب می شود. وجود نور زیاد در برخی بزرگراه هادر طول شب، باعث تغییر اکوسیستم برای گیاهان و درختان و حتی جانوران موجود در اطراف آن بزرگراه می شود.

۲۸- عوامل آلودگی هوا در محیط های بسته را بنویسید.

تراکم و نزدیکی بیش از حد ساختمان ها، عدم تهویه مناسب هوا به منظور جلوگیری از اتلاف انرژی، استفاده از مواد مصنوعی و شیمیایی در ساختمان، مبلمان و وسایل شخصی، همین طور استفاده از حشره کش ها، مواد شوینده، تمیزکننده و ضد عفونی کننده دانست.

۲۹- میزان آلودگی محیط های بسته با محیط های باز مقایسه کنید.

همواره محیط های بسته، ۵ تا ۱۰ برابر آلوده تر از محیط های باز مجاور خود هستند و این در حالی است که ۸۰ درصد اوقات و ساعات زندگی انسان ها در محیط های بسته سپری می شود.

۳۰- پیامدهای ناشی از آلودگی هوای محیط بسته را بنویسید.

از مشکلات ناشی از آلودگی هوای محیط بسته میتوان به سرطان ریه، آسم، نازایی، کاهش دید و بیماریهای قلبی - عروقی و مرگ و میر اشاره کرد.

۳۱- مهم ترین آلاینده های هوای محیط های بسته را بنویسید.

عوامل انرژی، ترکیبات ارگانیک بخار شونده، فرمالدئید، اکسیدهای نیتروژن، کربن مونواکسید، رادن، سرب و آفت زدها

درس چهارم

۱- میزان مصرف سالانه انرژی در جهان چه مقدار است؟ شرح دهید.

میزان مصرف سالانه انرژی در جهان تقریباً معادل ۱۰ میلیارد تن نفت خام است. برای درک بهتر این موضوع، کافی است تصور کنید که اگر این مقدار نفت را دربشکه بریزیم و آنها را کنار هم بچینیم طول آن به ده ها هزار کیلومتر می رسد.



۲- وابستگی زندگی امروزی به انرژی الکتریکی را شرح دهید.

انرژی الکتریکی، مهم ترین شکل از انرژی است که زندگی امروزی ما به آن وابسته است. برای مثال، پرواز هواپیماها، انجام فعالیت های بانکی مانند برداشت پول از عابر بانک، فعالیت های گوناگون پزشکی و فعالیت پالایشگاه ها نمونه هایی از این وابستگی است. به طوری که، اگر برای مدت کوتاهی جریان الکتریکی قطع شود، زندگی ما مختل خواهد شد.

۳- برخی کاربردهای سوخت های فسیلی در زندگی را بنویسید.

اغلب از سوخت های فسیلی برای گرم کردن خانه ها، مراکز اداری، علمی و صنعتی، پخت و پز و هم چنین حرکت وسایل نقلیه از سوخت های فسیلی مانند نفت، زغال سنگ و گاز طبیعی استفاده می شود.

۴- عوامل افزایش مصرف سوخت های فسیلی در جهان را بنویسید.

تولید و تأمین انرژی الکتریکی از مهم ترین دغدغه های کشورهای دنیاست. هم چنین دریافتید که در سراسر جهان برای حل این مسئله به طور عمده از سوخت های فسیلی استفاده می کنند. با افزایش جمعیت و رشد و گسترش شهرها، صنایع گوناگون مانند حمل و نقل، نظامی، نساجی، دارو، غذا و فعالیت های کشاورزی سبب شده است تا مصرف سوخت های فسیلی در طول دو سده اخیر به طور فزاینده ای افزایش یابد.

۵- پیامدهای نامطلوب افزایش مصرف سوخت های فسیلی در جهان را بیان کنید.

در نتیجه حجم انبوهی از انواع گازهای آلاینده وارد هوا کره شده و هوای شهرها را آلوده کرد به طوری که آسمان بیش تر شهرها، دیگر آبی نیست و نفس کشیدن در آن نه تنها لذت بخش نبوده بلکه در بیش تر موارد آزاردهنده نیز هست. این هوای آلوده، بوی بدی دارد، چهره شهر را زشت می کند، پوسیدگی خودروها و فرسودگی ساختمان ها را به دنبال دارد و سبب ایجاد انواع بیماری های تنفسی مانند تنگی نفس، آسم و ... می شود.

۶- ارتباط گرمایش جهانی با افزایش مصرف سوخت های فسیلی را توضیح دهید.

استفاده از سوخت های فسیلی افزون بر آثار بالا، آثار بسیار شگرفی روی کره زمین گذاشته است. به طوری که بررسی های دانشمندان علوم نشان می دهد که در طول دو سده اخیر، میانگین دمای کره زمین افزایش یافته و کره زمین گرم تر شده است. این پدیده به گرمایش جهانی شهرت یافته است.

۷- پیامدهای نامطلوب گرمایش جهانی را بنویسید.

گرمایش جهانی سبب شده است تا فصل‌ها زودتر از زمان طبیعی فرا رسد و زمستان کوتاه‌تر شود؛ هم‌چنین آتش‌سوزی خود به خود و طبیعی جنگل‌ها افزایش پیدا کرده و چرخه‌های طبیعی مختل شوند.

۸- ارتباط افزایش گاز کربن دی‌اکسید با افزایش دمای کره زمین (اثر گلخانه‌ای جو) را بنویسید.

پژوهش‌های دانشمندان نشان می‌دهد که در طول سده‌های اخیر مقدار کربن دی‌اکسید هوا کره در حال افزایش است. آنها معتقدند که افزایش میانگین دمای کره زمین ناشی از افزایش گاز کربن دی‌اکسید است.

۹- نقش گازهای گلخانه‌ای جو مانند کربن دی‌اکسید در افزایش دمای کره زمین را توضیح دهید.

نور خورشید با عبور از هوا کره به سطح زمین می‌رسد و آن را گرم می‌کند. زمین گرم شده مانند اتو یا هر جسم داغ دیگری از خود انرژی می‌تاباند. این انرژی که به شکل پرتو تابانده می‌شود انرژی کم‌تری نسبت به پرتوهای خورشیدی جذب شده دارند. این پرتوها هنگام خروج از هوا کره می‌توانند توسط برخی مولکول‌ها مانند کربن دی‌اکسید جذب و سبب گرم شدن کره زمین شوند. از این رو هر چه مقدار این گازها در هوا کره بیش‌تر باشد، دمای کره زمین بالاتر خواهد رفت.

۱۰- اگر مولکول‌های دی‌اکسید کربن و آب در هوا کره نباشد وضع دمای زمین چگونه بود؟

میانگین دمای کره زمین از ۱۴ درجه سلسیوس به ۱۸- درجه سلسیوس خواهد رسید.

۱۱- علت استفاده دانشمندان از اصطلاح رد پای محیط زیستی چیست؟ شرح دهید.

دانشمندان به منظور تعیین میزان آثاری که هر فرد روی محیط زیست می‌گذارد، اصطلاحی به نام رد پای محیط زیستی مانند رد پای آب، کربن دی‌اکسید، غذا و... تعریف کرده‌اند.

۱۲- ردپاهای محیط زیستی چه چیزی را نشان می دهند؟

این ردپاها میزان تأثیر افراد را روی محیط زیست نشان می دهند. برای مثال رد پای کربن دی اکسید نشان می دهد که چه میزان کربن دی اکسید در اثر فعالیت های گوناگون یک فرد وارد هواکره می شود.

۱۳- بزرگ و کوچک بودن ردپای زیستی مانند ردپای کربن به چه معناست؟

هر چه مقدار این رد پا بزرگ تر باشد، زمان بیش تری طول می کشد تا کره زمین کربن دی اکسید اضافی را مصرف کند و آثار آن را جبران نماید.

۱۴- چرا دانشمندان به دنبال کاهش رد پای محیط زیستی هستند؟

نیاز روزافزون به انرژی و ایجاد مشکلات و بحران های محیط زیستی

۱۵- چندراهکار مهم جهت کاهش ردپای زندگی محیط زیستی (ردپای کربن) را بنویسید.



۱۶- مهم ترین اقدامات کشور آلمان در کاهش مصرف سوخت های فسیلی را بنویسید.

آلمان جزو یکی از کشورهای است که بخش قابل توجهی از انرژی مورد نیاز خود را از منابع تجدیدپذیر از جمله انرژی باد فراهم می کند در حال حاضر، برق بادی حدود ۸ درصد از کل مصرف برق در آلمان را تشکیل می دهد و این کشور در صدد است تا تعداد توربین های بادی را در سالیان پیشرو افزایش دهد.

۱۷- تاریخچه استفاده از انرژی بادی را شرح دهید.

جالب است بدانید که قدیمی ترین روش استفاده از انرژی باد، به ایران باستان باز می گردد. برای نخستین بار، ایرانیان موفق شدند با استفاده از نیروی باد، چرخ چاه را به گردش درآورند.

یونانیان برای خرد کردن دانه ها و مصری ها، رومی ها و چینی ها برای قایقرانی و آبیاری از انرژی باد استفاده می کرده اند. در قرن ۱۳ میلادی، این فناوری توسط سربازان در زمان جنگ های صلیبی به اروپا برده شد.

۱۸- اهمیت انرژی خورشیدی را بنویسید.

خورشید بزرگ ترین و مهم ترین منبع انرژی است به طوری که روزانه مقادیر بسیار زیادی از انرژی را به شکل پرتوهای الکترومغناطیس به سوی زمین گسیل می دارد. این انرژی که به انرژی خورشیدی معروف است سبب رشد گیاهان، باز شدن گلها و شکوفه ها، رسیدن میوه ها و ... می شود. به طور معمول مردم از این انرژی برای خشک کردن لباس ها، روشنایی اتاق ها در روز و ... استفاده می کنند.

۱۹- روش تولید انرژی خورشیدی توسط متخصصان را بنویسید.

آنها با استفاده از موادشیمیایی، سلول های خورشیدی کوچکی ساخته اند که نور خورشید را جذب و سپس آن را به جریان برق تبدیل می کند. برای اینکه انرژی الکتریکی بیش تری تولید شود، تعداد زیادی از این صفحات را کنار هم می گذارند و صفحات خورشیدی بزرگ تری را می سازند و در هر جاکه نیاز دارند، از آن استفاده می کنند.

۲۰- ارتباط استفاده از انرژی خورشیدی و رد پای محیط زیستی را بنویسید.

استفاده از انرژی خورشیدی برای تولید انرژی الکتریکی ردپای محیط زیستی ما را کاهش می دهد.

۲۱- مشکل بزرگ ساخت و استفاده از سلول های خورشیدی چیست؟ شرح دهید.

ساخت و استفاده از سلول های خورشیدی به دانش و فناوری بالایی نیاز دارد. این جمله ناخودآگاه ما را به یاد این شعر معروف استاد سخن سعدی می اندازد که: «نابرده رنج، گنج میسر نمی شود».

۲۲- مهم ترین شرایط استفاده از انرژی خورشید در شهرهای کشور چیست؟

بیش تر شهرهای کشور ما در طول سال از هوای صاف و آفتابی برخوردارند.

۲۳- سوخت های سبز را تعریف کنید.

این سوخت ها، مواد شیمیایی اکسیژن داری هستند که از تخمیر پسماندهای گیاهی همانند شاخ و برگ گیاه نیشکر، سویا و همچنین دانه های روغنی به دست می آیند. مانند بیواتانول.

۲۴- بیواتانول چیست؟

بیواتانول نوعی سوخت سبز است که به عنوان سوخت در خودروها استفاده می شود.

۲۵- روش تولید سوخت سبز مانند اتانول در برزیل را بنویسید.

- در این کشور، روش های مختلفی برای تولید الکل (به عنوان سوخت) از تخمیر گیاهان استفاده می شود. این الکل هم به صورت خالص و هم مخلوط با بنزین به کار می رود.

- از تخمیر نیشکر، اتانول به دست می آورند که می تواند جایگزین مناسبی برای بنزین باشد.

۲۶- روش تولید اتانول در آمریکای شمالی را بنویسید.

در آمریکای شمالی، اتانول به طور عمده از بقایای ذرت به دست می آید. طبق گزارش های موجود در سال ۲۰۰۷، در حدود هفت میلیارد گالن اتانول مصرف شده است.

۲۷- اتانول با گازوئیل از نظر هزینه و راندمان مقایسه کنید.

استفاده از اتانول در مقایسه با گازوئیل از هزینه کم تر و راندمان بالاتری برخوردار است.

۲۸- معایب استفاده از سوخت های سبز را بنویسید.

زمین های زیادی به خاطر کاشت گیاهانی که به عنوان سوخت زیستی از آنها استفاده می شود، تغییر کاربری داده اند یا پاکتراشی شده اند؛ به طوری که بخش های زیادی از جنگل های بارانی برزیل، به دلیل کاشت گیاهان سوخت زیستی، پاک تراشی شده و از بین رفته اند.

۲۹- ارتباط ردپای دی اکسید با رفتار و الگوی مصرف و دوستداری محیط زیست چیست؟

هرچه ردپای کربن دی اکسید شما کوچک تر باشد، رفتار و الگوی مصرف شما درست تر است و می توان گفت که شما شهروندی مسئول، متعهد و دوستدار محیط زیست هستید.

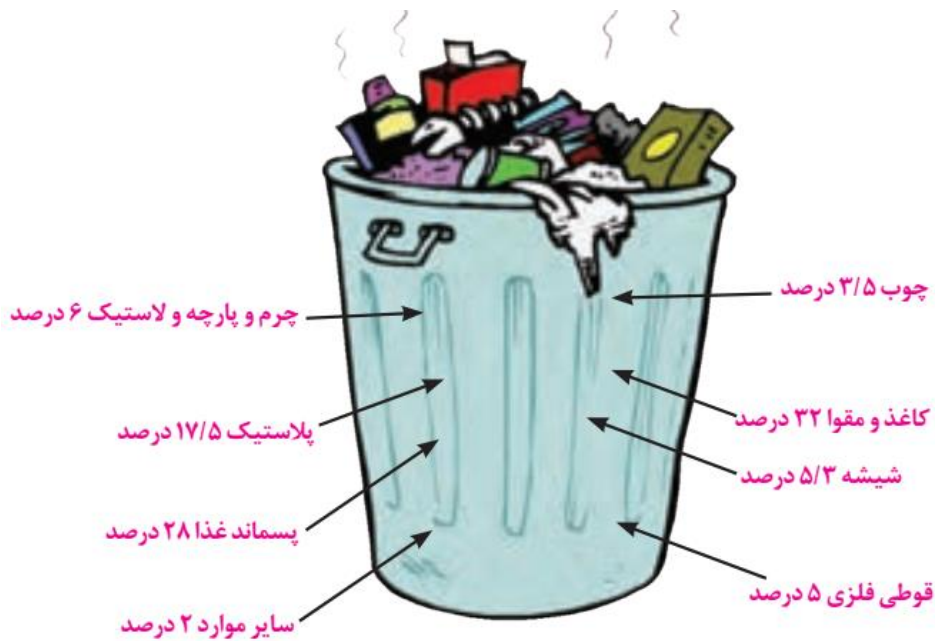
درس ۵

۱- زباله چیست؟

زباله یا پسماند، باقی مانده موادی است که از آنها استفاده کرده ایم و به آنها نیاز نداریم.

۲- انواع زباله را نام ببرید.

زباله های خانگی و شهری، زباله های کشاورزی، صنعتی و ساختمانی، زباله های بیمارستانی، زباله های خطرناک



این ارقام، میانگین یک ظرف پسماند خانگی را نشان می‌دهد و بنا به شرایط، در مکان‌ها و نواحی مختلف، فرق می‌کند.

۳- زباله های خانگی و شهری چیست؟

عمدتاً از پسمانده مواد غذایی و پوست میوه و سبزی، کاغذ، پلاستیک، قطعات فلزی، شیشه، پارچه و چوب تشکیل شده است.

۴- زباله های کشاورزی، صنعتی و ساختمانی چیست؟

شامل ضایعات کشاورزی، فلزات، مواد پلاستیکی و شیمیایی و نخاله های ساختمانی است که در جریان فعالیت های اقتصادی، تولید می شود.

۵- زباله های بیمارستانی چیست؟

مواد حاصل از فعالیت های پزشکی و درمانی نظیر سرنگها، مواد پانسمان و باقی مانده داروها و وسایل جراحی را تشکیل می دهند.

۶- زباله های خطرناک چیست؟

زباله هایی هستند که تأثیرات شیمیایی و خوردندگی، آتش زایی و انفجاری، پرتوزایی و سمی دارند؛ مانند باتری، روغن ترمز، حشره کش، رنگ های روغنی، ضدیخ، لامپ های کم مصرف و

فلورسنت، زباله های الکترونیکی مانند رایانه ها و تجهیزات جانبی آن ها، لوح های فشرده، گوشی های تلفن همراه هوشمند و هم چنین زباله های هسته ای یا اتمی.

زباله های الکترونیکی مقدار زیادی فلزات سمی و خطرناک مانند جیوه، سرب و کادمیوم دارند.

۷- چرا زباله های بیمارستانی جزو زباله های خطرناک محسوب می شوند؟

زباله های بیمارستانی و زباله های خطرناک باید با روش ها و شرایط خاصی دفع شوند و رهاکردن یا دفن آنها در محیط، صحیح نیست و عواقب زیان باری در پی دارد.

۸- انواع پسماند خانگی را نام ببرید.

زباله های خانگی و شهری را می توان به پسماند خشک و پسماند تر تقسیم کرد.

۹- خطر بزرگ زباله ها در دنیای امروزی چیست؟

زباله، فقط مشکل کشور ما نیست. موضوع دفع زباله ها در دنیای امروز یک مسئله بسیار مهم زیست محیطی جهانی است که کل سیاره زمین را به عنوان تنها سکونتگاه بشر در معرض مخاطره قرار داده است. همه کشورها اعم از کشورهای پیشرفته صنعتی و کشورهای در حال صنعتی شدن با این مشکل روبه رو هستند.

۱۰- تولید زباله در کشورهای پیشرفته و عقب مانده مقایسه کنید.

میزان تولید زباله در کشورهای پیشرفته صنعتی بسیار بیش تر است. فردی که در ایالات متحده امریکا زندگی می کند، نسبت به فردی که در یک کشور افریقایی ساکن است، ۱۴ برابر بیشتر کاغذ و ۱۹ برابر بیشتر آلومینیوم مصرف می کند و بنابراین، بیشتر به محیط زیست لطمه می زند. ایالات متحده امریکا سالانه ۱۵۰ میلیون تن زباله تولید می کند. یک استرالیایی یا یک کانادایی سالانه ۶۸۰ کیلوگرم زباله تولید می کند، در حالی که این رقم برای یک نفر در زامبیا کم تر از ۱۰۰ کیلوگرم است.

۱۱- مدیریت پسماند چیست؟

30
برای عضویت در کانال تست نهم، یازدهم و دوازدهم روی اینجا بزنید

مدیریت پسماند یا دفع زباله عبارت است از همه فعالیت هایی که برای جمع آوری، حمل و نقل، پردازش، بازیافت، دفن بهداشتی یا انهدام زباله ها انجام می شود.

۱۲- کشورهای مختلف در مدیریت پسماند مقایسه کنید.

برخی کشورها در مدیریت پسماند بسیار موفق بوده اند و برخی هنوز نتوانسته اند به روش هایی مناسب دست پیدا کنند.

۱۳- در کشور ما کدام سازمان امور مربوط به پسماند را برعهده دارد؟

«سازمان مدیریت پسماند» که وابسته به شهرداری است، امور مربوط به پسماند را برعهده دارد.

۱۴- زباله های ما چه سرنوشتی پیدا می کنند؟

حمل ، گورستان زباله، سوزاندن زباله، تولید انرژی از زباله، تولید پوسال (کمپوست) و بازیافت

۱۵- زباله های خانگی توسط کامیون های حمل زباله به کجا برده می شود؟

زباله های خانگی و خیابان ها در کامیون های جمع آوری زباله تخلیه می شوند. سپس این ماشین ها، زباله ها را به «گورستان زباله» می برند.

۱۶- خاکچال یا گورستان زباله چیست؟

«خاکچال» یا «گورستان زباله» گودالی است که آن را برای انبار کردن پسماند، حفر می کنند.

۱۷- گورستان زباله معمولاً در کجا ساخته می شود؟

گورستان ها را معمولاً در خارج از شهرها و مناطق مسکونی، بنا می کنند.

۱۸- گورستان زباله چگونه ساخته می شود؟

پوشش پلاستیکی و خاک رس را مانند آستر در ته گورستان وکناره های گودال قرار می دهند. پس از ریختن زباله در گودال، روی آن یک لایه خاک می ریزند و آن را با بولدوزر صاف می کنند.

۱۹- شیرابه های زباله چگونه آب های زیرزمینی را آلوده می کند؟

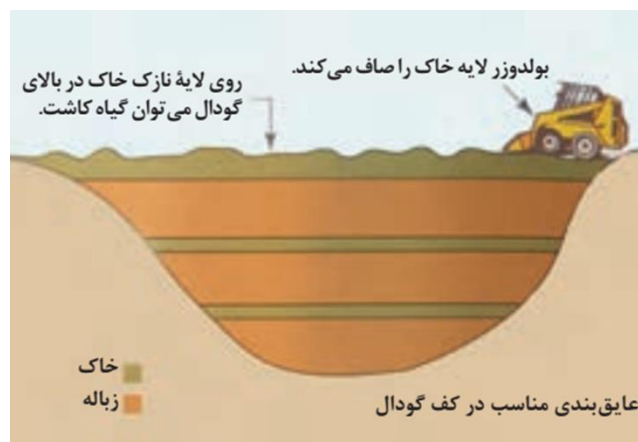
اگر دفن زباله با اصول و شرایط صحیح صورت نگیرد، شیرابه زباله ها به زمین نشت میکند و وارد آب های زیرزمینی می شود.

۲۰- برای جلوگیری از انفجار گورستان زباله باید چه اقداماتی انجام شود؟

به علت تجمع گاز ناشی از زباله ها در زیر خاک، ممکن است انفجار رخ دهد. به همین دلیل، لوله هایی برای خارج کردن گاز در این محل نصب می کنند.

۲۱- چرا گورستان ها در نواحی پر باران مشکلات بیش تری ایجاد می کنند؟

گورستان های زباله در مناطق پر باران و مرطوب مشکلات بیش تری از نظر روان شدن شیرابه ها ایجاد می کنند.



۲۲- پیامدهای دفن غیر بهداشتی زباله ها را بنویسید.

اگر زباله ها به طور بهداشتی دفن نشوند یا بخشی از آنها در زمین هاپراکنده شوند، انواع آلودگی ها از طریق پرندگان و دام ها وارد چرخه غذایی می شود و موجودات زنده و انسان را بیمار می کند.

32
برای عضویت در کانال تست نهم، یازدهم و دوازدهم روی اینجا بزنید

۲۳- پیامدهای پراکندگی زباله در سطح آب ها و زمین های شیب دار چیست؟

پراکندگی زباله در سطح آب ها و زمین به ویژه زمین های شیب دار موجب سرازیر شدن شیرابه ها می شود و شیوع انواع بیماری های عفونی و خطرناک و تجمع و افزایش جانوران موذی را به دنبال دارد.

۲۴- چرا ما مرتباً به مکان های جدید برای دفن زباله نیاز داریم؟

حتی اگر دفن زباله به شیوه بهداشتی صورت بگیرد، وقتی گورستان زباله پر می شود باید، به سراغ کندن گودال دیگری برای دفن زباله برویم. بنابراین، ما مرتباً به مکان های جدید برای دفن زباله نیاز داریم؛ چون گورستان ها پر شده اند و یا در حال پر شدن هستند.

۲۵- پیامدهای سوزاندن زباله را بنویسید.

سوزاندن زباله در دستگاه های زباله سوز نیز مشکلاتی چون آلودگی هوا را در پی دارد و خاکسترهای حاصل از سوزاندن آن نیز سمی است و باید دفن شود.

۲۶- کدام کارخانه های زباله سوز گران و پرهزینه اند؟

احداث کارخانه های زباله سوز به ویژه اگر مجهز به فناوری های پیشرفته باشند و استانداردهای آلایندهی راداشته باشند گران و پرهزینه اند.

۲۷- نحوه تولید انرژی از زباله را بنویسید.

امروزه با احداث نیروگاه های زباله سوز، انرژی گرمایی و الکتریکی از سوزاندن زباله به دست می آورند.

۲۸- نیروگاه های بیوگاز چگونه کار می کنند؟

هم چنین نیروگاه های زیستگاز (بیوگاز) با استفاده از گاز حاصل از زباله هایی که منشأ زیستی دارند، برق و گرما تولید می کنند.

۲۹- نیروگاه های بیوگاز در کشور ما در کجا قرار دارند؟

در ایران، نیروگاه های زیست گاز شیراز و مشهد نمونه ای از این نیروگاه هاست.

۳۰- پوسال (کمپوست) چیست؟

پوسال (کمپوست) نوعی کود آلی و طبیعی است که در اثر فرایندهای زیستی حاصل می شود.

۳۱- روش به دست آمدن پوسال (کمپوست) را بنویسید.

این کود آلی در اثر پوسیده شدن و تجزیه بقایای گیاهی مانند سبزی ها، میوه ها، علف ها، برگ ها و پسماندهای خانگی و شهری با روش خاصی به دست می آید. به این کود، خاکبرگ هم می گویند. در گذشته نیز کشاورزان از فضولات انسانی و حیوانی، کود تهیه می کردند و با آن خاک را قوت می بخشیدند.

۳۲- مهم ترین کاربردهای پوسال (کمپوست) را نام ببرید.

کودی که از پسماندهای کشاورزی و خانگی و خوراکی تهیه می شود، بسیار مغذی است و می توان در باغداری، کشاورزی و تقویت خاک باغچه و گلدان از آن استفاده کرد.

۳۳- چرا بسیاری از موادی که در سطل یا کیسه زباله وجود دارد لازم نیست از گورستان های زباله سردر بیاورند؟

بسیاری از موادی که در سطل یا کیسه زباله شما وجود دارند، لازم نیست از گورستان زباله سر در بیاورند یا سوزانده شوند؛ زیرا می توان از این چیزهای کهنه، محصولات جدید و قابل استفاده تولید کرد.

۳۴- کدام پسماندها قابل تبدیل به مواد جدید هستند؟

انواع بسته بندی ها، کاغذ، مقوا، قوطی های کنسرو و رب، بطری های پلاستیکی، شیشه، قطعات پلاستیکی و کیسه نایلون، قابل تبدیل به مواد جدید هستند.

۳۵- در کارخانه های بازیافت چه کارهای انجام می شود؟

در کارخانه های بازیافت، کاغذهای مصرف شده را به خمیر تبدیل می کنند و دوباره از آن کاغذ درست می کنند. شیشه ها، قوطی های آلومینیومی، ظروف پلاستیکی و بطری های آب و شیر و مانند آن را در کوره های بسیار داغ ذوب می کنند و در قالب می ریزند و یا به ورقه هایی تبدیل می کنند و سپس از آن ها محصولات جدیدی می سازند.

۳۶- چرا بازیافت می کنیم؟

الف-موادی مانند روزنامه، قوطی های آلومینیومی، بطری پلاستیکی و ... که روزانه از آنها استفاده می کنیم، همگی از زمین به دست می آیند. به عبارت دیگر برای تولید آنها از منابع طبیعی استفاده می شود. بازیافت موجب حفاظت از منابع و صرفه جویی در مصرف آن می شود.

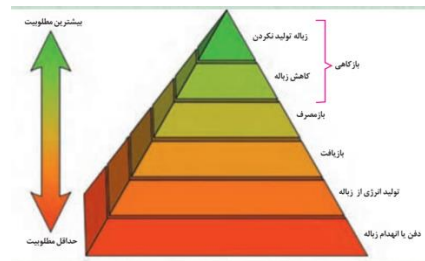
ب-بازیافت موجب صرفه جویی در مصرف انرژی می شود. چون استخراج مواد از زمین قبلاً یک بار انجام شده و به علاوه برای تبدیل مواد استفاده شده به مواد نو، کم تر انرژی مصرف می شود. برای مثال تولید آلومینیوم بازیافت شده ۹۰ درصد انرژی کمتری از تولید آن از سنگ معدن نیاز دارد.

پ-بازیافت موجب کاهش آلودگی هوا می شود. برای مثال تولید شیشه با مواد بازیافت شده آلودگی تولید را ۱۴ درصد تا ۲۰ درصد کاهش می دهد و یا یک قوطی آلومینیومی با مواد بازیافت شده ۹۵ درصد نسبت به ساختن آن از مواد خام کم تر آلودگی ایجاد می کند.

ت- از پخش و پراکنده شدن موادی چون پلاستیک در طبیعت که زیان های جبران ناپذیری برای آب و خاک و موجودات زنده به وجود می آورد، جلوگیری می کنند همانطور که می دانید مواد آلی و بقایای گیاهی و جانوری در خاک تجزیه می شوند؛ اما برخی مواد مصنوعی سال ها زمان نیاز دارند که تجزیه شوند و به اصطلاح تجزیه ناپذیرند.



۳۷-هرم را توضیح دهید.



این هرم مربوط به هرم پسماند می باشد. در راس هرم بیشترین مطلوبیت را می بینیم و در قاعده هرم حداقل مطلوبیت را می توان دید. بهترین کاربرای کاهش تولید زباله بر طبق هرم پسماند این است که یا زباله تولید نشود و یا زباله کمی تولید شود که به آن بازگاهی گفته می شود و یا با مصرف زباله و یا بازیافت و یا تولید انرژی از زباله و حداقل مطلوبیت، دفن یا انهدام زباله می باشد.

درس ۶

۱- علت کاربرد واژه تنوع زیستی را بنویسید.

برای توصیف گوناگونی حیات، واژه تنوع زیستی را به کار می برند.

۲- سه سطح تنوع زیستی را نام ببرید.

بوم سازگان، گونه و ژن

۳- اهمیت تنوع زیستی را بنویسید.

مشاغل یا فعالیت هایی مانند صیادی، جمع آوری گیاهان دارویی و چرای دام در مراتع، وابسته به تنوع زیستی است.

۴- پیامدهای از بین رفتن هرگونه جاندار را بنویسید.

با از بین رفتن هرگونه جاندار، بهره و آنچه را می توانستیم از آن بیاموزیم از دست می دهیم.

۵- وظیفه انسان درمقابل هر جاندار چیست؟

هر جانداری به خودی خود حق زندگی دارد و انسان به عنوان اشرف مخلوقات وظیفه دارد از حیات آنها حمایت کند.

۶- تنوع زیستی بالا و ارزشمند ایران را توضیح دهید.

حدود ۸۰۰۰ گونه گیاه آونددار در ایران شناسایی شده اند. این تعداد، معادل ۸۰ درصد گونه های گیاهی قاره اروپاست. بسیاری از این گونه ها، بوم زاد یا انحصاری ایران و عناصر بالارزش و سرمایه های ملی محسوب می شوند.

۷- گونه های بوم زاد چیست؟

گونه های بوم زاد، منحصر به یک منطقه جغرافیایی خاص اند و در جای دیگری وجود ندارند.

۸- تعداد جانوران مهره دار و بی مهره در ایران را بنویسید.

در ایران بیش از ۱۴۰۰ گونه جانور مهره دار و تعداد فراوانی جانور بی مهره وجود دارد.

۹- نقاط داغ تنوع زیستی چیست؟

مناطق در کره زمین وجود دارند که علاوه بر داشتن تنوع گونه ای زیاد، زیستگاه تعداد فراوانی از گونه های بوم زادند که بعضی از آنها در خطر انقراض هستند. به این مناطق نقاط داغ تنوع زیستی می گویند.

۱۰- مهم ترین نقاط داغ ایران در کجای ایران قرار دارد؟

جنگل های ارسباران، البرز، کوه های شمال شرق ایران و رشته کوه های زاگرس، در بخشی از این نقاط قرار دارند.



۱۱- انقراض چیست؟

اگر محیط زیست برای حیات جاننداری مناسب نباشد، ممکن است گونه به طور کامل نابود شود. به این پدیده انقراض میگویند.

۱۲- وضعیت انقراض گونه های گیاهی و جانوری در جهان امروزی را بنویسید.

انقراض از ابتدای شکل گیری حیات روی کره زمین وجود داشته است؛ اما امروزه سرعت از بین رفتن گونه ها افزایش یافته است. در حال حاضر تعدادی از گونه های گیاهی و جانوری در ایران در معرض خطر انقراض قرار دارند.

۱۳- برداشت بی رویه چیست؟

منظور از برداشت بی رویه این است که سرعت برداشت و بهره برداری از تنوع زیستی بیش از سرعت بازسازی آن باشد. در این حالت، استفاده ما از تنوع زیستی ناپایدار است؛ مانند چرای بی رویه دام ها، شکار غیرقانونی و صیدانبوه.

۱۴- پیامدهای صید انبوه ماهی را بنویسید.

صید انبوه ماهی، افزون بر کاهش جمعیت ماهی ها، حیات گونه های غیر خوراکی را نیز تهدید می کند.

۱۵- عوارض آلودگی محیط زیست بر گونه های گیاهی و جانوری را بنویسید.

الف- آلودگی محیط ممکن است باعث مرگ افراد گونه ها شود.

ب- گاهی آلاینده ها جانداران را از بین نمی برند؛ بلکه با تأثیر بر شرایط تولیدمثلی، باعث کاهش جمعیت گونه در طول زمان می شوند.

پ- همچنین تولد جانوران با ناهنجاری های مادرزادی از عوارض آلودگی محیط زیست است.

۱۶- گونه بیگانه چیست؟

اگر گونه ای وارد زیستگاهی شود که به طور طبیعی در آنجا زندگی نمی کند، برای آن زیستگاه گونه بیگانه محسوب می شود.

۱۷- چگونه گونه های بیگانه به گونه مهاجم تبدیل می شوند؟

در بسیاری از موارد گونه های بیگانه می توانند به گونه بیگانه مهاجم تبدیل شوند. این گونه ها در رقابت با گونه های بومی در استفاده از منابع موفق تر عمل می کنند.

۱۸- نتیجه تبدیل گونه بیگانه به گونه مهاجم چیست؟

گونه بیگانه به سرعت در زیستگاه جدید رشد و تکثیر می یابند و حیات گونه های بومی را به خطر می اندازند.

۱۹- پیامدهای تغییر اقلیم بر گونه های گیاهی و جانوری را بنویسید.

تغییر دما و الگوهای بارشی، باعث تغییر اقلیم و در نتیجه تغییر محدوده جغرافیایی پراکنش گونه ها می شوند. همچنین زمان تولید مثل جانوران، طول دوره رشد، فراوانی آفات و بیماری ها، و زمان مهاجرت گونه های جانوری نیز با تغییر اقلیم، تغییر می کند.

درس ۷

۱- گردشگری را تعریف کنید.

سفر و فعالیتی که خارج از محل زندگی انجام می شود و فرد برای حداقل یک روز و حداکثر یک سال

جهت تفریح و اهدافی دیگر در مکانی غیر از محل زندگی اقامت و گشت و گذار می نماید.

۲- مهم ترین اهداف گردشگران خارجی و داخلی از سفر به ایران را نام ببرید.

انواع جاذبه های طبیعی، فرهنگی و تاریخی در ایران، علاوه بر گردشگری داخلی، هدفی ارزشمند برای گردشگری خارجی به شمار می رود.

۳- مزایای توسعه منطقی گردشگری را بنویسید.

الف- گردشگری نقش مؤثری نیز در شکوفایی اقتصادی، فرهنگی و سیاسی کشورهای میزبان ایفا می کند. از زمان ورود یک گردشگر، او برای تأمین غذا و اقامت، رفت و آمد، تفریح و گشت و گذار، خرید سوغات و دیدن جاذبه های یک منطقه هزینه می کند.

۲- ارائه خدمات گردشگری، ایجاد فرصت هایی برای جذب سرمایه و مشاغل نوین مانند تأسیس مهمان پذیرها (بزرگ و کوچک)، مراکز پذیرایی، شرکت های خدمات مسافرتی و گردشگری و... در جوامع میزبان می شود.

۳- گردشگری با چه عواملی رابطه تنگاتنگ دارد؟

گردشگری با امنیت سیاسی، اقتصادی و احترام متقابل رابطه تنگاتنگی دارد.

۴- چرا گردشگری از بعد فرهنگی و اجتماعی مهم است؟

گردشگری از بعد فرهنگی و اجتماعی نیز مهم است، زیرا جوامع و کشورهای میزبان می توانند از طریق گردشگران به ترویج زبان، فرهنگ و رسوم اجتماعی خود بپردازند.

۵- دو نمونه از نحوه برخورد با جاذبه های گردشگری را بنویسید.

برخورد منفی مانند گروه های افراطی تکفیری مانند داعش در کشورهای عراق، سوریه و منطقه حجاز آثار تاریخی بی شماری را نابود کردند.

برخورد مثبت مانند شهرستان شوشتر، به واسطه وجود سازه های آبی - تاریخی و سایر اماکن فرهنگی و توجه مسئولان در حال حاضر با ظرفیت سازی لازم به یکی از اهداف گردشگری ایران تبدیل شده است.

۶- پیشنهاد گردشگری در ایران را توضیح دهید.

ایران یکی از کشورهای است که قدمت طولانی در گردشگری دارد. موقعیت جغرافیایی، تنوع نژادی، زبانی، قومی، فرهنگی، جاذبه های طبیعی و متنوع و همچنین ویژگی های اخلاقی مردم و علاقه به سیر و سفر از عوامل اصلی گردشگری در ایران محسوب می شود.

۷- کاروانسرا را تعریف کنید.

کاروانسراها منازلی در بین مسیرهای طولانی بودند. مردم و کاروان های تجاری در این منازل اقامت می کردند. این کاروانسراها امکانات متفاوتی داشتند.

۸- وضعیت امروزی کاروانسراهای ایران چگونه است؟

امروزه با بازسازی برخی از این کاروانسراها آنها را به محل اقامت مسافران تبدیل نموده اند.

۹- روز آشتی با طبیعت چه روزی است؟

سیزده به در، روز آشتی با زمین و طبیعت است.

۱۰- علل برگزاری مراسم سیزده به در در ایران باستان چیست؟

سیزده به در، سیزدهمین روز فروردین ماه و از جشن های نوروزی است. ایرانیان باستان در آغاز سال نو، پس از دوازده روز جشن و شادی به نشانه دوازده ماه سال، در روز سیزدهم با رفتن به دامان طبیعت و همزیستی با آن خود را برای سالی نیکو و پر از برکت آماده می کردند.

۱۱- سفرنامه نویسی چیست؟

سفرنامه نویسی سبکی ادبی است که در آن شخص، دیده ها، شنیده ها، جزئیات، احساسات و رخدادهای دوران سفر را برای دیگران می نگارد.



۱۲- آثار نامطلوب گردشگری بدون برنامه ریزی و مدیریت را بنویسید.

الف- گاهی گردشگران بناهای تاریخی را تخریب می کنند. برای مثال قطعه ای از یک اثر تاریخی را برمی دارند و به عنوان یادگاری با خود می برند. آثار هنری را از مساجد، صومعه ها، کلیساها و معابد برمی دارند. کاشی ها را از دیوارها در می آورند و نام خود را روی دیوارهای باستانی و آثار طبیعی حک می کنند. از اصلی ترین پیامدهای حضور گردشگر، ایجاد تغییرات و تخریب ها در چشم اندازها و منظرهای طبیعی است که قطعا در دراز مدت نقشی اساسی در تغییر محیط زیست هر منطقه دارد.

ب- استفاده بی رویه از منابع طبیعی، آب و سایر اجزای زنده و غیره زنده محیط زیست می تواند یکی دیگر از آثار نامطلوب گردشگری بدون برنامه ریزی و مدیریت باشد .

پ-در برخی از مناطق گردشگری، انواع اماکن اقامتی، مجتمع های گردشگری و تجاری ساخته می شوند که بدون توجه به شرایط طبیعی و توان محیط زیست توسعه می یابند. گاهی اوقات ورود به پهنه های بومی شرایط را برای مردم محلی نیز غیر قابل تحمل می کند.

۱۳- بوم گردشگری چیست؟

بوم گردشگری یک مسافرت مسئولانه به مناطق طبیعی است که محیط زیست را حفظ می کند و در ارتقای سطح زندگی مردم محلی نقش بسزایی دارد.

۱۴- انواع بوم گردشگری را بنویسید.

بوم گردشگری انواع مختلفی از گردشگری را شامل می شود که می تواند حتی یک سفر علمی یا گذراندن تعطیلات آخر هفته در حومه یک شهر یا روستا باشد. تمام انواع گردشگری به نوعی می توانند در طبقه بندی بوم گردشگری بگنجانند.

۱۵- معنای عام بوم گردشگری را بنویسید.

در مفهوم عام، بوم گردشگری شامل گشت و گذار در محیط های طبیعی و بکر دارای عناصر طبیعی منحصر به فرد است، برای مثال گردش در غارها، کوه ها، آبشارها، بیابان ها، کویرها، جنگل ها، تندرا و دیگر عوارض و پدیده های طبیعی.

۱۶- در چه صورتی بازدید از مکان های تاریخی و باستانی از مصادیق بوم گردشگری است؟

اما بازدید از مکان های تاریخی و باستانی با انواع فرهنگ ها و قومیت ها که جنبه های زیبایی شناختی و فرهنگی دارد، اگر سازگار با حفظ و حمایت از محیط زیست باشد نیز از مصادیق بوم گردشگری است.

۱۷- سه ویژگی بوم گردشگری را بنویسید.

الف- سفری که حامی حفاظت از تنوع زیستی و محیط زیست و با حداقل آثار نامطلوب محیط زیستی باشد.

ب- سفری که برای جوامع میزبان محلی سودمند باشد.

پ- سفری که به درک و فهم عمیق از طبیعت و محیط زیست منجر شود.

۱۸- هدف اصلی بوم گردشگری چیست؟

در واقع دست یابی به پایداری محیط زیست هدف اصلی بوم گردشگری است.

۱۹- برای دست یابی به توسعه پایدار گردشگری چه اقداماتی لازم است؟

برای دستیابی به توسعه پایدار گردشگری ارائه انواع آموزش هابسیار اهمیت دارد، به طوری که فرهنگ گردشگران به سمت حفظ و حمایت از محیط زیست سوق داده شود.

۲۰- درک ساده از بوم گردشگری چیست؟

شاید درک ساده ای از بوم گردشگری تنها وقت گذرانی و انجام هر فعالیتی در طبیعت باشد. مانند تاب بستن بردرخت

۲۱- چرا مزارع روستایی از مقاصد بوم گردشگری است؟

مزارع روستایی به منظور حمایت از کشاورزی پایدار بومی در کشورهای محروم برای کشت و پرورش انواع گونه های خاص گیاهی و جانوری نیز از مقاصد بوم گردشگری هستند.

۲۲- مهم ترین اهداف بوم گردشگری در جوامع در معرض خطر را بنویسید.

برخی از اهداف بوم گردشگری به حفاظت از زمین و معیشت جوامع در معرض خطر به دلیل توسعه ناپایدار صنعت، جنگل زدایی و غیره تمرکز می کنند.

۲۳- مهم ترین اقدامات بوم گردشگری در جوامع در معرض خطر را بنویسید.

در این جهت تعامل با مردم محلی برای کاشت درختان، توسعه معاملات محلی، تجهیز خانه ها و ارائه آموزش های لازم برای ارتقای آگاهی، حفظ و احترام به محیط زیست و فرهنگ مردم محلی انجام می شود.

۲۴- مناطق تحت حفاظت ایران توسط سازمان محیط زیست کشور را نام ببرید.

الف- پارک های ملی

ب- آثار طبیعی ملی

پ- منطقه حفاظت شده

ت- پناهگاه حیات وحش

۲۵- پارک ملی را تعریف کنید.

به محدودهای از منابع طبیعی کشور گفته می شود که نمایانگر نمونه های برجسته ای از مظاهر طبیعی ایران است. پارک های ملی به منظور حفظ و ایجاد محیط مناسب برای تکثیر و پرورش جانوران وحشی و رشد رستنی ها در شرایط کاملاً طبیعی تحت حفاظت قرار می گیرند. گردشگری در پارک های ملی با رعایت قوانین و مقررات سازمان حفاظت محیط زیست و در مناطق مشخص شده انجام می شود.

۲۶- آثار طبیعی ملی را تعریف کنید.

پدیده ها یا مجموعه های گیاهی و جانوری به نسبت کوچک، جالب، کم نظیر، استثنایی و غیرقابل جایگزین که دارای ارزش های حفاظتی، علمی، تاریخی یا طبیعی هستند.

۲۷- منطقه حفاظت شده را تعریف کنید.

اراضی که از نظر حفاظت دارای ارزش استراتژیک است و به منظور حراست، ترمیم و احیای حیات جانوری و گیاهی و جلوگیری از انهدام تدریجی آنها انتخاب می شوند. این مناطق که نسبتاً وسیع هستند برای فعالیت های تفرجگاهی و گردشگری براساس مقررات و محدودیت های تنظیم شده مورد استفاده قرار می گیرند.

۲۸- پناهگاه حیات وحش را تعریف کنید.

مناطق از انواع زیستگاه های نمونه اند که برای حمایت از جمعیت گونه های حیات وحش که اهمیت ملی دارند، انتخاب می شوند. این مناطق، محیط های مناسبی برای فعالیت های آموزشی و پژوهشی محسوب میشوند. فعالیت های گردشگری کنترل شده و در ابعاد محدود در پناه گاهها مجاز است.

۲۹- برخی از قوانین و مقررات مناطق حفاظت شده ایران را بنویسید.

- تیراندازی و شکار در پارک های ملی ممنوع است.

- چرای دام، قطع درختان، بوته کنی، تجاوز و تخریب محیط زیست و به طور کلی هر عملی که موجب از بین

رفتن رستنی ها و تغییر بومسازگان (اکوسیستم) شود، در پارک ملی و آثار طبیعی ملی ممنوع است.

- هرگونه بهره برداری در پناهگاه های حیات وحش و مناطق حفاظت شده بدون مجوز ممنوع است.

- ورود به مناطق تحت حفاظت و عبور از آنها به استثنای جاده های عمومی تابع دستورالعمل سازمان حفاظت

محیط زیست خواهد بود.

۳۰- توسعه پایدار چیست؟

، توسعه پایدار توسعه ای است که نیازهای فعلی جامعه را برآورده می سازد، بدون آنکه به نیازهای نسل های آینده صدمه ای وارد شود.

۳۱- گردشگری پایدار چیست؟

گردشگری پایدار به معنای رسیدن به رشد در شیوه حفظ طبیعت، محیط زیست، فرهنگ، تاریخ و تمدن در جوامع است. میان گردشگران، جوامع میزبان، جاذبه های گردشگری و محیط زیست، ارتباطی متقابل و پیچیده وجود دارد.

۳۲- گردشگری مسئولانه یعنی چه؟

گردشگری مسئولانه یعنی همانطور که ما وقتی به مهمانی می رویم، خانه میزبان خود را آلوده یا تخریب نمی کنیم پس باید همین رفتار را هنگام گردشگری نیز رعایت کنیم. اگر چه بابت سفرمان هزینه پرداخت می کنیم، اما این موضوع باعث نمی شود که به میزبان بی احترامی کنیم یا خانه او را خراب کنیم. از طریق ارتباط بیش تر با زندگی مردم محلی و درک مسائل فرهنگی، اجتماعی و محیط زیستی، گردشگران لذت بیش تری می برند. مسئولیت پذیری هنگام گردشگری نشانه سطح فرهنگی و تربیتی یک جامعه است.